

Education Consultant India Ltd.

Notations :

- Options shown in green color and with ✓ icon are correct.
- Options shown in red color and with ✗ icon are incorrect.

Question Paper Name:	Assistant Teacher Primary 14th November 2019 Shift 1
Subject Name:	ASSISTANT TEACHER PRIMARY
Creation Date:	2019-11-14 12:34:01
Duration:	120
Total Marks:	200
Display Marks:	Yes
Share Answer Key With Delivery Engine:	No
Actual Answer Key:	Yes
Calculator:	None
Magnifying Glass Required?:	No
Ruler Required?:	No
Eraser Required?:	No
Scratch Pad Required?:	No
Rough Sketch/Notepad Required?:	No
Protractor Required?:	No
Show Watermark on Console?:	Yes
Highlighter:	No
Auto Save on Console?:	No

Mental Ability

Group Number :	1
Group Id :	9983671311
Group Maximum Duration :	0
Group Minimum Duration :	0
Revisit allowed for view? :	No
Revisit allowed for edit? :	No
Break time:	0
Group Marks:	20
Revisit allowed for group Instructions? :	Yes
Maximum Instruction Time:	0
Minimum Instruction Time:	0

Mental Ability

Section Id :	9983671710
Section Number :	1
Section type :	Online
Mandatory or Optional:	Mandatory
Number of Questions:	20
Number of Questions to be attempted:	20
Section Marks:	20

Display Number Panel: Yes
Group All Questions: No

Sub-Section Number: 1
Sub-Section Id: 9983672124
Question Shuffling Allowed : Yes

Question Number : 1 Question Id : 99836741243 Question Type : MCQ Option Shuffling : Yes Display Question Number : Yes
Single Line Question Option : No Option Orientation : Vertical

Correct Marks : 1 Wrong Marks : 0.25

A series is given with one term missing. Select the correct alternative from the given ones that will complete the series.

JR11, LV13, NZ15, ?, RH19

Options :

1. ✓ PD17
2. ✗ QD18
3. ✗ OC16
4. ✗ PC17

Question Number : 1 Question Id : 99836741243 Question Type : MCQ Option Shuffling : Yes Display Question Number : Yes
Single Line Question Option : No Option Orientation : Vertical

Correct Marks : 1 Wrong Marks : 0.25

एक अनुक्रम दिया गया है, जिसमें से एक पद लुप्त है। दिए गए विकल्पों में से वह सही विकल्प चुनिए, जो अनुक्रम को पूरा करे।

JR11, LV13, NZ15, ?, RH19

Options :

1. ✓ PD17
2. ✗ QD18
3. ✗ OC16
4. ✗ PC17

Question Number : 2 Question Id : 99836741244 Question Type : MCQ Option Shuffling : Yes Display Question Number : Yes
Single Line Question Option : No Option Orientation : Vertical

Correct Marks : 1 Wrong Marks : 0.25

A series is given with one term missing. Select the correct alternative from the given ones that will complete the series.

PRAT, ULHC, ZFOL, EZVU, ?

Options :

1. ✗ KTDD
2. ✓ JTCD
3. ✗ JTDE
4. ✗ LTCD

Question Number : 2 Question Id : 99836741244 Question Type : MCQ Option Shuffling : Yes Display Question Number : Yes
Single Line Question Option : No Option Orientation : Vertical

Correct Marks : 1 Wrong Marks : 0.25

एक अनुक्रम दिया गया है, जिसमें से एक पद लुप्त है। दिए गए विकल्पों में से वह सही विकल्प चुनिए, जो अनुक्रम को पूरा करे।

PRAT, ULHC, ZFOL, EZVU, ?

Options :

1. ✖ KTDD
2. ✔ JTCD
3. ✖ JTDE
4. ✖ LTCD

Question Number : 3 Question Id : 99836741245 Question Type : MCQ Option Shuffling : Yes Display Question Number : Yes
Single Line Question Option : No Option Orientation : Vertical

Correct Marks : 1 Wrong Marks : 0.25

In the following question, select the odd letter /letters from the given alternatives.

Options :

1. ✖ FIL
2. ✖ RUX
3. ✔ LPS
4. ✖ TWZ

Question Number : 3 Question Id : 99836741245 Question Type : MCQ Option Shuffling : Yes Display Question Number : Yes
Single Line Question Option : No Option Orientation : Vertical

Correct Marks : 1 Wrong Marks : 0.25

निम्नलिखित प्रश्न में दिए गए विकल्पों में से विषम अक्षर/अक्षरों को चुनिए।

Options :

1. ✖ FIL
2. ✖ RUX
3. ✔ LPS
4. ✖ TWZ

Question Number : 4 Question Id : 99836741246 Question Type : MCQ Option Shuffling : Yes Display Question Number : Yes
Single Line Question Option : No Option Orientation : Vertical

Correct Marks : 1 Wrong Marks : 0.25

In the following question, select the related words from the given alternatives.

Bat : Cricket :: Ball : ?

Options :

1. ✖ Chess
2. ✖ Skating
3. ✔ Football
4. ✖ Swimming

Question Number : 4 Question Id : 99836741246 Question Type : MCQ Option Shuffling : Yes Display Question Number : Yes
Single Line Question Option : No Option Orientation : Vertical

Correct Marks : 1 Wrong Marks : 0.25

निम्नलिखित प्रश्न में दिए गए विकल्पों में से संबंधित शब्दों को चुनिए।

बल्ला : क्रिकेट :: गेंद : ?

Options :

1. ✖ शतरंज

2. ✖ स्केटिंग
3. ✔ फुटबॉल
4. ✖ तैराकी

Question Number : 5 Question Id : 99836741247 Question Type : MCQ Option Shuffling : Yes Display Question Number : Yes
Single Line Question Option : No Option Orientation : Vertical

Correct Marks : 1 Wrong Marks : 0.25

In the following question, select the related letter pair from the given alternatives.

GRA : MMI :: ?

Options :

1. ✖ FRO : UMN
2. ✔ MIG : SDO
3. ✖ LAT : RUB
4. ✖ RUB : XQJ

Question Number : 5 Question Id : 99836741247 Question Type : MCQ Option Shuffling : Yes Display Question Number : Yes
Single Line Question Option : No Option Orientation : Vertical

Correct Marks : 1 Wrong Marks : 0.25

निम्नलिखित प्रश्न में दिए गए विकल्पों में से संबंधित अक्षर युग्म को चुनिए

GRA : MMI :: ?

Options :

1. ✖ FRO : UMN
2. ✔ MIG : SDO
3. ✖ LAT : RUB
4. ✖ RUB : XQJ

Question Number : 6 Question Id : 99836741248 Question Type : MCQ Option Shuffling : Yes Display Question Number : Yes
Single Line Question Option : No Option Orientation : Vertical

Correct Marks : 1 Wrong Marks : 0.25

In a certain code language, 'Robin is smart' is written as '7 6 4', 'People are intelligent' is written as '8 2 1', 'Smart are good' is written as '6 9 8'. What can be the code for 'is' in that code language?

Options :

1. ✔ 4
2. ✖ 9
3. ✖ 8
4. ✖ 2

Question Number : 6 Question Id : 99836741248 Question Type : MCQ Option Shuffling : Yes Display Question Number : Yes
Single Line Question Option : No Option Orientation : Vertical

Correct Marks : 1 Wrong Marks : 0.25

एक विशिष्ट कोड भाषा में, 'Robin is smart' को '7 6 4' लिखा जाता है, 'People are intelligent' को '8 2 1' लिखा जाता है, 'Smart are good' को '6 9 8' लिखा जाता है। इस कोड भाषा में 'is' का कोड क्या हो सकता है?

Options :

1. ✔ 4
2. ✖ 9
3. ✖ 8

4. ✖ 2

Question Number : 7 Question Id : 99836741249 Question Type : MCQ Option Shuffling : Yes Display Question Number : Yes
Single Line Question Option : No Option Orientation : Vertical

Correct Marks : 1 Wrong Marks : 0.25

Six boys J, K, L, M, N and P are sitting around a circular table facing towards the centre. J is second to the left of P. N is the immediate neighbour of P and J. K is second to the right of N. L is to the immediate to left of M. Who is third to the left of N?

Options :

1. ✖ M

2. ✔ L

3. ✖ P

4. ✖ K

Question Number : 7 Question Id : 99836741249 Question Type : MCQ Option Shuffling : Yes Display Question Number : Yes
Single Line Question Option : No Option Orientation : Vertical

Correct Marks : 1 Wrong Marks : 0.25

छह लड़के J, K, L, M, N तथा P केन्द्र की ओर मुख करके एक वृत्ताकार मेज के ईर्द - गिर्द बैठे हुए हैं। J, P के बायीं ओर दूसरा है। N, P तथा J का निकटतम पड़ोसी है। K, N के दायीं ओर दूसरा है। L, M के तुरंत बायीं ओर है। N के बायीं ओर तीसरा कौन है?

Options :

1. ✖ M

2. ✔ L

3. ✖ P

4. ✖ K

Question Number : 8 Question Id : 99836741250 Question Type : MCQ Option Shuffling : Yes Display Question Number : Yes
Single Line Question Option : No Option Orientation : Vertical

Correct Marks : 1 Wrong Marks : 0.25

Six persons G, H, R, T, U and V like any one car among C1, C2, C3, C4, C5 and C6. None of them likes same car. T likes C3. V and G don't like C1 and C2. R likes either C6 or C2. H likes C5. U likes either C2 or C6. Which of the following pair can represent the cars of U and V respectively?

Options :

1. ✔ C2, C5

2. ✖ C6, C1

3. ✖ C1, C5

4. ✖ C3, C4

Question Number : 8 Question Id : 99836741250 Question Type : MCQ Option Shuffling : Yes Display Question Number : Yes
Single Line Question Option : No Option Orientation : Vertical

Correct Marks : 1 Wrong Marks : 0.25

छह व्यक्ति G, H, R, T, U तथा V, C1, C2, C3, C4, C5 तथा C6 में से कोई एक कार पसंद करते हैं। उनमें से किसी को भी समान कार पसंद नहीं है। T को C3 पसंद है। V तथा G दोनों को C1 तथा C2 पसंद नहीं है। R को या तो C6 या C2 पसंद है। H को C5 पसंद नहीं है। U को या तो C2 या C6 पसंद है। निम्नलिखित में से कौन सा युग्म क्रमशः U तथा V की कारों को दर्शा सकता है?

Options :

1. ✔ C2, C5

2. ✖ C6, C1

3. ✖ C1, C5

4. ✖ C3, C4

Question Number : 9 Question Id : 99836741251 Question Type : MCQ Option Shuffling : Yes Display Question Number : Yes
Single Line Question Option : No Option Orientation : Vertical

Correct Marks : 1 Wrong Marks : 0.25

Height of 8 boys B1, B2, B3, B4, B5, B6, B7 and B8 are compared. Height of B3 will be least or maximum. Height of B4 is more than B6. Height of B8 is less than only 3 boys. Height of B2 is more than B1 but less than B8. Height of B2 is less than B3. If the height of B4 is less than B1, then which of the following sequence of their heights may be correct?

Options :

- ✗ B3>B7 = B5>B8>B2>B4>B1>B6
- ✗ B3>B7>B5>B2>B8>B1>B4>B6
- ✓ B3>B5 = B7>B8>B2>B1>B4>B6
- ✗ B3>B5>B7>B8>B2>B6>B1>B4

Question Number : 9 Question Id : 99836741251 Question Type : MCQ Option Shuffling : Yes Display Question Number : Yes
Single Line Question Option : No Option Orientation : Vertical

Correct Marks : 1 Wrong Marks : 0.25

8 लड़कों B1, B2, B3, B4, B5, B6, B7 तथा B8 की ऊँचाई की तुलना की गयी है। B3 की ऊँचाई या तो न्यूनतम या अधिकतम होगी। B4 की ऊँचाई, B6 से अधिक है। B8 की ऊँचाई केवल 3 लड़कों से कम है। B2 की ऊँचाई B1 से अधिक परन्तु B8 से कम है। B2 की ऊँचाई B3 से कम है। यदि B4 की ऊँचाई B1 से कम है, तो उनकी ऊँचाईयों का निम्नलिखित में से कौन सा क्रम सही है?

Options :

- ✗ B3>B7 = B5>B8>B2>B4>B1>B6
- ✗ B3>B7>B5>B2>B8>B1>B4>B6
- ✓ B3>B5 = B7>B8>B2>B1>B4>B6
- ✗ B3>B5>B7>B8>B2>B6>B1>B4

Question Number : 10 Question Id : 99836741252 Question Type : MCQ Option Shuffling : Yes Display Question Number : Yes
Single Line Question Option : No Option Orientation : Vertical

Correct Marks : 1 Wrong Marks : 0.25

In the following question below are given some statements followed by some conclusions based on those statements. Taking the given statements to be true even if they seem to be at variance from commonly known facts. Read all the conclusions and then decide which of the given conclusion logically follows the given statements.

Statements:

- All pink are blue.
- Some blue are red.

Conclusions:

- Some red are pink.
- No red is blue.

Options :

- ✗ Only conclusion I follows
- ✗ Only conclusion II follows
- ✗ Both conclusion I and II follows
- ✓ Neither conclusion I and II follows

Question Number : 10 Question Id : 99836741252 Question Type : MCQ Option Shuffling : Yes Display Question Number : Yes
Single Line Question Option : No Option Orientation : Vertical

Correct Marks : 1 Wrong Marks : 0.25

नीचे दिए गए प्रश्न में कुछ कथन और उनके बाद उन कथनों पर आधारित कुछ निष्कर्ष दिए गए हैं। दिए गए कथनों को सही माने, चाहे उनमें सामान्य ज्ञात तथ्यों से भिन्नता हो। सभी निष्कर्ष पढ़ें और फिर निर्धारित करें कि दिए गए कौन से निष्कर्ष, दिए गए कथनों के आधार पर युक्तिसंगत हैं।

कथन:

- I. सभी गुलाबी, नीला हैं।
- II. कुछ नीला, लाल हैं।

निष्कर्ष:

- I. कुछ लाल, गुलाबी हैं।
- II. कोई लाल, नीला नहीं है।

Options :

- 1. ✖ केवल निष्कर्ष I अनुसरण करता है
- 2. ✖ केवल निष्कर्ष II अनुसरण करता है
- 3. ✖ दोनों निष्कर्ष I तथा II अनुसरण करते हैं
- 4. ✔ न तो निष्कर्ष I तथा II अनुसरण करता है

Question Number : 11 Question Id : 99836741253 Question Type : MCQ Option Shuffling : Yes Display Question Number : Yes
Single Line Question Option : No Option Orientation : Vertical

Correct Marks : 1 Wrong Marks : 0.25

In the following question below are given some statements followed by some conclusions based on those statements. Taking the given statements to be true even if they seem to be at variance from commonly known facts. Read all the conclusions and then decide which of the given conclusion logically follows the given statements.

Statements:

- I. Some A are K.
- II. Some M are K.
- III. No M is J.

Conclusions:

- I. Some J are not M.
- II. Some M are A.
- III. No K is A.

Options :

- 1. ✖ Both conclusion I and II follows
- 2. ✔ Only conclusion I follows
- 3. ✖ Both conclusion I and III follows
- 4. ✖ Neither conclusion I, II and III follows

Question Number : 11 Question Id : 99836741253 Question Type : MCQ Option Shuffling : Yes Display Question Number : Yes
Single Line Question Option : No Option Orientation : Vertical

Correct Marks : 1 Wrong Marks : 0.25

नीचे दिए गए प्रश्न में कुछ कथन और उनके बाद उन कथनों पर आधारित कुछ निष्कर्ष दिए गए हैं। दिए गए कथनों को सही माने, चाहे उनमें सामान्य ज्ञात तथ्यों से भिन्नता हो। सभी निष्कर्ष पढ़ें और फिर निर्धारित करें कि दिए गए कौन से निष्कर्ष, दिए गए कथनों के आधार पर युक्तिसंगत हैं।

कथन:

- I. कुछ A, K हैं।
- II. कुछ M, K हैं।
- III. कोई M, J नहीं है।

निष्कर्ष:

- I. कुछ J, M नहीं है।
- II. कुछ M, A हैं।
- III. कोई K, A नहीं है।

Options :

1. ✖ दोनों निष्कर्ष I तथा II अनुसरण करते हैं
2. ✔ केवल निष्कर्ष I अनुसरण करता है
3. ✖ दोनों निष्कर्ष I तथा III अनुसरण करते हैं
4. ✖ न तो निष्कर्ष I, II तथा III अनुसरण करता है

Question Number : 12 Question Id : 99836741254 Question Type : MCQ Option Shuffling : Yes Display Question Number : Yes
Single Line Question Option : No Option Orientation : Vertical

Correct Marks : 1 Wrong Marks : 0.25

In the following question, select the related number from the given alternatives.

12 : 140 :: 29 : ?

Options :

1. ✖ 957
2. ✖ 845
3. ✔ 837
4. ✖ 839

Question Number : 12 Question Id : 99836741254 Question Type : MCQ Option Shuffling : Yes Display Question Number : Yes
Single Line Question Option : No Option Orientation : Vertical

Correct Marks : 1 Wrong Marks : 0.25

निम्नलिखित प्रश्न में दिए गए विकल्पों में से संबंधित संख्या को चुनिए।

12 : 140 :: 29 : ?

Options :

1. ✖ 957
2. ✖ 845
3. ✔ 837
4. ✖ 839

Question Number : 13 Question Id : 99836741255 Question Type : MCQ Option Shuffling : Yes Display Question Number : Yes
Single Line Question Option : No Option Orientation : Vertical

Correct Marks : 1 Wrong Marks : 0.25

A series is given with one term wrong. Select that wrong term from the given alternatives.

68, 32, 102, 136, 238, 374

Options :

1. ✔ 32
2. ✖ 102
3. ✖ 68
4. ✖ 238

Question Number : 13 Question Id : 99836741255 Question Type : MCQ Option Shuffling : Yes Display Question Number : Yes
Single Line Question Option : No Option Orientation : Vertical

Correct Marks : 1 Wrong Marks : 0.25

एक अनुक्रम दिया गया है, जिसमें से एक पद गलत है। दिए गए विकल्पों में से उस गलत पद को चुनिए।

68, 32, 102, 136, 238, 374

Options :

1. ✔ 32

2. ✖ 102
3. ✖ 68
4. ✖ 238

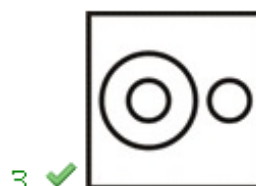
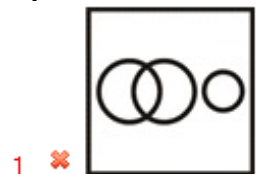
Question Number : 14 Question Id : 99836741256 Question Type : MCQ Option Shuffling : Yes Display Question Number : Yes
Single Line Question Option : No Option Orientation : Vertical

Correct Marks : 1 Wrong Marks : 0.25

Identify the diagram that best represents the relationship among the given classes.

Alphabet, Word, Number

Options :



Question Number : 14 Question Id : 99836741256 Question Type : MCQ Option Shuffling : Yes Display Question Number : Yes
Single Line Question Option : No Option Orientation : Vertical

Correct Marks : 1 Wrong Marks : 0.25

वह आरेख चुनिए जो नीचे दिए गए वर्गों के बीच के संबंध का सही निरूपण करता है।

अक्षर, शब्द, संख्या

Options :



3. ✓



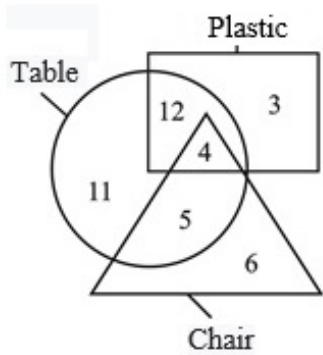
4. ✗



Question Number : 15 Question Id : 99836741257 Question Type : MCQ Option Shuffling : Yes Display Question Number : Yes
Single Line Question Option : No Option Orientation : Vertical

Correct Marks : 1 Wrong Marks : 0.25

How many plastic are table?



Options :

1. ✗ 12

2. ✗ 15

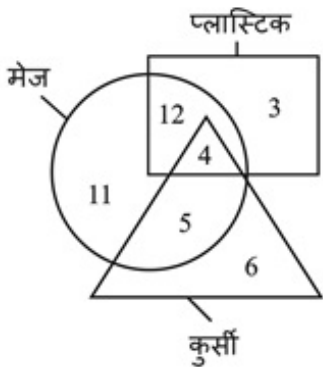
3. ✗ 19

4. ✓ 16

Question Number : 15 Question Id : 99836741257 Question Type : MCQ Option Shuffling : Yes Display Question Number : Yes
Single Line Question Option : No Option Orientation : Vertical

Correct Marks : 1 Wrong Marks : 0.25

कितनी प्लास्टिक्स मेज़ें हैं?



Options :

1. ✗ 12

2. ✗ 15

3. ✗ 19

4. ✓ 16

Question Number : 16 Question Id : 99836741258 Question Type : MCQ Option Shuffling : Yes Display Question Number : Yes
Single Line Question Option : No Option Orientation : Vertical

Correct Marks : 1 Wrong Marks : 0.25

Point R is 10 km to the south of point J. Point R is 14 km to the east of point S. Point S is 12 km to the north of point K. Point P is 7 km to the east of point K. In which direction is point P from point J?

Options :

1. ✗ South east
2. ✓ South west
3. ✗ North east
4. ✗ North west

Question Number : 16 Question Id : 99836741258 Question Type : MCQ Option Shuffling : Yes Display Question Number : Yes
Single Line Question Option : No Option Orientation : Vertical

Correct Marks : 1 Wrong Marks : 0.25

बिंदु R, बिंदु J से 10 कि.मी. दक्षिण की ओर है। बिंदु R, बिंदु S से 14 कि.मी. पूर्व की ओर है। बिंदु S, बिंदु K से 12 कि.मी. उत्तर की ओर है। बिंदु P, बिंदु K से 7 कि.मी. पूर्व की ओर है। बिंदु P, बिंदु J से किस दिशा में है?

Options :

1. ✗ दक्षिण पूर्व
2. ✓ दक्षिण पश्चिम
3. ✗ उत्तर पूर्व
4. ✗ उत्तर पश्चिम

Question Number : 17 Question Id : 99836741259 Question Type : MCQ Option Shuffling : Yes Display Question Number : Yes
Single Line Question Option : No Option Orientation : Vertical

Correct Marks : 1 Wrong Marks : 0.25

Minute hand of a clock is firstly rotated by 194° in clockwise direction. Then, it is rotated by 263° in anticlockwise direction. Now, it is rotated by 342° in anticlockwise direction. It is finally rotated by 612° in clockwise direction. Now, minute hand is facing towards south direction. In which direction it was facing initially?

Options :

1. ✗ South east
2. ✓ North west
3. ✗ North east
4. ✗ South west

Question Number : 17 Question Id : 99836741259 Question Type : MCQ Option Shuffling : Yes Display Question Number : Yes
Single Line Question Option : No Option Orientation : Vertical

Correct Marks : 1 Wrong Marks : 0.25

एक घड़ी की मिनट की सुई को दक्षिणावर्त दिशा में 194° घुमाया गया है। फिर, इसे वामावर्त दिशा में 263° घुमाया गया है। अब इसे वामावर्त दिशा में 342° घुमाया गया है। इसे अंततः दक्षिणावर्त दिशा में 612° घुमाया गया है। अब, मिनट की सुई दक्षिण दिशा की ओर है। वह आरंभ में किस दिशा की ओर थी?

Options :

1. ✗ दक्षिण पूर्व
2. ✓ उत्तर पश्चिम
3. ✗ उत्तर पूर्व
4. ✗ दक्षिण पश्चिम

Question Number : 18 Question Id : 99836741260 Question Type : MCQ Option Shuffling : Yes Display Question Number : Yes
Single Line Question Option : No Option Orientation : Vertical

Correct Marks : 1 Wrong Marks : 0.25

In the following question, select the figure which can be placed at the sign of question mark (?) from the given alternatives.



Options :



Question Number : 18 Question Id : 99836741260 Question Type : MCQ Option Shuffling : Yes Display Question Number : Yes
Single Line Question Option : No Option Orientation : Vertical

Correct Marks : 1 Wrong Marks : 0.25

निम्नलिखित प्रश्न में दिए गए विकल्पों में से प्रश्न चिन्ह (?) के स्थान पर आने वाली आकृति को चुनिए।



Options :



2. ✖



3. ✔



4. ✖



Question Number : 19 Question Id : 99836741261 Question Type : MCQ Option Shuffling : Yes Display Question Number : Yes
Single Line Question Option : No Option Orientation : Vertical

Correct Marks : 1 Wrong Marks : 0.25

From the given answer figures, select the one in which the question figure is hidden/embedded.



Options :

1. ✖



2. ✖



3. ✔



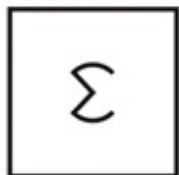
4. ✖



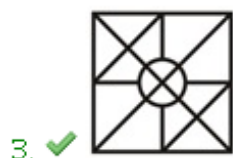
Question Number : 19 Question Id : 99836741261 Question Type : MCQ Option Shuffling : Yes Display Question Number : Yes
Single Line Question Option : No Option Orientation : Vertical

Correct Marks : 1 Wrong Marks : 0.25

दी गई उत्तर आकृतियों में से उस उत्तर आकृति को चुनिए जिस में प्रश्न आकृति निहित है।



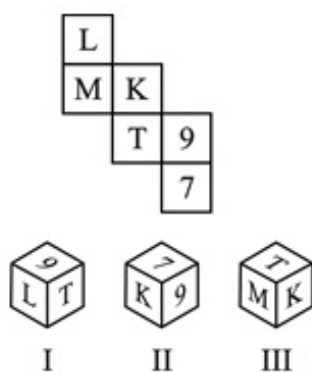
Options :



Question Number : 20 Question Id : 99836741262 Question Type : MCQ Option Shuffling : Yes Display Question Number : Yes
Single Line Question Option : No Option Orientation : Vertical

Correct Marks : 1 Wrong Marks : 0.25

By folding the given paper, which of the following cube can be made?



Options :

1. ✖ Only I

2. ✖ Both I and III

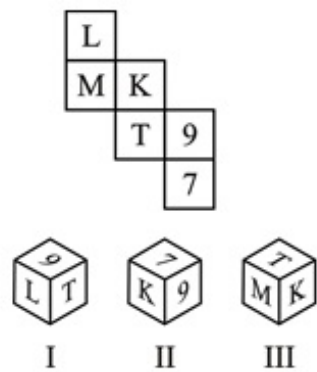
3. ✔ Only III

4. ✖ Both II and III

Question Number : 20 Question Id : 99836741262 Question Type : MCQ Option Shuffling : Yes Display Question Number : Yes
Single Line Question Option : No Option Orientation : Vertical

Correct Marks : 1 Wrong Marks : 0.25

दिए गए कागज को मोड़ने पर, निम्नलिखित में से कौन सा घन बनाया जा सकता है?



Options :

- 1. ✖ केवल I
- 2. ✖ I तथा III दोनों
- 3. ✔ केवल III
- 4. ✖ II तथा III दोनों

General Awareness

Group Number :	2
Group Id :	9983671312
Group Maximum Duration :	0
Group Minimum Duration :	0
Revisit allowed for view? :	No
Revisit allowed for edit? :	No
Break time:	0
Group Marks:	20
Revisit allowed for group Instructions? :	Yes
Maximum Instruction Time:	0
Minimum Instruction Time:	0

General Awareness

Section Id :	9983671711
Section Number :	1
Section type :	Online
Mandatory or Optional:	Mandatory
Number of Questions:	20
Number of Questions to be attempted:	20
Section Marks:	20
Display Number Panel:	Yes
Group All Questions:	No

Sub-Section Id:

9983672125

Question Shuffling Allowed :

Yes

Question Number : 21 Question Id : 99836741263 Question Type : MCQ Option Shuffling : Yes Display Question Number : Yes
Single Line Question Option : No Option Orientation : Vertical

Correct Marks : 1 Wrong Marks : 0.25

Chapchar Kut, Mim Kut and Thalfavang Kut festivals are celebrated in which Indian state?

Options :

1. ✖ Sikkim
2. ✖ Meghalaya
3. ✖ Manipur
4. ✔ Mizoram

Question Number : 21 Question Id : 99836741263 Question Type : MCQ Option Shuffling : Yes Display Question Number : Yes
Single Line Question Option : No Option Orientation : Vertical

Correct Marks : 1 Wrong Marks : 0.25

चापचर कुट, मीम कुट और त्हाफवांग कुट त्योहारों को किस भारतीय राज्य में मनाया जाता है?

Options :

1. ✖ सिक्किम
2. ✖ मेघालय
3. ✖ मणिपुर
4. ✔ मिजोरम

Question Number : 22 Question Id : 99836741264 Question Type : MCQ Option Shuffling : Yes Display Question Number : Yes
Single Line Question Option : No Option Orientation : Vertical

Correct Marks : 1 Wrong Marks : 0.25

Ghoomar is the regional dance form of which Indian state?

Options :

1. ✔ Rajasthan
2. ✖ Haryana
3. ✖ Punjab
4. ✖ Uttar Pradesh

Question Number : 22 Question Id : 99836741264 Question Type : MCQ Option Shuffling : Yes Display Question Number : Yes
Single Line Question Option : No Option Orientation : Vertical

Correct Marks : 1 Wrong Marks : 0.25

घूमर किस भारतीय राज्य का क्षेत्रीय नृत्य है?

Options :

1. ✔ राजस्थान
2. ✖ हरियाणा
3. ✖ पंजाब
4. ✖ उत्तर प्रदेश

Question Number : 23 Question Id : 99836741265 Question Type : MCQ Option Shuffling : Yes Display Question Number : Yes
Single Line Question Option : No Option Orientation : Vertical

Correct Marks : 1 Wrong Marks : 0.25

Who with the help of state government agencies, procures wheat, paddy and coarse grains in various states in order to provide price support to the farmers?

Options :

1. ✖ NAFED

2. ✖ NABARD
3. ✔ Food Corporation of India (FCI)
4. ✖ FSSAI

Question Number : 23 Question Id : 99836741265 Question Type : MCQ Option Shuffling : Yes Display Question Number : Yes
Single Line Question Option : No Option Orientation : Vertical

Correct Marks : 1 Wrong Marks : 0.25

किसानों को समर्थन मूल्य प्रदान करने के लिए, राज्य सरकार की एजेंसियों की सहायता से, विभिन्न राज्यों में गेहूं, धान और मोटे अनाज की खरीद कौन करती है?

Options :

1. ✖ नेफेड
2. ✖ नाबार्ड
3. ✔ भारतीय खाद्य निगम (FCI)
4. ✖ एफ एस एस ए आई

Question Number : 24 Question Id : 99836741266 Question Type : MCQ Option Shuffling : Yes Display Question Number : Yes
Single Line Question Option : No Option Orientation : Vertical

Correct Marks : 1 Wrong Marks : 0.25

Which of the following statements regarding external debt of the government of India is correct?

- I. The Union Government does not borrow directly from international capital markets.
- II. Governments foreign currency borrowing takes place from multilateral agencies and bilateral sources, and is a part of official development assistance (ODA).
- III. At present, the Government of India borrow from the international capital markets.

Options :

1. ✔ I and II
2. ✖ II and III
3. ✖ I and III
4. ✖ I, II and III

Question Number : 24 Question Id : 99836741266 Question Type : MCQ Option Shuffling : Yes Display Question Number : Yes
Single Line Question Option : No Option Orientation : Vertical

Correct Marks : 1 Wrong Marks : 0.25

भारत सरकार के बाहरी ऋण के बारे में निम्नलिखित कथनों में से कौन सा सही है?

- I. केंद्र सरकार सीधे अंतरराष्ट्रीय पूंजी बाजारों से उधार नहीं लेती है।
- II. सरकारें विदेशी मुद्रा उधार बहुपक्षीय एजेंसियों और द्विपक्षीय स्रोतों से लेती हैं, और आधिकारिक विकास सहायता (ओ.डी.ए) का एक हिस्सा है।
- III. वर्तमान में, भारत सरकार अंतरराष्ट्रीय पूंजी बाजारों से उधार लेती है।

Options :

1. ✔ I तथा II
2. ✖ II तथा III
3. ✖ I तथा III
4. ✖ I, II तथा III

Question Number : 25 Question Id : 99836741267 Question Type : MCQ Option Shuffling : Yes Display Question Number : Yes
Single Line Question Option : No Option Orientation : Vertical

Correct Marks : 1 Wrong Marks : 0.25

The defect of vision in human beings in which the power of accommodation of the eye decreases with ageing and the near point gradually recedes away is known as _____.

Options :

1. ✖ Myopia

2. ✖ Hypermetropia
3. ✔ Presbyopia
4. ✖ Cataract

Question Number : 25 Question Id : 99836741267 Question Type : MCQ Option Shuffling : Yes Display Question Number : Yes
Single Line Question Option : No Option Orientation : Vertical

Correct Marks : 1 Wrong Marks : 0.25

दृष्टि का दोष जिसमें आयु में वृद्धि होने के साथ-साथ मानव नेत्र की समंजन-क्षमता घट जाती है तथा निकट-बिंदु दूर हट जाता है को _____ के रूप में जाना जाता है।

Options :

1. ✖ निकट-दृष्टि दोष
2. ✖ दीर्घ-दृष्टि दोष
3. ✔ जरा-दृष्टि दोष
4. ✖ मोतियाबिंद

Question Number : 26 Question Id : 99836741268 Question Type : MCQ Option Shuffling : Yes Display Question Number : Yes
Single Line Question Option : No Option Orientation : Vertical

Correct Marks : 1 Wrong Marks : 0.25

Pines and Cycas belong to _____.

Options :

1. ✖ Thallophyta
2. ✖ Bryophyta
3. ✖ Angiosperm
4. ✔ Gymnosperm

Question Number : 26 Question Id : 99836741268 Question Type : MCQ Option Shuffling : Yes Display Question Number : Yes
Single Line Question Option : No Option Orientation : Vertical

Correct Marks : 1 Wrong Marks : 0.25

पाइनस तथा साइकस _____ से संबंधित है।

Options :

1. ✖ थैलोफ़ाइटा
2. ✖ ब्रायोफ़ाइटा
3. ✖ एंजियोस्पर्म
4. ✔ जिम्नोस्पर्म

Question Number : 27 Question Id : 99836741269 Question Type : MCQ Option Shuffling : Yes Display Question Number : Yes
Single Line Question Option : No Option Orientation : Vertical

Correct Marks : 1 Wrong Marks : 0.25

Which of the following statement(s) regarding use of bleaching powder is/are correct?

- I. It is used as an oxidising agent in chemical industries.
- II. It is used for disinfecting drinking water to make it free of germs.

Options :

1. ✖ Only I
2. ✖ Only II
3. ✔ Both I and II
4. ✖ Neither I nor II

Question Number : 27 Question Id : 99836741269 Question Type : MCQ Option Shuffling : Yes Display Question Number : Yes
Single Line Question Option : No Option Orientation : Vertical

Correct Marks : 1 Wrong Marks : 0.25

ब्लीचिंग पाउडर के उपयोग के संबंध में निम्नलिखित में से कौन सा/से कथन सही है/हैं?

- I. रासायनिक उद्योगों में एक उपचायक के रूप में इसका प्रयोग होता है।
II. पीने वाले जल को जीवाणुओं से मुक्त करने के लिए रोगाणुनाशक के रूप में किया जाता है।

Options :

- ✗ केवल I
- ✗ केवल II
- ✓ I तथा II दोनों
- ✗ ना ही I ना ही II

Question Number : 28 Question Id : 99836741270 Question Type : MCQ Option Shuffling : Yes Display Question Number : Yes
Single Line Question Option : No Option Orientation : Vertical

Correct Marks : 1 Wrong Marks : 0.25

Balaghat mines in Madhya Pradesh, Khetri mines in Rajasthan and Singhbhum district of Jharkhand are leading producers of _____.

Options :

- ✗ Iron
- ✗ Bauxite
- ✗ Manganese
- ✓ Copper

Question Number : 28 Question Id : 99836741270 Question Type : MCQ Option Shuffling : Yes Display Question Number : Yes
Single Line Question Option : No Option Orientation : Vertical

Correct Marks : 1 Wrong Marks : 0.25

मध्यप्रदेश में बालाघाट की खदानें, राजस्थान में खेतड़ी की खदानें तथा झारखंड के सिंहभूम जिला _____ के प्रमुख उत्पादक हैं।

Options :

- ✗ लोहा
- ✗ बॉक्साइट
- ✗ मैंगनीज
- ✓ तांबा

Question Number : 29 Question Id : 99836741271 Question Type : MCQ Option Shuffling : Yes Display Question Number : Yes
Single Line Question Option : No Option Orientation : Vertical

Correct Marks : 1 Wrong Marks : 0.25

Indravati river is a tributary of _____.

Options :

- ✗ Krishna river
- ✗ Ganga river
- ✓ Godavari river
- ✗ Cauvery river

Question Number : 29 Question Id : 99836741271 Question Type : MCQ Option Shuffling : Yes Display Question Number : Yes
Single Line Question Option : No Option Orientation : Vertical

Correct Marks : 1 Wrong Marks : 0.25

इंद्रावती नदी _____ की उप-नदी है।

Options :

- ✗ कृष्णा नदी

2. ✖ गंगा नदी
3. ✔ गोदावरी नदी
4. ✖ कावेरी नदी

Question Number : 30 Question Id : 99836741272 Question Type : MCQ Option Shuffling : Yes Display Question Number : Yes
Single Line Question Option : No Option Orientation : Vertical

Correct Marks : 1 Wrong Marks : 0.25

Red and Yellow soils develop a reddish colour due to diffusion of _____ in crystalline and metamorphic rocks.

Options :

1. ✖ Copper
2. ✖ Zinc
3. ✔ Iron
4. ✖ Manganese

Question Number : 30 Question Id : 99836741272 Question Type : MCQ Option Shuffling : Yes Display Question Number : Yes
Single Line Question Option : No Option Orientation : Vertical

Correct Marks : 1 Wrong Marks : 0.25

लाल तथा पीली मिट्टी _____ के प्रसार के कारण तथा कार्यांतरित वाली चट्टानों में लाल रंग उत्पन्न करती है।

Options :

1. ✖ तांबा
2. ✖ जिंक
3. ✔ लोहा
4. ✖ मैंगनीज

Question Number : 31 Question Id : 99836741273 Question Type : MCQ Option Shuffling : Yes Display Question Number : Yes
Single Line Question Option : No Option Orientation : Vertical

Correct Marks : 1 Wrong Marks : 0.25

Which social reformer argued that untouchables were the true upholders of an original Tamil and Dravidian culture?

Options :

1. ✖ Dr. B.R. Ambedkar
2. ✔ E.V. Ramasamy Naicker
3. ✖ Jyotirao Phule
4. ✖ Ghasidas

Question Number : 31 Question Id : 99836741273 Question Type : MCQ Option Shuffling : Yes Display Question Number : Yes
Single Line Question Option : No Option Orientation : Vertical

Correct Marks : 1 Wrong Marks : 0.25

किस समाज सुधारक ने तर्क दिया कि मूल तमिल और द्रविड़ संस्कृति के असली वाहक अछूत ही हैं?

Options :

1. ✖ डॉ. बी. आर. अम्बेडकर
2. ✔ ई. वी. रामासामी नायकर
3. ✖ ज्योतिराव फुले
4. ✖ घासीदास

Question Number : 32 Question Id : 99836741274 Question Type : MCQ Option Shuffling : Yes Display Question Number : Yes
Single Line Question Option : No Option Orientation : Vertical

Correct Marks : 1 Wrong Marks : 0.25

During the reign of Samudragupta, Sandhi-vigrahika meant _____.

Options :

1. ✖ Chief Judicial officer
2. ✖ Chief Banker
3. ✔ Minister of war and peace
4. ✖ Leader of merchant caravans

Question Number : 32 Question Id : 99836741274 Question Type : MCQ Option Shuffling : Yes Display Question Number : Yes
Single Line Question Option : No Option Orientation : Vertical

Correct Marks : 1 Wrong Marks : 0.25

समुद्रगुप्त के शासनकाल के दौरान, संधि-विग्राहिक का अर्थ _____ था।

Options :

1. ✖ मुख्य न्याय अधिकारी
2. ✖ मुख्य बैंकर
3. ✔ युद्ध तथा शांति का मंत्री
4. ✖ व्यापारियों के काफिले का नेता

Question Number : 33 Question Id : 99836741275 Question Type : MCQ Option Shuffling : Yes Display Question Number : Yes
Single Line Question Option : No Option Orientation : Vertical

Correct Marks : 1 Wrong Marks : 0.25

Rulers of which of the following dynasty were known as Lords of the Dakshinapatha?

Options :

1. ✔ Satavahanas
2. ✖ Cheras
3. ✖ Cholas
4. ✖ Pandyas

Question Number : 33 Question Id : 99836741275 Question Type : MCQ Option Shuffling : Yes Display Question Number : Yes
Single Line Question Option : No Option Orientation : Vertical

Correct Marks : 1 Wrong Marks : 0.25

निम्नलिखित में से किस वंश के शासकों को दक्षिणापथ के स्वामी के रूप में जाना जाता था?

Options :

1. ✔ सातवाहन
2. ✖ चेर
3. ✖ चोल
4. ✖ पाण्ड्य

Question Number : 34 Question Id : 99836741276 Question Type : MCQ Option Shuffling : Yes Display Question Number : Yes
Single Line Question Option : No Option Orientation : Vertical

Correct Marks : 1 Wrong Marks : 0.25

Scientists of which university have developed a new material called 'black gold' which can absorb light and carbon dioxide?

Options :

1. ✖ IISC Bangalore
2. ✔ Tata Institute of Fundamental Research (TIFR)
3. ✖ IIT Madras
4. ✖ IIT Kharaghpur

Question Number : 34 Question Id : 99836741276 Question Type : MCQ Option Shuffling : Yes Display Question Number : Yes
Single Line Question Option : No Option Orientation : Vertical

Correct Marks : 1 Wrong Marks : 0.25

किस विश्वविद्यालय के वैज्ञानिकों ने 'ब्लैक गोल्ड' नामक एक नई सामग्री विकसित की है जो प्रकाश और कार्बन डाइऑक्साइड को अवशोषित कर सकती है?

Options :

- ✗ आईआईएससी बैंगलोर
- ✓ टाटा इंस्टीट्यूट ऑफ फंडामेंटल रिसर्च (टीआईएफआर)
- ✗ आईआईटी मद्रास
- ✗ आईआईटी खड़गपुर

Question Number : 35 Question Id : 99836741277 Question Type : MCQ Option Shuffling : Yes Display Question Number : Yes
Single Line Question Option : No Option Orientation : Vertical

Correct Marks : 1 Wrong Marks : 0.25

The book 'New Delhi Conspiracy' is written by _____.

Options :

- ✓ Meenakshi Lekhi
- ✗ Amish Tripathi
- ✗ Ramchandra Guha
- ✗ Pranab Mukherjee

Question Number : 35 Question Id : 99836741277 Question Type : MCQ Option Shuffling : Yes Display Question Number : Yes
Single Line Question Option : No Option Orientation : Vertical

Correct Marks : 1 Wrong Marks : 0.25

'नई दिल्ली षड्यंत्र' पुस्तक _____ द्वारा लिखित है।

Options :

- ✓ मीनाक्षी लेखी
- ✗ अमीश त्रिपाठी
- ✗ रामचंद्र गुहा
- ✗ प्रणब मुखर्जी

Question Number : 36 Question Id : 99836741278 Question Type : MCQ Option Shuffling : Yes Display Question Number : Yes
Single Line Question Option : No Option Orientation : Vertical

Correct Marks : 1 Wrong Marks : 0.25

Who was awarded United Nation's Equator Prize for 2019 for their outstanding effort for nature-based solution to climate change and sustainable development?

Options :

- ✓ Deccan Development Society (DDS)
- ✗ Vasudha Foundation
- ✗ National Wildlife Federation
- ✗ Modi Foundation

Question Number : 36 Question Id : 99836741278 Question Type : MCQ Option Shuffling : Yes Display Question Number : Yes
Single Line Question Option : No Option Orientation : Vertical

Correct Marks : 1 Wrong Marks : 0.25

जलवायु परिवर्तन और सतत विकास के लिए प्रकृति-आधारित समाधान के उनके उत्कृष्ट प्रयास के लिए 2019 के लिए संयुक्त राष्ट्र के भूमध्य-पुरस्कार से किसे सम्मानित किया गया?

Options :

- ✓ डेक्कन डेवलपमेंट सोसाइटी (डी.डी.एस)
- ✗ वसुधा फाउंडेशन
- ✗ राष्ट्रीय वन्यजीव महासंघ

4. ✖ मोदी फाउंडेशन

Question Number : 37 Question Id : 99836741279 Question Type : MCQ Option Shuffling : Yes Display Question Number : Yes
Single Line Question Option : No Option Orientation : Vertical

Correct Marks : 1 Wrong Marks : 0.25

The President can remove the chairmen of Union Public Service Commission from the office under which of the following circumstances?

- I. If he is adjudged an insolvent.
- II. If he engages, during his term of office, in any paid employment outside the duties of his office.

Options :

- 1. ✖ Only I
- 2. ✖ Only II
- 3. ✔ Both I and II
- 4. ✖ Neither I nor II

Question Number : 37 Question Id : 99836741279 Question Type : MCQ Option Shuffling : Yes Display Question Number : Yes
Single Line Question Option : No Option Orientation : Vertical

Correct Marks : 1 Wrong Marks : 0.25

राष्ट्रपति संघ लोक सेवा आयोग के अध्यक्ष को निम्नलिखित में से किस परिस्थिति में हटा सकता है?

- I. अगर उसे दिवालिया घोषित कर दिया जाता है।
- II. अपनी पदावधि के दौरान अपने पद के कर्तव्यों के बाहर किसी से वेतन नियोजन में लगा हो।

Options :

- 1. ✖ केवल I
- 2. ✖ केवल II
- 3. ✔ I और II दोनों
- 4. ✖ ना ही I ना ही II

Question Number : 38 Question Id : 99836741280 Question Type : MCQ Option Shuffling : Yes Display Question Number : Yes
Single Line Question Option : No Option Orientation : Vertical

Correct Marks : 1 Wrong Marks : 0.25

Which of the following constitutional provision has not been borrowed from Irish constitution by Indian constitution?

Options :

- 1. ✔ Post of Vice-President
- 2. ✖ Method of election of President
- 3. ✖ Nomination of members to Rajya Sabha
- 4. ✖ Directive principles of state policy

Question Number : 38 Question Id : 99836741280 Question Type : MCQ Option Shuffling : Yes Display Question Number : Yes
Single Line Question Option : No Option Orientation : Vertical

Correct Marks : 1 Wrong Marks : 0.25

आयरिश संविधान से कौन सा संवैधानिक प्रावधान भारतीय संविधान द्वारा उधार नहीं लिया गया है?

Options :

- 1. ✔ उप-राष्ट्रपति का पद
- 2. ✖ राष्ट्रपति की निर्वाचन पद्धति
- 3. ✖ राज्य सभा के लिए सदस्यों का नामांकन
- 4. ✖ राज्य के नीति-निदेशक सिद्धांत

Question Number : 39 Question Id : 99836741281 Question Type : MCQ Option Shuffling : Yes Display Question Number : Yes
Single Line Question Option : No Option Orientation : Vertical

Correct Marks : 1 Wrong Marks : 0.25

Vijay Hazare Trophy is associated with which of the following sport?

Options :

1. ✖ Hockey
2. ✖ Kabbadi
3. ✔ Cricket
4. ✖ Football

Question Number : 39 Question Id : 99836741281 Question Type : MCQ Option Shuffling : Yes Display Question Number : Yes
Single Line Question Option : No Option Orientation : Vertical

Correct Marks : 1 Wrong Marks : 0.25

विजय हजारे ट्रॉफी निम्नलिखित में से किस खेल से संबंधित है?

Options :

1. ✖ हॉकी
2. ✖ कबड्डी
3. ✔ क्रिकेट
4. ✖ फुटबॉल

Question Number : 40 Question Id : 99836741282 Question Type : MCQ Option Shuffling : Yes Display Question Number : Yes
Single Line Question Option : No Option Orientation : Vertical

Correct Marks : 1 Wrong Marks : 0.25

Which country won Copa America 2019?

Options :

1. ✖ Peru
2. ✔ Brazil
3. ✖ Chile
4. ✖ USA

Question Number : 40 Question Id : 99836741282 Question Type : MCQ Option Shuffling : Yes Display Question Number : Yes
Single Line Question Option : No Option Orientation : Vertical

Correct Marks : 1 Wrong Marks : 0.25

किस देश ने कोपा अमेरिका 2019 जीता?

Options :

1. ✖ पेरू
2. ✔ ब्राजील
3. ✖ चिली
4. ✖ संयुक्त राज्य अमेरिका

Arithmetic Ability

Group Number :	3
Group Id :	9983671313
Group Maximum Duration :	0
Group Minimum Duration :	0
Revisit allowed for view? :	No
Revisit allowed for edit? :	No
Break time:	0

Group Marks:	20
Revisit allowed for group Instructions? :	Yes
Maximum Instruction Time:	0
Minimum Instruction Time:	0

Arithmetic Ability

Section Id :	9983671712
Section Number :	1
Section type :	Online
Mandatory or Optional:	Mandatory
Number of Questions:	20
Number of Questions to be attempted:	20
Section Marks:	20
Display Number Panel:	Yes
Group All Questions:	No





Sub-Section Number:	1
Sub-Section Id:	9983672126
Question Shuffling Allowed :	Yes

Question Number : 41 Question Id : 99836741283 Question Type : MCQ Option Shuffling : Yes Display Question Number : Yes
Single Line Question Option : No Option Orientation : Vertical

Correct Marks : 1 Wrong Marks : 0.25

If $87N4$ is divisible by 8, then what is the value of N?

Options :





1.  4
2.  2
3.  6
4.  5

Question Number : 41 Question Id : 99836741283 Question Type : MCQ Option Shuffling : Yes Display Question Number : Yes
Single Line Question Option : No Option Orientation : Vertical

Correct Marks : 1 Wrong Marks : 0.25

यदि $87N4$, 8 से विभाज्य है, तो N का मान क्या है?

Options :




1.  4
2.  2
3.  6
4.  5

Question Number : 42 Question Id : 99836741284 Question Type : MCQ Option Shuffling : Yes Display Question Number : Yes
Single Line Question Option : No Option Orientation : Vertical

Correct Marks : 1 Wrong Marks : 0.25

How many two digit numbers are there which are not divisible by 5?

Options :

1.  72
2.  70
3.  75

4. ✖ 68

Question Number : 42 Question Id : 99836741284 Question Type : MCQ Option Shuffling : Yes Display Question Number : Yes
Single Line Question Option : No Option Orientation : Vertical

Correct Marks : 1 Wrong Marks : 0.25

दो अंको की ऐसी कितनी संख्याएँ हैं, जो 5 से विभाज्य नहीं हैं?

Options :

1. ✔ 72

2. ✖ 70

3. ✖ 75

4. ✖ 68

Question Number : 43 Question Id : 99836741285 Question Type : MCQ Option Shuffling : Yes Display Question Number : Yes
Single Line Question Option : No Option Orientation : Vertical

Correct Marks : 1 Wrong Marks : 0.25

What is the value of $(8^2 \times 512)^{2/5} \div \left(\frac{1}{16}\right)^{-2}$?

Options :

1. ✖ 4

2. ✖ 8

3. ✖ 1/8

4. ✔ 1/4

Question Number : 43 Question Id : 99836741285 Question Type : MCQ Option Shuffling : Yes Display Question Number : Yes
Single Line Question Option : No Option Orientation : Vertical

Correct Marks : 1 Wrong Marks : 0.25

$(8^2 \times 512)^{2/5} \div \left(\frac{1}{16}\right)^{-2}$ का मान क्या है?

Options :

1. ✖ 4

2. ✖ 8

3. ✖ 1/8

4. ✔ 1/4

Question Number : 44 Question Id : 99836741286 Question Type : MCQ Option Shuffling : Yes Display Question Number : Yes
Single Line Question Option : No Option Orientation : Vertical

Correct Marks : 1 Wrong Marks : 0.25

If $A = \frac{5+6-7 \times 2 \div 5+8 \div 10}{3}$ and $B = \frac{8+5-2 \times 3+8+3}{3}$, then what is the value of $A + B$?

Options :

1. ✖ 8

2. ✖ 5

3. ✔ 9

4. ✖ 10

Question Number : 44 Question Id : 99836741286 Question Type : MCQ Option Shuffling : Yes Display Question Number : Yes
Single Line Question Option : No Option Orientation : Vertical

Correct Marks : 1 Wrong Marks : 0.25

यदि $A = \frac{5+6-7 \times 2 \div 5+8 \div 10}{3}$ तथा $B = \frac{8+5-2 \times 3+8+3}{3}$, तो $A + B$ का मान क्या है?

Options :

1. ✖ 8

2. ✖ 5

3. ✔ 9

4. ✖ 10

Question Number : 45 Question Id : 99836741287 Question Type : MCQ Option Shuffling : Yes Display Question Number : Yes
Single Line Question Option : No Option Orientation : Vertical

Correct Marks : 1 Wrong Marks : 0.25

Which one among $\sqrt{12} + \sqrt{3}$, $\sqrt{11} + 2$, $\sqrt{5} + \sqrt{10}$ and $1 + \sqrt{14}$ is the largest?

Options :

1. ✖ $\sqrt{12} + \sqrt{3}$

2. ✖ $\sqrt{11} + 2$

3. ✔ $\sqrt{5} + \sqrt{10}$

4. ✖ $1 + \sqrt{14}$

Question Number : 45 Question Id : 99836741287 Question Type : MCQ Option Shuffling : Yes Display Question Number : Yes
Single Line Question Option : No Option Orientation : Vertical

Correct Marks : 1 Wrong Marks : 0.25

$\sqrt{12} + \sqrt{3}$, $\sqrt{11} + 2$, $\sqrt{5} + \sqrt{10}$ तथा $1 + \sqrt{14}$ में से कौन सा सबसे बड़ा है?

Options :

1. ✖ $\sqrt{12} + \sqrt{3}$

2. ✖ $\sqrt{11} + 2$

3. ✔ $\sqrt{5} + \sqrt{10}$

4. ✖ $1 + \sqrt{14}$

Question Number : 46 Question Id : 99836741288 Question Type : MCQ Option Shuffling : Yes Display Question Number : Yes
Single Line Question Option : No Option Orientation : Vertical

Correct Marks : 1 Wrong Marks : 0.25

What will be the average of first 14 positive odd numbers?

Options :

1. ✔ 14

2. ✖ 16

3. ✖ 18

4. ✖ 15

Question Number : 46 Question Id : 99836741288 Question Type : MCQ Option Shuffling : Yes Display Question Number : Yes
Single Line Question Option : No Option Orientation : Vertical

Correct Marks : 1 Wrong Marks : 0.25

प्रथम 14 धनात्मक विषम संख्याओं का औसत क्या होगा?

Options :

- 1. ✓ 14
- 2. ✗ 16
- 3. ✗ 18
- 4. ✗ 15

Question Number : 47 Question Id : 99836741289 Question Type : MCQ Option Shuffling : Yes Display Question Number : Yes
Single Line Question Option : No Option Orientation : Vertical

Correct Marks : 1 Wrong Marks : 0.25

A man has Rs 240 in coins of 1-rupee, 2-rupees and 5-rupees. The number of coins of each denomination is equal. What is the total number of coins he has?

Options :

- 1. ✗ 30
- 2. ✗ 60
- 3. ✓ 90
- 4. ✗ 120

Question Number : 47 Question Id : 99836741289 Question Type : MCQ Option Shuffling : Yes Display Question Number : Yes
Single Line Question Option : No Option Orientation : Vertical

Correct Marks : 1 Wrong Marks : 0.25

एक आदमी के पास 1-रुपये, 2-रुपये और 5-रुपये के सिक्कों को मिलाकर कुल 240 रुपये हैं। इसमें प्रत्येक मूलवर्ग के सिक्कों की संख्या बराबर है। उसके पास कुल कितने सिक्के हैं?

Options :

- 1. ✗ 30
- 2. ✗ 60
- 3. ✓ 90
- 4. ✗ 120

Question Number : 48 Question Id : 99836741290 Question Type : MCQ Option Shuffling : Yes Display Question Number : Yes
Single Line Question Option : No Option Orientation : Vertical

Correct Marks : 1 Wrong Marks : 0.25

15% of the total votes are declared invalid votes. Three candidates P, Q and R contested the election. P, Q and R received 45%, 30% and 25% votes respectively of the total valid votes. If total number of votes are 1600, then R received how much votes less than P?

Options :

- 1. ✗ 292
- 2. ✗ 168
- 3. ✗ 192
- 4. ✓ 272

Question Number : 48 Question Id : 99836741290 Question Type : MCQ Option Shuffling : Yes Display Question Number : Yes
Single Line Question Option : No Option Orientation : Vertical

Correct Marks : 1 Wrong Marks : 0.25

कुल मतों के 15 प्रतिशत को अमान्य मत घोषित कर दिया गया। तीन उम्मीदवार P, Q तथा R ने चुनाव लड़ा। P, Q तथा R ने कुल मान्य मतों के क्रमशः 45 प्रतिशत, 30 प्रतिशत तथा 25 प्रतिशत मत प्राप्त किये। यदि मतों की कुल संख्या 1600 है, तो R ने P से कितने मत कम प्राप्त किये?

Options :

- 1. ✗ 292
- 2. ✗ 168
- 3. ✗ 192

4. ✓ 272

Question Number : 49 Question Id : 99836741291 Question Type : MCQ Option Shuffling : Yes Display Question Number : Yes
Single Line Question Option : No Option Orientation : Vertical

Correct Marks : 1 Wrong Marks : 0.25

Raman calculates profit/loss on selling price. Rajat calculates profit/loss on cost price. Raman suffered a loss of 16.66% on selling an article. Rajat earned a profit of 50% on selling an article. Selling price of both the articles is Rs 1200. Cost price of Raman's is what percentage of cost price of Rajat's article?

Options :

- 1. ✗ 225 percent
- 2. ✗ 150 percent
- 3. ✗ 275 percent
- 4. ✓ 175 percent

Question Number : 49 Question Id : 99836741291 Question Type : MCQ Option Shuffling : Yes Display Question Number : Yes
Single Line Question Option : No Option Orientation : Vertical

Correct Marks : 1 Wrong Marks : 0.25

रमन लाभ/हानि विक्रय मूल्य पर परिकलित करता है रजत लाभ/हानि क्रय मूल्य पर परिकलित करता है एक वस्तु को बेचने पर रमन को 16.66 प्रतिशत की हानि हुई रजत को एक वस्तु को बेचने पर 50 प्रतिशत का लाभ हुआ प्रत्येक वस्तु का विक्रय मूल्य 1200 रुपये है रमन की वस्तु का क्रय मूल्य, रजत की वस्तु के क्रय मूल्य का कितना प्रतिशत है?

Options :

- 1. ✗ 225 प्रतिशत
- 2. ✗ 150 प्रतिशत
- 3. ✗ 275 प्रतिशत
- 4. ✓ 175 प्रतिशत

Question Number : 50 Question Id : 99836741292 Question Type : MCQ Option Shuffling : Yes Display Question Number : Yes
Single Line Question Option : No Option Orientation : Vertical

Correct Marks : 1 Wrong Marks : 0.25

The sum of the present ages of a father and his son is 110 years. 5 years ago their respective ages were in the ratio of 3 : 7. After 20 years what will be the ratio of ages of father and son?

Options :

- 1. ✗ 2 : 1
- 2. ✓ 19 : 11
- 3. ✗ 11 : 5
- 4. ✗ 3 : 2

Question Number : 50 Question Id : 99836741292 Question Type : MCQ Option Shuffling : Yes Display Question Number : Yes
Single Line Question Option : No Option Orientation : Vertical

Correct Marks : 1 Wrong Marks : 0.25

एक पिता तथा उसके पुत्र की वर्तमान आयु का योग 110 वर्ष है 5 वर्ष पूर्व उनकी आयु क्रमशः 3 : 7 के अनुपात में थी 20 वर्ष पश्चात पिता तथा पुत्र की आयु का अनुपात क्या होगा?

Options :

- 1. ✗ 2 : 1
- 2. ✓ 19 : 11
- 3. ✗ 11 : 5
- 4. ✗ 3 : 2

Question Number : 51 Question Id : 99836741293 Question Type : MCQ Option Shuffling : Yes Display Question Number : Yes
Single Line Question Option : No Option Orientation : Vertical

Correct Marks : 1 Wrong Marks : 0.25

Rahul and Raman started a business by investing Rs 9,000 and Rs 6,000 respectively. After 4 months, Rahul left the business and Mohan joined the business by investing Rs 15,000. At the end of the year, there was a profit of Rs 57,000. What will be the share of Mohan in the profit?

Options :

1. ✖ Rs 32000
2. ✖ Rs 44000
3. ✔ Rs 30000
4. ✖ Rs 38000

Question Number : 51 Question Id : 99836741293 Question Type : MCQ Option Shuffling : Yes Display Question Number : Yes
Single Line Question Option : No Option Orientation : Vertical

Correct Marks : 1 Wrong Marks : 0.25

राहुल तथा रमन ने क्रमशः 9,000 रुपये तथा 6,000 रुपये निवेश करके एक व्यापार शुरू किया। 4 महीने पश्चात, राहुल व्यापार छोड़कर चला गया तथा मोहन 15,000 रुपये निवेश करके व्यापार से जुड़ गया। वर्ष के अंत में 57,000 रुपये का लाभ हुआ। लाभ में मोहन का हिस्सा क्या होगा?

Options :

1. ✖ 32000 रुपये
2. ✖ 44000 रुपये
3. ✔ 30000 रुपये
4. ✖ 38000 रुपये

Question Number : 52 Question Id : 99836741294 Question Type : MCQ Option Shuffling : Yes Display Question Number : Yes
Single Line Question Option : No Option Orientation : Vertical

Correct Marks : 1 Wrong Marks : 0.25

After 9 years, how much simple interest (in Rs) will be received on a sum of Rs 14000 at the rate of 14% per annum?

Options :

1. ✖ 18120
2. ✖ 19460
3. ✔ 17640
4. ✖ 18140

Question Number : 52 Question Id : 99836741294 Question Type : MCQ Option Shuffling : Yes Display Question Number : Yes
Single Line Question Option : No Option Orientation : Vertical

Correct Marks : 1 Wrong Marks : 0.25

9 वर्ष पश्चात, 14000 रुपये की एक राशि पर 14 प्रतिशत की वार्षिक दर से कितना साधारण ब्याज (रुपये में) प्राप्त होगा?

Options :

1. ✖ 18120
2. ✖ 19460
3. ✔ 17640
4. ✖ 18140

Question Number : 53 Question Id : 99836741295 Question Type : MCQ Option Shuffling : Yes Display Question Number : Yes
Single Line Question Option : No Option Orientation : Vertical

Correct Marks : 1 Wrong Marks : 0.25

A man travelled a certain distance by train at the rate of 30 km/hr and walked back at the rate of 3 km/hr. If the whole journey took 22 hours, then what was the total distance covered by men?

Note: For this question, discrepancy is found in question/answer. So, this question is ignored for all candidates.

Options :

1. 60 km
2. 100 km
3. 50 km
4. 70 km

Question Number : 53 Question Id : 99836741295 Question Type : MCQ Option Shuffling : Yes Display Question Number : Yes
Single Line Question Option : No Option Orientation : Vertical

Correct Marks : 1 Wrong Marks : 0.25

एक पुरुष 30 कि.मी. /घंटा की गति से चलने वाली रेलगाड़ी द्वारा एक दूरी तय करता है तथा वही दूरी वापसी में उसने 3 कि.मी. /घंटा की गति से पैदल चलकर तय करता है। यदि पूरी यात्रा में 22 घंटे लगते हैं, तो पुरुष द्वारा तय की गई कुल दूरी क्या थी?

Note: For this question, discrepancy is found in question/answer. So, this question is ignored for all candidates.

Options :

1. 60 कि.मी.
2. 100 कि.मी.
3. 50 कि.मी.
4. 70 कि.मी.

Question Number : 54 Question Id : 99836741296 Question Type : MCQ Option Shuffling : Yes Display Question Number : Yes
Single Line Question Option : No Option Orientation : Vertical

Correct Marks : 1 Wrong Marks : 0.25

Diameter of wheel of a cycle is 21 cm. The cyclist takes 150 minutes to reach a destination at a speed of 72.6 km/hr. How many revolutions will the wheel make during the journey?

Options :

1. ✓ 275000
2. ✗ 270000
3. ✗ 270500
4. ✗ 250700

Question Number : 54 Question Id : 99836741296 Question Type : MCQ Option Shuffling : Yes Display Question Number : Yes
Single Line Question Option : No Option Orientation : Vertical

Correct Marks : 1 Wrong Marks : 0.25

एक साइकिल के पहिये का व्यास 21 से.मी. है। साइकिल चालक 72.6 कि.मी. /घंटा की गति से एक गंतव्य स्थान तक पहुँचने के लिए 150 मिनट लेता है। यात्रा के दौरान पहिया कितने चक्कर लगाएगा?

Options :

1. ✓ 275000
2. ✗ 270000
3. ✗ 270500
4. ✗ 250700

Question Number : 55 Question Id : 99836741297 Question Type : MCQ Option Shuffling : Yes Display Question Number : Yes
Single Line Question Option : No Option Orientation : Vertical

Correct Marks : 1 Wrong Marks : 0.25

5 men can complete a work in 40 days and 6 women can complete the same work in 30 days. In how many days 20 men and 18 women can complete the same work?

Options :

1. ✓ 5 days
2. ✗ 10 days
3. ✗ 15 days
4. ✗ 12 days

Question Number : 55 Question Id : 99836741297 Question Type : MCQ Option Shuffling : Yes Display Question Number : Yes
Single Line Question Option : No Option Orientation : Vertical

Correct Marks : 1 Wrong Marks : 0.25

5 पुरुष एक कार्य को 40 दिन में पूरा कर सकते हैं तथा 6 महिलाएँ समान कार्य को 30 दिन में पूरा कर सकती हैं। 20 पुरुष तथा 18 महिलाएँ समान कार्य को कितने दिन में पूरा कर सकते हैं?

Options :

1. ✓ 5 दिन
2. ✗ 10 दिन
3. ✗ 15 दिन
4. ✗ 12 दिन

Question Number : 56 Question Id : 99836741298 Question Type : MCQ Option Shuffling : Yes Display Question Number : Yes
Single Line Question Option : No Option Orientation : Vertical

Correct Marks : 1 Wrong Marks : 0.25

A rectangle is formed by using a wire. Length and breadth of rectangle are in the ratio 4 : 3 and its area is 3888 cm^2 . If the same wire is bent in the form of a semicircle, then what will be the area of semicircle?

Options :

1. ✗ 2123 cm^2
2. ✓ 3773 cm^2
3. ✗ 3431 cm^2
4. ✗ 3351 cm^2

Question Number : 56 Question Id : 99836741298 Question Type : MCQ Option Shuffling : Yes Display Question Number : Yes
Single Line Question Option : No Option Orientation : Vertical

Correct Marks : 1 Wrong Marks : 0.25

एक तार का प्रयोग करके एक आयत बनाया गया है। आयत की लम्बाई तथा चौड़ाई 4 : 3 के अनुपात में है तथा इसका क्षेत्रफल 3888 से.मी.^2 है। यदि समान तार को अर्धवृत्त के आकार में मोड़ा जाए, तो अर्धवृत्त का क्षेत्रफल क्या होगा?

Options :

1. ✗ 2123 से.मी.^2
2. ✓ 3773 से.मी.^2
3. ✗ 3431 से.मी.^2

4. ✖ 3351 से.मी.²

Question Number : 57 Question Id : 99836741299 Question Type : MCQ Option Shuffling : Yes Display Question Number : Yes
Single Line Question Option : No Option Orientation : Vertical

Correct Marks : 1 Wrong Marks : 0.25

Two sides of a plot are 24 metre and 10 metre and the angle between them there is perfect right angle. The other two sides of plot are 15 metre each and the other three angles are not right angles. What is the area of the plot?

Options :

1. ✖ $(160 + 24\sqrt{7}) \text{ m}^2$

2. ✖ $(180 + 28\sqrt{3}) \text{ m}^2$

3. ✔ $(120 + 26\sqrt{14}) \text{ m}^2$

4. ✖ $(150 + 34\sqrt{7}) \text{ m}^2$

Question Number : 57 Question Id : 99836741299 Question Type : MCQ Option Shuffling : Yes Display Question Number : Yes
Single Line Question Option : No Option Orientation : Vertical

Correct Marks : 1 Wrong Marks : 0.25

एक प्लॉट की दो भुजाएँ 24 मीटर तथा 10 मीटर है तथा उनके बीच का कोण उचित समकोण है। प्लॉट की दूसरी दो भुजाएँ प्रत्येक 15 मीटर है तथा दूसरे तीन कोण समकोण नहीं है। प्लॉट का क्षेत्रफल क्या है?

Options :

1. ✖ $(160 + 24\sqrt{7}) \text{ मी.}^2$

2. ✖ $(180 + 28\sqrt{3}) \text{ मी.}^2$

3. ✔ $(120 + 26\sqrt{14}) \text{ मी.}^2$

4. ✖ $(150 + 34\sqrt{7}) \text{ मी.}^2$

Question Number : 58 Question Id : 99836741300 Question Type : MCQ Option Shuffling : Yes Display Question Number : Yes
Single Line Question Option : No Option Orientation : Vertical

Correct Marks : 1 Wrong Marks : 0.25

The table given below shows the number of factory outlets opened in different cities of a company.

City	Number of factory outlets
C1	40
C2	56
C3	66
C4	72
C5	76
C6	85

The difference in number of factory outlets in cities C1 and C5 is what percentage of the number of factory outlets in city C6?

Options :

- ✓ 42.35 percent
- ✗ 46.35 percent
- ✗ 50.35 percent
- ✗ 54.35 percent

Question Number : 58 Question Id : 99836741300 Question Type : MCQ Option Shuffling : Yes Display Question Number : Yes Single Line Question Option : No Option Orientation : Vertical

Correct Marks : 1 Wrong Marks : 0.25

नीचे दी गई तालिका विभिन्न शहरों में एक कंपनी द्वारा खोले गए फैक्ट्री आउटलेट की संख्या को दर्शाती है।

शहर	फैक्ट्री आउटलेट्स की संख्या
C1	40
C2	56
C3	66
C4	72
C5	76
C6	85

C1 शहर तथा C5 शहर में फैक्ट्री आउटलेट की संख्या के बीच का अंतर C6 शहर में फैक्ट्री आउटलेट की संख्या का कितना प्रतिशत है?

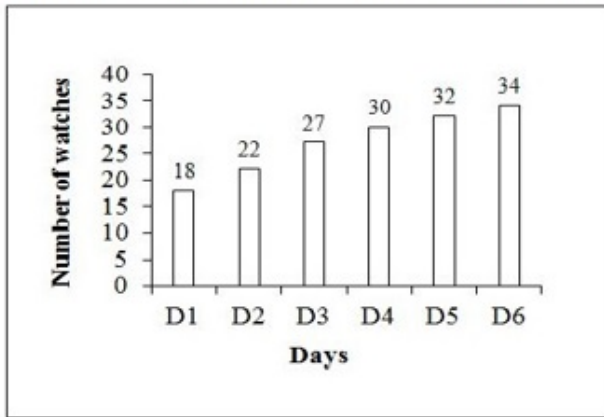
Options :

- ✓ 42.35 प्रतिशत
- ✗ 46.35 प्रतिशत
- ✗ 50.35 प्रतिशत
- ✗ 54.35 प्रतिशत

Question Number : 59 Question Id : 99836741301 Question Type : MCQ Option Shuffling : Yes Display Question Number : Yes Single Line Question Option : No Option Orientation : Vertical

Correct Marks : 1 Wrong Marks : 0.25

The bar graph given below shows the number of watches repaired by a mechanic on different days of a week.



If E represents the total number of watches repaired on day D3 and D5 and F represents the total number of watches repaired on D1 and D4, then E is what percentage of F?

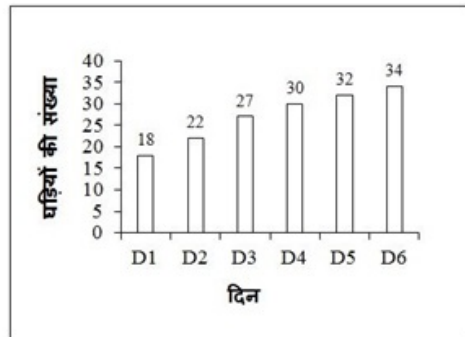
Options :

1. ✓ 122.91 percent
2. ✗ 132.91 percent
3. ✗ 142.91 percent
4. ✗ 152.91 percent

Question Number : 59 Question Id : 99836741301 Question Type : MCQ Option Shuffling : Yes Display Question Number : Yes Single Line Question Option : No Option Orientation : Vertical

Correct Marks : 1 Wrong Marks : 0.25

नीचे दिया गया दण्ड चित्र एक मैकेनिक द्वारा सप्ताह के विभिन्न दिनों पर मरम्मत करने वाली घड़ियों की संख्या को दर्शाता है।



यदि E, D3 तथा D5 दिन में मरम्मत होने वाली कुल घड़ियों की संख्या के निरूपित करता है तथा F, D1 तथा D4 दिन में मरम्मत होने वाली कुल संख्या को निरूपित करता है, तो E, F का कितना प्रतिशत है?

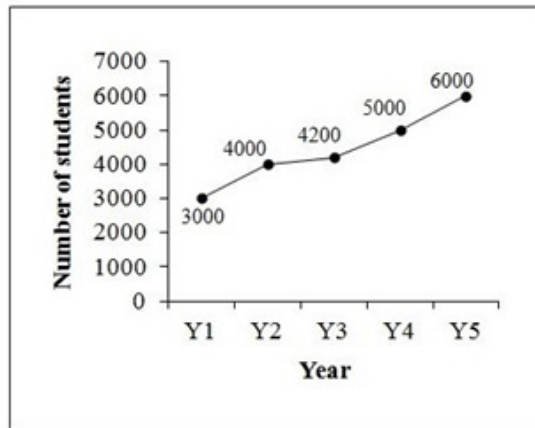
Options :

1. ✓ 122.91 प्रतिशत
2. ✗ 132.91 प्रतिशत
3. ✗ 142.91 प्रतिशत
4. ✗ 152.91 प्रतिशत

Question Number : 60 Question Id : 99836741302 Question Type : MCQ Option Shuffling : Yes Display Question Number : Yes Single Line Question Option : No Option Orientation : Vertical

Correct Marks : 1 Wrong Marks : 0.25

The line graph given below shows the number of students enrolled for an examination in five years.



What is the ratio of total number of students enrolled in year Y1 and Y3 to the total number of students enrolled in all years?

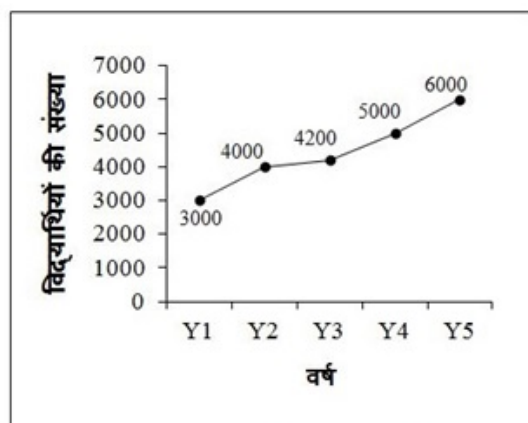
Options :

1. ✖ 111 : 36
2. ✔ 36 : 111
3. ✖ 9 : 28
4. ✖ 28 : 9

Question Number : 60 Question Id : 99836741302 Question Type : MCQ Option Shuffling : Yes Display Question Number : Yes Single Line Question Option : No Option Orientation : Vertical

Correct Marks : 1 Wrong Marks : 0.25

नीचे दिया गया रेखा चित्र पाँच वर्षों में एक परीक्षा में भाग लेने वाले छात्रों की संख्या को दर्शाता है।



वर्ष Y1 तथा Y3 में भाग लेने वाले छात्रों की कुल संख्या का सभी पाँच वर्षों में भाग लेने वाले छात्रों की कुल संख्या से क्या अनुपात है?

Options :

1. ✖ 111 : 36
2. ✔ 36 : 111
3. ✖ 9 : 28
4. ✖ 28 : 9

General English

Group Number :	4
Group Id :	9983671314
Group Maximum Duration :	0
Group Minimum Duration :	0
Revisit allowed for view? :	No
Revisit allowed for edit? :	No
Break time:	0
Group Marks:	20
Revisit allowed for group Instructions? :	Yes
Maximum Instruction Time:	0
Minimum Instruction Time:	0

General English

Section Id :	9983671713
Section Number :	1
Section type :	Online
Mandatory or Optional:	Mandatory
Number of Questions:	16
Number of Questions to be attempted:	16
Section Marks:	20
Display Number Panel:	Yes
Group All Questions:	No

Sub-Section Number:	1
Sub-Section Id:	9983672127
Question Shuffling Allowed :	Yes

Question Number : 61 Question Id : 99836741303 Question Type : MCQ Option Shuffling : Yes Display Question Number : Yes
Single Line Question Option : No Option Orientation : Vertical
Correct Marks : 1 Wrong Marks : 0.25

Find the part of the given sentence that has an error in it. If there is no error, choose 'No error'.

This news is (1)/ too good (2)/ to be true (3)/ No error (4)

Options :

- ✖ This news is
- ✖ too good
- ✖ to be true
- ✔ No error

Question Number : 61 Question Id : 99836741303 Question Type : MCQ Option Shuffling : Yes Display Question Number : Yes
Single Line Question Option : No Option Orientation : Vertical
Correct Marks : 1 Wrong Marks : 0.25

Find the part of the given sentence that has an error in it. If there is no error, choose 'No error'.

This news is (1)/ too good (2)/ to be true (3)/ No error (4)

Options :

- ✖ This news is
- ✖ too good

- 3. ✖ to be true
- 4. ✔ No error

Question Number : 62 Question Id : 99836741304 Question Type : MCQ Option Shuffling : Yes Display Question Number : Yes
Single Line Question Option : No Option Orientation : Vertical

Correct Marks : 1 Wrong Marks : 0.25

Find the part of the given sentence that has an error in it. If there is no error, choose 'No error'.

The editor (1)/ gave him the deadline (2)/ for finish the work (3)/ No error (4)

Options :

- 1. ✖ The editor
- 2. ✖ gave him the deadline
- 3. ✔ for finish the work
- 4. ✖ No error

Question Number : 62 Question Id : 99836741304 Question Type : MCQ Option Shuffling : Yes Display Question Number : Yes
Single Line Question Option : No Option Orientation : Vertical

Correct Marks : 1 Wrong Marks : 0.25

Find the part of the given sentence that has an error in it. If there is no error, choose 'No error'.

The editor (1)/ gave him the deadline (2)/ for finish the work (3)/ No error (4)

Options :

- 1. ✖ The editor
- 2. ✖ gave him the deadline
- 3. ✔ for finish the work
- 4. ✖ No error

Question Number : 63 Question Id : 99836741305 Question Type : MCQ Option Shuffling : Yes Display Question Number : Yes
Single Line Question Option : No Option Orientation : Vertical

Correct Marks : 1 Wrong Marks : 0.25

Improve the bracketed part of the sentence. If there is No improvement, choose 'No improvement'.

The lady (died) before she reached the hospital?

Options :

- 1. ✖ die
- 2. ✔ had died
- 3. ✖ dying
- 4. ✖ No improvement

Question Number : 63 Question Id : 99836741305 Question Type : MCQ Option Shuffling : Yes Display Question Number : Yes
Single Line Question Option : No Option Orientation : Vertical

Correct Marks : 1 Wrong Marks : 0.25

Improve the bracketed part of the sentence. If there is No improvement, choose 'No improvement'.

The lady (died) before she reached the hospital?

Options :

- 1. ✖ die
- 2. ✔ had died
- 3. ✖ dying
- 4. ✖ No improvement

Question Number : 64 Question Id : 99836741306 Question Type : MCQ Option Shuffling : Yes Display Question Number : Yes
Single Line Question Option : No Option Orientation : Vertical

Correct Marks : 1 Wrong Marks : 0.25

Improve the bracketed part of the sentence. If there is No improvement, choose 'No improvement'.

This property belongs to (Kansals).

Options :

1. ✖ Kansal
2. ✖ Kansals'
3. ✖ Kansal's
4. ✔ No improvement

Question Number : 64 Question Id : 99836741306 Question Type : MCQ Option Shuffling : Yes Display Question Number : Yes
Single Line Question Option : No Option Orientation : Vertical

Correct Marks : 1 Wrong Marks : 0.25

Improve the bracketed part of the sentence. If there is No improvement, choose 'No improvement'.

This property belongs to (Kansals).

Options :

1. ✖ Kansal
2. ✖ Kansals'
3. ✖ Kansal's
4. ✔ No improvement

Question Number : 65 Question Id : 99836741307 Question Type : MCQ Option Shuffling : Yes Display Question Number : Yes
Single Line Question Option : No Option Orientation : Vertical

Correct Marks : 1 Wrong Marks : 0.25

A sentence has been given with a blank to be filled with an appropriate word. Choose the correct alternative.

The origin of ice-cream dates back _____ nearly half-a-century.

Options :

1. ✖ into
2. ✔ to
3. ✖ at
4. ✖ from

Question Number : 65 Question Id : 99836741307 Question Type : MCQ Option Shuffling : Yes Display Question Number : Yes
Single Line Question Option : No Option Orientation : Vertical

Correct Marks : 1 Wrong Marks : 0.25

A sentence has been given with a blank to be filled with an appropriate word. Choose the correct alternative.

The origin of ice-cream dates back _____ nearly half-a-century.

Options :

1. ✖ into
2. ✔ to
3. ✖ at
4. ✖ from

Question Number : 66 Question Id : 99836741308 Question Type : MCQ Option Shuffling : Yes Display Question Number : Yes
Single Line Question Option : No Option Orientation : Vertical

Correct Marks : 1 Wrong Marks : 0.25

A sentence has been given with a blank to be filled with an appropriate word. Choose the correct alternative.

She _____ her portrait in the main hall.

Options :

1. ✗ hang
2. ✗ hanged
3. ✓ hung
4. ✗ had hunged

Question Number : 66 Question Id : 99836741308 Question Type : MCQ Option Shuffling : Yes Display Question Number : Yes
Single Line Question Option : No Option Orientation : Vertical

Correct Marks : 1 Wrong Marks : 0.25

A sentence has been given with a blank to be filled with an appropriate word. Choose the correct alternative.

She _____ her portrait in the main hall.

Options :

1. ✗ hang
2. ✗ hanged
3. ✓ hung
4. ✗ had hunged

Question Number : 67 Question Id : 99836741309 Question Type : MCQ Option Shuffling : Yes Display Question Number : Yes
Single Line Question Option : No Option Orientation : Vertical

Correct Marks : 1 Wrong Marks : 0.25

Rearrange the parts of the sentence in correct order.

P: There is a
Q: type of chess
R: with short
S: time limits

Options :

1. ✗ SRQP
2. ✗ SQRP
3. ✗ RSQP
4. ✓ PQRS

Question Number : 67 Question Id : 99836741309 Question Type : MCQ Option Shuffling : Yes Display Question Number : Yes
Single Line Question Option : No Option Orientation : Vertical

Correct Marks : 1 Wrong Marks : 0.25

Rearrange the parts of the sentence in correct order.

P: There is a
Q: type of chess
R: with short
S: time limits

Options :

1. ✗ SRQP
2. ✗ SQRP
3. ✗ RSQP
4. ✓ PQRS

Question Number : 68 Question Id : 99836741310 Question Type : MCQ Option Shuffling : Yes Display Question Number : Yes
Single Line Question Option : No Option Orientation : Vertical

Correct Marks : 1 Wrong Marks : 0.25

Rearrange the parts of the sentence in correct order.

P: shortage of a
Q: are facing
R: natural fodder
S: sunderban tigers

Options :

1. ✖ PQRS
2. ✔ SQPR
3. ✖ SQRP
4. ✖ QSRP

Question Number : 68 Question Id : 99836741310 Question Type : MCQ Option Shuffling : Yes Display Question Number : Yes
Single Line Question Option : No Option Orientation : Vertical

Correct Marks : 1 Wrong Marks : 0.25

Rearrange the parts of the sentence in correct order.

P: shortage of a
Q: are facing
R: natural fodder
S: sunderban tigers

Options :

1. ✖ PQRS
2. ✔ SQPR
3. ✖ SQRP
4. ✖ QSRP

Question Number : 69 Question Id : 99836741311 Question Type : MCQ Option Shuffling : Yes Display Question Number : Yes
Single Line Question Option : No Option Orientation : Vertical

Correct Marks : 1 Wrong Marks : 0.25

Choose the word that means the same as the given word.

Apathy

Options :

1. ✖ Yell
2. ✖ Disgust
3. ✖ Apex
4. ✔ Lethargy

Question Number : 69 Question Id : 99836741311 Question Type : MCQ Option Shuffling : Yes Display Question Number : Yes
Single Line Question Option : No Option Orientation : Vertical

Correct Marks : 1 Wrong Marks : 0.25

Choose the word that means the same as the given word.

Apathy

Options :

1. ✖ Yell
2. ✖ Disgust

3. ✖ Apex
4. ✔ Lethargy

Question Number : 70 Question Id : 99836741312 Question Type : MCQ Option Shuffling : Yes Display Question Number : Yes
Single Line Question Option : No Option Orientation : Vertical

Correct Marks : 1 Wrong Marks : 0.25

Choose the word that is opposite in meaning to the given word.

Forgo

Options :

1. ✖ Beautiful
2. ✔ Avoid
3. ✖ Wane
4. ✖ Rise

Question Number : 70 Question Id : 99836741312 Question Type : MCQ Option Shuffling : Yes Display Question Number : Yes
Single Line Question Option : No Option Orientation : Vertical

Correct Marks : 1 Wrong Marks : 0.25

Choose the word that is opposite in meaning to the given word.

Forgo

Options :

1. ✖ Beautiful
2. ✔ Avoid
3. ✖ Wane
4. ✖ Rise

Question Number : 71 Question Id : 99836741313 Question Type : MCQ Option Shuffling : Yes Display Question Number : Yes
Single Line Question Option : No Option Orientation : Vertical

Correct Marks : 1 Wrong Marks : 0.25

In the given question, four words are given out of which one word is correctly spelt. Choose the correctly spelt word.

Options :

1. ✖ Arguement
2. ✖ Argewment
3. ✔ Argument
4. ✖ Arguemant

Question Number : 71 Question Id : 99836741313 Question Type : MCQ Option Shuffling : Yes Display Question Number : Yes
Single Line Question Option : No Option Orientation : Vertical

Correct Marks : 1 Wrong Marks : 0.25

In the given question, four words are given out of which one word is correctly spelt. Choose the correctly spelt word.

Options :

1. ✖ Arguement
2. ✖ Argewment
3. ✔ Argument
4. ✖ Arguemant

Question Number : 72 Question Id : 99836741314 Question Type : MCQ Option Shuffling : Yes Display Question Number : Yes
Single Line Question Option : No Option Orientation : Vertical

Correct Marks : 1 Wrong Marks : 0.25

In the given question, four words are given out of which one word is correctly spelt. Choose the correctly spelt word.

Options :

1. ✓ Conscience
2. ✗ Existance
3. ✗ Feiry
4. ✗ Hieght

Question Number : 72 Question Id : 99836741314 Question Type : MCQ Option Shuffling : Yes Display Question Number : Yes
Single Line Question Option : No Option Orientation : Vertical

Correct Marks : 1 Wrong Marks : 0.25

In the given question, four words are given out of which one word is correctly spelt. Choose the correctly spelt word.

Options :

1. ✓ Conscience
2. ✗ Existance
3. ✗ Feiry
4. ✗ Hieght

Question Number : 73 Question Id : 99836741315 Question Type : MCQ Option Shuffling : Yes Display Question Number : Yes
Single Line Question Option : No Option Orientation : Vertical

Correct Marks : 1 Wrong Marks : 0.25

In the following question, out of the given four alternatives, select the alternative which best expresses the meaning of the Idiom/Phrase.

Apple of someone's eye

Options :

1. ✓ Someone loved very much
2. ✗ A poor plan
3. ✗ An important day
4. ✗ In disorder

Question Number : 73 Question Id : 99836741315 Question Type : MCQ Option Shuffling : Yes Display Question Number : Yes
Single Line Question Option : No Option Orientation : Vertical

Correct Marks : 1 Wrong Marks : 0.25

In the following question, out of the given four alternatives, select the alternative which best expresses the meaning of the Idiom/Phrase.

Apple of someone's eye

Options :

1. ✓ Someone loved very much
2. ✗ A poor plan
3. ✗ An important day
4. ✗ In disorder

Question Number : 74 Question Id : 99836741316 Question Type : MCQ Option Shuffling : Yes Display Question Number : Yes
Single Line Question Option : No Option Orientation : Vertical

Correct Marks : 1 Wrong Marks : 0.25

In the following question, out of the given four alternatives, select the alternative which best expresses the meaning of the Idiom/Phrase.

Burn the midnight oil

Options :

1. ✖ Reduce the power of something
2. ✖ To earn money to live
3. ✔ To study till late of night
4. ✖ To keep quite

Question Number : 74 Question Id : 99836741316 Question Type : MCQ Option Shuffling : Yes Display Question Number : Yes
Single Line Question Option : No Option Orientation : Vertical

Correct Marks : 1 Wrong Marks : 0.25

In the following question, out of the given four alternatives, select the alternative which best expresses the meaning of the Idiom/Phrase.

Burn the midnight oil

Options :

1. ✖ Reduce the power of something
2. ✖ To earn money to live
3. ✔ To study till late of night
4. ✖ To keep quite

Question Number : 75 Question Id : 99836741317 Question Type : MCQ Option Shuffling : Yes Display Question Number : Yes
Single Line Question Option : No Option Orientation : Vertical

Correct Marks : 1 Wrong Marks : 0.25

Choose the word that can substitute the given sentence.

Who behaves without moral principles?

Options :

1. ✔ Immoral
2. ✖ Lunatic
3. ✖ Stoic
4. ✖ Polyglot

Question Number : 75 Question Id : 99836741317 Question Type : MCQ Option Shuffling : Yes Display Question Number : Yes
Single Line Question Option : No Option Orientation : Vertical

Correct Marks : 1 Wrong Marks : 0.25

Choose the word that can substitute the given sentence.

Who behaves without moral principles?

Options :

1. ✔ Immoral
2. ✖ Lunatic
3. ✖ Stoic
4. ✖ Polyglot

Question Id : 99836741318 Question Type : COMPREHENSION Sub Question Shuffling Allowed : Yes Group Comprehension Questions : No

Question Numbers : (76 to 80)

Question Label : Comprehension

Read the following information carefully and answer the given questions.

By the mid 19th century, mass production of paper patterns, the emergence of the home sewing machine and the convenience of mail order catalogues brought fashionable clothing into the American home. By the early 20th century, home economists working in extension and outreach programmes taught women how to use paper patterns to improve the fit and efficiency of new garments as well as how to update the existing ones. Teachers of home economics traditionally made home sewing a critical part of their curriculum, emphasising self sufficiency and resourcefulness for young women. However, with the increasing availability of mass produced clothing in catalogues and department stores, more and more women preferred buying garments to making them. As a result, home economists shifted their attention to consumer education. Through field study, analysis and research, they became experts on the purchase and preservation of ready to wear clothing for the family, offering budgeting instruction targeted at adolescent girls. Modern home sewing made it possible for American women to transcend their economic differences and geographic locations with clothing that increasingly standardised. The democratisation of fashion continued through the 20th century as the ready-to-wear market expanded and home sewing became more of a pastime than necessity.

Sub questions

Question Number : 76 Question Id : 99836741319 Question Type : MCQ Option Shuffling : Yes Display Question Number : Yes Single Line Question Option : No Option Orientation : Vertical

Correct Marks : 1 Wrong Marks : 0.25

Which of the following is true with reference to democratisation?

Options :

- ✗ Altering or modifying in a beneficial way.
- ✗ Transitioning to a more democratic political regime.
- ✗ Gradually becoming acceptable for an entire nation.
- ✓ Becoming widely available to a populace.

Question Number : 77 Question Id : 99836741320 Question Type : MCQ Option Shuffling : Yes Display Question Number : Yes Single Line Question Option : No Option Orientation : Vertical

Correct Marks : 1 Wrong Marks : 0.25

Which of the following is not related to a decline in home sewing?

Options :

- ✗ Mail order catalogues
- ✗ Curriculum changes in home economics courses
- ✗ The availability of apparel in retail outlets
- ✓ Changing fashion trends

Question Number : 78 Question Id : 99836741321 Question Type : MCQ Option Shuffling : Yes Display Question Number : Yes Single Line Question Option : No Option Orientation : Vertical

Correct Marks : 1 Wrong Marks : 0.25

According to the passage the advent of mail order catalogues altered the role of home economists because -----.

Options :

- ✗ Home economists had to compete with the ready - to - wear market place
- ✗ Mass produced clothing rendered their jobs obsolete
- ✓ Their focus shifted to instruction on budgeting, buying and preserving clothing
- ✗ Women ceased Sewing, so home economists had to teach other subjects

Question Number : 79 Question Id : 99836741322 Question Type : MCQ Option Shuffling : Yes Display Question Number : Yes
Single Line Question Option : No Option Orientation : Vertical

Correct Marks : 1 Wrong Marks : 0.25

Which of the following is the main focus of the passage?

Options :

1. ☒ Changing role of home economists as a result of changes in the world
2. ☐ Historical shifts in home sewing from the mid 19th century through the 20th century
3. ☐ Modernisation of home sewing
4. ☐ Impact of ready-to-wear and mass-produced fashion on home home sewing

Question Number : 80 Question Id : 99836741323 Question Type : MCQ Option Shuffling : Yes Display Question Number : Yes
Single Line Question Option : No Option Orientation : Vertical

Correct Marks : 1 Wrong Marks : 0.25

Which of the following means the same as efficiency?

Options :

1. ☐ Inability
2. ☐ Idleness
3. ☒ Adequacy
4. ☐ Ineptness

Question Id : 99836741318 Question Type : COMPREHENSION Sub Question Shuffling Allowed : Yes Group Comprehension Questions : No

Question Numbers : (76 to 80)

Question Label : Comprehension

Read the following information carefully and answer the given questions.

By the mid 19th century, mass production of paper patterns, the emergence of the home sewing machine and the convenience of mail order catalogues brought fashionable clothing into the American home. By the early 20th century, home economists working in extension and outreach programmes taught women how to use paper patterns to improve the fit and efficiency of new garments as well as how to update the existing ones. Teachers of home economics traditionally made home sewing a critical part of their curriculum, emphasising self sufficiency and resourcefulness for young women. However, with the increasing availability of mass produced clothing in catalogues and department stores, more and more women preferred buying garments to making them. As a result, home economists shifted their attention to consumer education. Through field study, analysis and research, they became experts on the purchase and preservation of ready to wear clothing for the family, offering budgeting instruction targeted at adolescent girls. Modern home sewing made it possible for American women to transcend their economic differences and geographic locations with clothing that increasingly standardised. The democratisation of fashion continued through the 20th century as the ready-to-wear market expanded and home sewing became more of a pastime than necessity.

Sub questions

Question Number : 76 Question Id : 99836741319 Question Type : MCQ Option Shuffling : Yes Display Question Number : Yes
Single Line Question Option : No Option Orientation : Vertical

Correct Marks : 1 Wrong Marks : 0.25

Which of the following is true with reference to democratisation?

Options :

1. ☐ Altering or modifying in a beneficial way.
2. ☐ Transitioning to a more democratic political regime.
3. ☐ Gradually becoming acceptable for an entire nation.
4. ☒ Becoming widely available to a populace.

Question Number : 77 Question Id : 99836741320 Question Type : MCQ Option Shuffling : Yes Display Question Number : Yes
Single Line Question Option : No Option Orientation : Vertical

Correct Marks : 1 Wrong Marks : 0.25

Which of the following is not related to a decline in home sewing?

Options :

1. ✖ Mail order catalogues
2. ✖ Curriculum changes in home economics courses
3. ✖ The availability of apparel in retail outlets
4. ✔ Changing fashion trends

Question Number : 78 Question Id : 99836741321 Question Type : MCQ Option Shuffling : Yes Display Question Number : Yes
Single Line Question Option : No Option Orientation : Vertical

Correct Marks : 1 Wrong Marks : 0.25

According to the passage the advent of mail order catalogues altered the role of home economists because

Options :

1. ✖ Home economists had to compete with the ready - to - wear market place
2. ✖ Mass produced clothing rendered their jobs obsolete
3. ✔ Their focus shifted to instruction on budgeting, buying and preserving clothing
4. ✖ Women ceased Sewing, so home economists had to teach other subjects

Question Number : 79 Question Id : 99836741322 Question Type : MCQ Option Shuffling : Yes Display Question Number : Yes
Single Line Question Option : No Option Orientation : Vertical

Correct Marks : 1 Wrong Marks : 0.25

Which of the following is the main focus of the passage?

Options :

1. ✔ Changing role of home economists as a result of changes in the world
2. ✖ Historical shifts in home sewing from the mid 19th century through the 20th century
3. ✖ Modernisation of home sewing
4. ✖ Impact of ready-to-wear and mass-produced fashion on home home sewing

Question Number : 80 Question Id : 99836741323 Question Type : MCQ Option Shuffling : Yes Display Question Number : Yes
Single Line Question Option : No Option Orientation : Vertical

Correct Marks : 1 Wrong Marks : 0.25

Which of the following means the same as efficiency?

Options :

1. ✖ Inability
2. ✖ Idleness
3. ✔ Adequacy
4. ✖ Ineptness

General Hindi

Group Number :	5
Group Id :	9983671315
Group Maximum Duration :	0
Group Minimum Duration :	0
Revisit allowed for view? :	No
Revisit allowed for edit? :	No

Break time:	0
Group Marks:	20
Revisit allowed for group Instructions? :	Yes
Maximum Instruction Time:	0
Minimum Instruction Time:	0

General Hindi

Section Id :	9983671714
Section Number :	1
Section type :	Online
Mandatory or Optional:	Mandatory
Number of Questions:	16
Number of Questions to be attempted:	16
Section Marks:	20
Display Number Panel:	Yes
Group All Questions:	No

Sub-Section Number:	1
Sub-Section Id:	9983672129
Question Shuffling Allowed :	Yes

Question Number : 81 Question Id : 99836741324 Question Type : MCQ Option Shuffling : Yes Display Question Number : Yes
Single Line Question Option : No Option Orientation : Vertical

Correct Marks : 1 Wrong Marks : 0.25

दिए गए शब्द की संधि ज्ञात कीजिए

अच् + अन्त

Options :

- ✖ अचंत
- ✔ अजन्त
- ✖ अजत
- ✖ अचित

Question Number : 81 Question Id : 99836741324 Question Type : MCQ Option Shuffling : Yes Display Question Number : Yes
Single Line Question Option : No Option Orientation : Vertical

Correct Marks : 1 Wrong Marks : 0.25

दिए गए शब्द की संधि ज्ञात कीजिए

अच् + अन्त

Options :

- ✖ अचंत
- ✔ अजन्त
- ✖ अजत
- ✖ अचित

Question Number : 82 Question Id : 99836741325 Question Type : MCQ Option Shuffling : Yes Display Question Number : Yes
Single Line Question Option : No Option Orientation : Vertical

Correct Marks : 1 Wrong Marks : 0.25

दिए गए शब्द का समास ज्ञात कीजिए।

कनकलता

Options :

1. ☒ कर्मधारय समास
2. ☐ द्वंद्व समास
3. ☐ द्विगु समास
4. ☐ तत्पुरुष समास

Question Number : 82 Question Id : 99836741325 Question Type : MCQ Option Shuffling : Yes Display Question Number : Yes
Single Line Question Option : No Option Orientation : Vertical

Correct Marks : 1 Wrong Marks : 0.25

दिए गए शब्द का समास ज्ञात कीजिए।

कनकलता

Options :

1. ☒ कर्मधारय समास
2. ☐ द्वंद्व समास
3. ☐ द्विगु समास
4. ☐ तत्पुरुष समास

Question Number : 83 Question Id : 99836741326 Question Type : MCQ Option Shuffling : Yes Display Question Number : Yes
Single Line Question Option : No Option Orientation : Vertical

Correct Marks : 1 Wrong Marks : 0.25

दिए गए वाक्य में सर्वनाम ज्ञात कीजिए।

वह अपने पिताजी के साथ स्कूल जाती है।

Options :

1. ☒ वह
2. ☐ अपने
3. ☐ स्कूल
4. ☐ के साथ

Question Number : 83 Question Id : 99836741326 Question Type : MCQ Option Shuffling : Yes Display Question Number : Yes
Single Line Question Option : No Option Orientation : Vertical

Correct Marks : 1 Wrong Marks : 0.25

दिए गए वाक्य में सर्वनाम ज्ञात कीजिए।

वह अपने पिताजी के साथ स्कूल जाती है।

Options :

1. ☒ वह
2. ☐ अपने
3. ☐ स्कूल
4. ☐ के साथ

Question Number : 84 Question Id : 99836741327 Question Type : MCQ Option Shuffling : Yes Display Question Number : Yes
Single Line Question Option : No Option Orientation : Vertical

Correct Marks : 1 Wrong Marks : 0.25

दिए गए शब्द का पर्यायवाची ज्ञात कीजिए।

मीन

Options :

1. ❌ नारी
2. ❌ हेम
3. ✔️ मत्स्य
4. ❌ अबला

Question Number : 84 Question Id : 99836741327 Question Type : MCQ Option Shuffling : Yes Display Question Number : Yes
Single Line Question Option : No Option Orientation : Vertical

Correct Marks : 1 Wrong Marks : 0.25

दिए गए शब्द का पर्यायवाची ज्ञात कीजिए

मीन

Options :

1. ❌ नारी
2. ❌ हेम
3. ✔️ मत्स्य
4. ❌ अबला

Question Number : 85 Question Id : 99836741328 Question Type : MCQ Option Shuffling : Yes Display Question Number : Yes
Single Line Question Option : No Option Orientation : Vertical

Correct Marks : 1 Wrong Marks : 0.25

दिए गए शब्द का विलोम ज्ञात कीजिए

लोभी

Options :

1. ❌ अलोभी
2. ✔️ निर्लोभी
3. ❌ विलोभी
4. ❌ निर्बल

Question Number : 85 Question Id : 99836741328 Question Type : MCQ Option Shuffling : Yes Display Question Number : Yes
Single Line Question Option : No Option Orientation : Vertical

Correct Marks : 1 Wrong Marks : 0.25

दिए गए शब्द का विलोम ज्ञात कीजिए

लोभी

Options :

1. ❌ अलोभी
2. ✔️ निर्लोभी
3. ❌ विलोभी
4. ❌ निर्बल

Question Number : 86 Question Id : 99836741329 Question Type : MCQ Option Shuffling : Yes Display Question Number : Yes
Single Line Question Option : No Option Orientation : Vertical

Correct Marks : 1 Wrong Marks : 0.25

दिए गए वाक्यांश के लिए सार्थक शब्द ज्ञात कीजिए

जो आंखों के सामने हो

Options :

1. ✔️ प्रत्यक्ष

2. ✖ अप्रत्यक्ष
3. ✖ लौकिक
4. ✖ अलौकिक

Question Number : 86 Question Id : 99836741329 Question Type : MCQ Option Shuffling : Yes Display Question Number : Yes
Single Line Question Option : No Option Orientation : Vertical

Correct Marks : 1 Wrong Marks : 0.25

दिए गए वाक्यांश के लिए सार्थक शब्द ज्ञात कीजिए

जो आंखों के सामने हो

Options :

1. ✔ प्रत्यक्ष
2. ✖ अप्रत्यक्ष
3. ✖ लौकिक
4. ✖ अलौकिक

Question Number : 87 Question Id : 99836741330 Question Type : MCQ Option Shuffling : Yes Display Question Number : Yes
Single Line Question Option : No Option Orientation : Vertical

Correct Marks : 1 Wrong Marks : 0.25

दिए गए शब्दों में से शुद्ध वर्तनी ज्ञात कीजिए

Options :

1. ✖ स्वास्थ
2. ✔ स्वास्थ
3. ✖ सवास्थ
4. ✖ स्वास्थ

Question Number : 87 Question Id : 99836741330 Question Type : MCQ Option Shuffling : Yes Display Question Number : Yes
Single Line Question Option : No Option Orientation : Vertical

Correct Marks : 1 Wrong Marks : 0.25

दिए गए शब्दों में से शुद्ध वर्तनी ज्ञात कीजिए

Options :

1. ✖ स्वास्थ
2. ✔ स्वास्थ
3. ✖ सवास्थ
4. ✖ स्वास्थ

Question Number : 88 Question Id : 99836741331 Question Type : MCQ Option Shuffling : Yes Display Question Number : Yes
Single Line Question Option : No Option Orientation : Vertical

Correct Marks : 1 Wrong Marks : 0.25

दिए गए वाक्य में किस प्रकार का पुरुष है ज्ञात कीजिए

आपके आने से मुझे बहुत खुशी हुई

Note: For this question, discrepancy is found in question/answer. So, this question is ignored for all candidates.

Options :

1. उत्तम पुरुष
2. मध्यम पुरुष
3. प्रथम पुरुष
4. अन्य पुरुष

Question Number : 88 Question Id : 99836741331 Question Type : MCQ Option Shuffling : Yes Display Question Number : Yes
Single Line Question Option : No Option Orientation : Vertical

Correct Marks : 1 Wrong Marks : 0.25

दिए गए वाक्य में किस प्रकार का पुरुष है ज्ञात कीजिए।

आपके आने से मुझे बहुत खुशी हुई।

Note: For this question, discrepancy is found in question/answer. So, this question is ignored for all candidates.

Options :

1. उत्तम पुरुष
2. मध्यम पुरुष
3. प्रथम पुरुष
4. अन्य पुरुष

Question Number : 89 Question Id : 99836741332 Question Type : MCQ Option Shuffling : Yes Display Question Number : Yes
Single Line Question Option : No Option Orientation : Vertical

Correct Marks : 1 Wrong Marks : 0.25

दिए गए वाक्यों में शुद्ध वाक्य ज्ञात कीजिए।

Options :

1. ✖ दौड़ में रमेश का स्थान पाँचवां रहा
2. ✖ दौड़ में रमेश ने स्थान पर पाँचवा रहा
3. ✖ रमेश ने दौड़ में पाँचवी स्थान हासिल किया
4. ✔ दौड़ में रमेश का स्थान पाँचवा रहा

Question Number : 89 Question Id : 99836741332 Question Type : MCQ Option Shuffling : Yes Display Question Number : Yes
Single Line Question Option : No Option Orientation : Vertical

Correct Marks : 1 Wrong Marks : 0.25

दिए गए वाक्यों में शुद्ध वाक्य ज्ञात कीजिए।

Options :

1. ✖ दौड़ में रमेश का स्थान पाँचवां रहा
2. ✖ दौड़ में रमेश ने स्थान पर पाँचवा रहा
3. ✖ रमेश ने दौड़ में पाँचवी स्थान हासिल किया
4. ✔ दौड़ में रमेश का स्थान पाँचवा रहा

Question Number : 90 Question Id : 99836741333 Question Type : MCQ Option Shuffling : Yes Display Question Number : Yes
Single Line Question Option : No Option Orientation : Vertical

Correct Marks : 1 Wrong Marks : 0.25

दिए गए वाक्यों में से कर्तृवाच्य वाक्य ज्ञात कीजिए।

Options :

1. ✖ दीपक से रोया नहीं जाता।
2. ✖ दीपक के द्वारा रोया नहीं जाता।
3. ✖ दीपक से उसके द्वारा नहीं रोया जाता।
4. ✔ दीपक रोता नहीं है।

Question Number : 90 Question Id : 99836741333 Question Type : MCQ Option Shuffling : Yes Display Question Number : Yes
Single Line Question Option : No Option Orientation : Vertical

Correct Marks : 1 Wrong Marks : 0.25

दिए गए वाक्यों में से कर्तृवाच्य वाक्य ज्ञात कीजिए।

Options :

1. ✖ दीपक से रोया नहीं जाता
2. ✖ दीपक के द्वारा रोया नहीं जाता
3. ✖ दीपक से उसके द्वारा नहीं रोया जाता
4. ✔ दीपक रोता नहीं है

Question Number : 91 Question Id : 99836741334 Question Type : MCQ Option Shuffling : Yes Display Question Number : Yes
Single Line Question Option : No Option Orientation : Vertical

Correct Marks : 1 Wrong Marks : 0.25

दिए गए वाक्यों में से मिश्र वाक्य ज्ञात कीजिए

Options :

1. ✖ वह पुस्तक कहाँ है?
2. ✖ वह पुस्तक कहाँ है और मेज पर रखी थी।
3. ✔ वह पुस्तक कहाँ है जो कल मेज पर रखी थी।
4. ✖ वह पुस्तक भी कहाँ है?

Question Number : 91 Question Id : 99836741334 Question Type : MCQ Option Shuffling : Yes Display Question Number : Yes
Single Line Question Option : No Option Orientation : Vertical

Correct Marks : 1 Wrong Marks : 0.25

दिए गए वाक्यों में से मिश्र वाक्य ज्ञात कीजिए

Options :

1. ✖ वह पुस्तक कहाँ है?
2. ✖ वह पुस्तक कहाँ है और मेज पर रखी थी।
3. ✔ वह पुस्तक कहाँ है जो कल मेज पर रखी थी।
4. ✖ वह पुस्तक भी कहाँ है?

Question Number : 92 Question Id : 99836741335 Question Type : MCQ Option Shuffling : Yes Display Question Number : Yes
Single Line Question Option : No Option Orientation : Vertical

Correct Marks : 1 Wrong Marks : 0.25

दिए गए वाक्य में उचित स्थान पर विराम चिह्न ज्ञात कीजिए

दादा जी मुझे खेल प्रतियोगिता के लिए चुन लिया गया है

Options :

1. ✔ , ।
2. ✖ ! ,
3. ✖ , ,
4. ✖ , ?

Question Number : 92 Question Id : 99836741335 Question Type : MCQ Option Shuffling : Yes Display Question Number : Yes
Single Line Question Option : No Option Orientation : Vertical

Correct Marks : 1 Wrong Marks : 0.25

दिए गए वाक्य में उचित स्थान पर विराम चिह्न ज्ञात कीजिए

दादा जी मुझे खेल प्रतियोगिता के लिए चुन लिया गया है

Options :

1. ✔ , ।
2. ✖ ! ,
3. ✖ , ,
4. ✖ , ?

Question Number : 93 Question Id : 99836741336 Question Type : MCQ Option Shuffling : Yes Display Question Number : Yes
Single Line Question Option : No Option Orientation : Vertical

Correct Marks : 1 Wrong Marks : 0.25

दिए गए मुहावरे का अर्थ ज्ञात कीजिए

गुण गाना

Options :

1. ✖ हरा देना
2. ✔ तारीफ करना
3. ✖ भारी पड़ना
4. ✖ मना करना

Question Number : 93 Question Id : 99836741336 Question Type : MCQ Option Shuffling : Yes Display Question Number : Yes
Single Line Question Option : No Option Orientation : Vertical

Correct Marks : 1 Wrong Marks : 0.25

दिए गए मुहावरे का अर्थ ज्ञात कीजिए

गुण गाना

Options :

1. ✖ हरा देना
2. ✔ तारीफ करना
3. ✖ भारी पड़ना
4. ✖ मना करना

Question Number : 94 Question Id : 99836741337 Question Type : MCQ Option Shuffling : Yes Display Question Number : Yes
Single Line Question Option : No Option Orientation : Vertical

Correct Marks : 1 Wrong Marks : 0.25

दिए गए रिक्त स्थान में उचित मुहावरे का अर्थ ज्ञात कीजिए

आज कार से टक्कर हो गई लेकिन हम _____।

Options :

1. ✖ काम तमाम कर दिया
2. ✖ स्वर्ग सिधार गए
3. ✔ बाल-बाल बच गए
4. ✖ कतई नहीं बचे

Question Number : 94 Question Id : 99836741337 Question Type : MCQ Option Shuffling : Yes Display Question Number : Yes
Single Line Question Option : No Option Orientation : Vertical

Correct Marks : 1 Wrong Marks : 0.25

दिए गए रिक्त स्थान में उचित मुहावरे का अर्थ ज्ञात कीजिए

आज कार से टक्कर हो गई लेकिन हम _____।

Options :

1. ✖ काम तमाम कर दिया
2. ✖ स्वर्ग सिधार गए
3. ✔ बाल-बाल बच गए
4. ✖ कतई नहीं बचे

Question Number : 95 Question Id : 99836741338 Question Type : MCQ Option Shuffling : Yes Display Question Number : Yes
Single Line Question Option : No Option Orientation : Vertical

Correct Marks : 1 Wrong Marks : 0.25

दिए गए वाक्य में उचित स्थान पर विराम चिह्न ज्ञात कीजिए।

हाय ----- मैं तो कहीं का नहीं रहा -----

Options :

1. ✓ ! !
2. ✗ , !
3. ✗ ! ,
4. ✗ , ,

Question Number : 95 Question Id : 99836741338 Question Type : MCQ Option Shuffling : Yes Display Question Number : Yes
Single Line Question Option : No Option Orientation : Vertical

Correct Marks : 1 Wrong Marks : 0.25

दिए गए वाक्य में उचित स्थान पर विराम चिह्न ज्ञात कीजिए।

हाय ----- मैं तो कहीं का नहीं रहा -----

Options :

1. ✓ ! !
2. ✗ , !
3. ✗ ! ,
4. ✗ , ,

Sub-Section Number: 2
Sub-Section Id: 9983672130
Question Shuffling Allowed : Yes

Question Id : 99836741339 Question Type : COMPREHENSION Sub Question Shuffling Allowed : Yes Group Comprehension
Questions : No

Question Numbers : (96 to 100)

Question Label : Comprehension

एक गद्यांश दिया गया है। गद्यांश को ध्यानपूर्वक पढ़ें तथा प्रत्येक प्रश्न के चार विकल्पों में से सही विकल्प चुनें।

किसी भी स्वतंत्र राष्ट्र की अपनी एक भाषा होती है जो उसका गौरव होती है। राष्ट्रीय एकता और राष्ट्र के स्थायित्व के लिए राष्ट्रभाषा अनिवार्य रूप से होनी चाहिए जो किसी भी राष्ट्र के लिये सर्वोपरि होती है। स्वतंत्रता के बाद भारत की संविधान सभा ने 14 सितम्बर 1949 को हिंदीभाषा को भारत संघ की राजभाषा के रूप में मान्यता दी थी। किसी भी भाषा को राष्ट्रभाषा बनने के लिए उसमें सर्वव्यापकता, प्रचुर साहित्य रचना, बनावट की दृष्टि से सरलता और वैज्ञानिकता, सब प्रकार के भावों को प्रकट करने का सामर्थ्य आदि गुण होने अनिवार्य होते हैं। यह सभी गुण हिंदी भाषा में हैं। हिन्दी जनसंपर्क का सरल व सुगम साधन है। आजादी के बाद जब संपूर्ण राष्ट्र को एक सूत्र में बाँध कर रखने की आवश्यकता महसूस हुई तो ये उत्तरदायित्व हिंदी को दिया गया। तभी 14 सितम्बर 1949 को हिंदी को राजभाषा के पद पर आसीन किया गया। आज हिंदी भाषा को अपने ही घर में, अपने ही देश में श्वास लेने में कठिनाई हो रही है। हम हिंदी में लिखना नहीं चाहते, पढ़ना नहीं चाहते, बोलना नहीं चाहते। महात्मा गाँधी का कथन - 'राष्ट्रभाषा के बिना देश गंगा है।' अथवा श्री कमलापति त्रिपाठी का कथन - 'हिंदी भारतीय संस्कृति की आत्मा है।' विश्व में हिंदी भाषा ने अपनी पहचान बनाने के लिए हमारे विचारों की सुदृढ़ नींव रखी। रामचरितमानस, सूरदास के पद, भगवद्गीता आदि अनेक महान ग्रंथ जिनकी प्रशंसा करते पूरा विश्व नहीं थकता, उनके आनंद में सब आनंदित होना चाहते हैं। यहाँ पर एक विशेष ध्यान देने योग्य तथ्य यह है कि हिंदी का अर्थ सिर्फ खड़ी बोली से नहीं है। हिंदी परिवार में इसके जितने रूप हैं वे सब हिंदी ही हैं। भाषा हमारे विचारों के आदान-प्रदान का एक सशक्त माध्यम है। हजारी प्रसाद द्विवेदी जी ने कहा है- मनुष्य ही बड़ी चीज़ है और भाषा उसी की सेवा के लिए है। वहीं कबीर दास जी ने भाषा को 'बहता नीर' कहा है। यदि दोनों विद्वानों के कथन को मिलाकर देखा जाए तो हिंदी भाषा बहता नीर बन कर मनुष्य की सेवा कर रही है।

Sub questions

Question Number : 96 Question Id : 99836741340 Question Type : MCQ Option Shuffling : Yes Display Question Number : Yes
Single Line Question Option : No Option Orientation : Vertical

Correct Marks : 1 Wrong Marks : 0.25

स्वतंत्रता के बाद संविधान सभा ने हिंदी भाषा को कब मान्यता दी थी?

Options :

1. ✗ 15 सितम्बर 1950

2. ✖ 11 सितम्बर 1948
3. ✔ 14 सितम्बर 1949
4. ✖ 19 सितम्बर 1949

Question Number : 97 Question Id : 99836741341 Question Type : MCQ Option Shuffling : Yes Display Question Number : Yes
Single Line Question Option : No Option Orientation : Vertical

Correct Marks : 1 Wrong Marks : 0.25

हिंदी भाषा को भारत संघ की कौन-सी भाषा के रूप में मान्यता दी गई थी?

Options :

1. ✔ राजभाषा
2. ✖ संपर्क भाषा
3. ✖ संघभाषा
4. ✖ विरोधी भाषा

Question Number : 98 Question Id : 99836741342 Question Type : MCQ Option Shuffling : Yes Display Question Number : Yes
Single Line Question Option : No Option Orientation : Vertical

Correct Marks : 1 Wrong Marks : 0.25

हिंदी भाषा को विचारों के आदान-प्रदान करने का कैसा माध्यम माना जाता है?

Options :

1. ✖ कमज़ोर
2. ✔ सशक्त
3. ✖ सुशोभित
4. ✖ शक्तिहीन

Question Number : 99 Question Id : 99836741343 Question Type : MCQ Option Shuffling : Yes Display Question Number : Yes
Single Line Question Option : No Option Orientation : Vertical

Correct Marks : 1 Wrong Marks : 0.25

कौन-सी भाषा में सभी गुण माने गए हैं?

Options :

1. ✔ हिंदी
2. ✖ बंगाल
3. ✖ अवधी
4. ✖ खड़ी

Question Number : 100 Question Id : 99836741344 Question Type : MCQ Option Shuffling : Yes Display Question Number : Yes
Single Line Question Option : No Option Orientation : Vertical

Correct Marks : 1 Wrong Marks : 0.25

उपर्युक्त गद्यांश का उपयुक्त शीर्षक क्या होगा?

Options :

1. ✖ अंग्रेजी भाषा का महत्त्व
2. ✔ राजभाषा-हिंदी का महत्त्व
3. ✖ अवधी भाषा का महत्त्व
4. ✖ संघ भाषा का महत्त्व

Question Id : 99836741339 Question Type : COMPREHENSION Sub Question Shuffling Allowed : Yes Group Comprehension
Questions : No

Question Numbers : (96 to 100)

Question Label : Comprehension

एक गद्यांश दिया गया है। गद्यांश को ध्यानपूर्वक पढ़ें तथा प्रत्येक प्रश्न के चार विकल्पों में से सही विकल्प चुनें।

किसी भी स्वतंत्र राष्ट्र की अपनी एक भाषा होती है जो उसका गौरव होती है। राष्ट्रीय एकता और राष्ट्र के स्थायित्व के लिए राष्ट्रभाषा अनिवार्य रूप से होनी चाहिए जो किसी भी राष्ट्र के लिये सर्वोपरि होती है। स्वतंत्रता के बाद भारत की संविधान सभा ने 14 सितम्बर 1949 को हिंदीभाषा को भारत संघ की राजभाषा के रूप में मान्यता दी थी। किसी भी भाषा को राष्ट्रभाषा बनने के लिए उसमें सर्वव्यापकता, प्रचुर साहित्य रचना, बनावट की दृष्टि से सरलता और वैज्ञानिकता, सब प्रकार के भावों को प्रकट करने का सामर्थ्य आदि गुण होने अनिवार्य होते हैं। यह सभी गुण हिंदी भाषा में हैं। हिन्दी जनसंपर्क का सरल व सुगम साधन है। आजादी के बाद जब संपूर्ण राष्ट्र को एक सूत्र में बाँध कर रखने की आवश्यकता महसूस हुई तो ये उत्तरदायित्व हिंदी को दिया गया। तभी 14 सितम्बर 1949 को हिंदी को राजभाषा के पद पर आसीन किया गया। आज हिंदी भाषा को अपने ही घर में, अपने ही देश में श्वास लेने में कठिनाई हो रही है। हम हिंदी में लिखना नहीं चाहते, पढ़ना नहीं चाहते, बोलना नहीं चाहते। महात्मा गाँधी का कथन - 'राष्ट्रभाषा के बिना देश गुंगा है।' अथवा श्री कमलापति त्रिपाठी का कथन - 'हिंदी भारतीय संस्कृति की आत्मा है।' विश्व में हिंदी भाषा ने अपनी पहचान बनाने के लिए हमारे विचारों की सुदृढ़ नींव रखी। रामचरितमानस, सूरदास के पद, भगवद्गीता आदि अनेक महान ग्रंथ जिनकी प्रशंसा करते पूरा विश्व नहीं थकता, उनके आनंद में सब आनंदित होना चाहते हैं। यहाँ पर एक विशेष ध्यान देने योग्य तथ्य यह है कि हिंदी का अर्थ सिर्फ खड़ी बोली से नहीं है। हिंदी परिवार में इसके जितने रूप हैं वे सब हिंदी ही हैं। भाषा हमारे विचारों के आदान-प्रदान का एक सशक्त माध्यम है। हजारी प्रसाद द्विवेदी जी ने कहा है- मनुष्य ही बड़ी चीज़ है और भाषा उसी की सेवा के लिए है। वहीं कबीर दास जी ने भाषा को 'बहुता नीर' कहा है। यदि दोनों विद्वानों के कथन को मिलाकर देखा जाए तो हिंदी भाषा बहुता नीर बन कर मनुष्य की सेवा कर रही है।

Sub questions

Question Number : 96 Question Id : 99836741340 Question Type : MCQ Option Shuffling : Yes Display Question Number : Yes
Single Line Question Option : No Option Orientation : Vertical

Correct Marks : 1 Wrong Marks : 0.25

स्वतंत्रता के बाद संविधान सभा ने हिंदी भाषा को कब मान्यता दी थी?

Options :

- ✖ 15 सितम्बर 1950
- ✖ 11 सितम्बर 1948
- ✔ 14 सितम्बर 1949
- ✖ 19 सितम्बर 1949

Question Number : 97 Question Id : 99836741341 Question Type : MCQ Option Shuffling : Yes Display Question Number : Yes
Single Line Question Option : No Option Orientation : Vertical

Correct Marks : 1 Wrong Marks : 0.25

हिंदी भाषा को भारत संघ की कौन-सी भाषा के रूप में मान्यता दी गई थी?

Options :

- ✔ राजभाषा
- ✖ संपर्क भाषा
- ✖ संघभाषा
- ✖ विरोधी भाषा

Question Number : 98 Question Id : 99836741342 Question Type : MCQ Option Shuffling : Yes Display Question Number : Yes
Single Line Question Option : No Option Orientation : Vertical

Correct Marks : 1 Wrong Marks : 0.25

हिंदी भाषा को विचारों के आदान-प्रदान करने का कैसा माध्यम माना जाता है?

Options :

- ✖ कमज़ोर
- ✔ सशक्त
- ✖ सुशोभित
- ✖ शक्तिहीन

Question Number : 99 Question Id : 99836741343 Question Type : MCQ Option Shuffling : Yes Display Question Number : Yes
Single Line Question Option : No Option Orientation : Vertical

Correct Marks : 1 Wrong Marks : 0.25

कौन-सी भाषा में सभी गुण माने गए हैं?

Options :

1. ✓ हिंदी
2. ✗ बंगाल
3. ✗ अवधी
4. ✗ खड़ी

Question Number : 100 Question Id : 99836741344 Question Type : MCQ Option Shuffling : Yes Display Question Number : Yes
Single Line Question Option : No Option Orientation : Vertical

Correct Marks : 1 Wrong Marks : 0.25

उपर्युक्त गद्यांश का उपयुक्त शीर्षक क्या होगा?

Options :

1. ✗ अंग्रेजी भाषा का महत्त्व
2. ✓ राजभाषा-हिंदी का महत्त्व
3. ✗ अवधी भाषा का महत्त्व
4. ✗ संघ भाषा का महत्त्व

Discipline1

Group Number :	6
Group Id :	9983671316
Group Maximum Duration :	0
Group Minimum Duration :	0
Revisit allowed for view? :	No
Revisit allowed for edit? :	No
Break time:	0
Group Marks:	20
Revisit allowed for group Instructions? :	Yes
Maximum Instruction Time:	0
Minimum Instruction Time:	0

Discipline1

Section Id :	9983671715
Section Number :	1
Section type :	Online
Mandatory or Optional:	Mandatory
Number of Questions:	20
Number of Questions to be attempted:	20
Section Marks:	20
Display Number Panel:	Yes
Group All Questions:	No

Sub-Section Number:	1
Sub-Section Id:	9983672131
Question Shuffling Allowed :	Yes

Question Number : 101 Question Id : 99836741345 Question Type : MCQ Option Shuffling : Yes Display Question Number : Yes
Single Line Question Option : No Option Orientation : Vertical

Correct Marks : 1 Wrong Marks : 0.25

Which of the following is NOT one of the reasons why perception is important for the developing child?

Options :

1. ✖ Acquisition of knowledge
2. ✖ Memory
3. ✔ Rationalisation of child's views
4. ✖ Hand-eye-coordination

Question Number : 101 Question Id : 99836741345 Question Type : MCQ Option Shuffling : Yes Display Question Number : Yes
Single Line Question Option : No Option Orientation : Vertical

Correct Marks : 1 Wrong Marks : 0.25

विकासशील बच्चों के लिए धारणा महत्वपूर्ण क्यों है, इसका निम्नलिखित में से कौन सा एक कारण नहीं है?

Options :

1. ✖ ज्ञान का अधिग्रहण
2. ✖ स्मृति
3. ✔ बच्चों के विचारों का युक्तिकरण
4. ✖ हस्त-नेत्र समन्वय

Question Number : 102 Question Id : 99836741346 Question Type : MCQ Option Shuffling : Yes Display Question Number : Yes
Single Line Question Option : No Option Orientation : Vertical

Correct Marks : 1 Wrong Marks : 0.25

Which of the following is/are projective technique(s) under methods of assessing personality?

- I. Social-drama
- II. Parent's views
- III. Cloud picture test
- IV. Blacky picture test

Options :

1. ✖ I, II and III
2. ✖ II, III and IV
3. ✔ I, III and IV
4. ✖ I, II, III and IV

Question Number : 102 Question Id : 99836741346 Question Type : MCQ Option Shuffling : Yes Display Question Number : Yes
Single Line Question Option : No Option Orientation : Vertical

Correct Marks : 1 Wrong Marks : 0.25

निम्नलिखित में से कौन सा/से व्यक्तित्व का आकलन करने की विधियों के अंतर्गत प्रक्षेपीय तकनीक है?

- I. सोशल-ड्रामा
- II. माता-पिता के विचार
- III. क्लाउड पिक्चर परीक्षण
- IV. ब्लैकी पिक्चर परीक्षण

Options :

1. ✖ I, II तथा III
2. ✖ II, III तथा IV
3. ✔ I, III तथा IV
4. ✖ I, II, III तथा IV

Question Number : 103 Question Id : 99836741347 Question Type : MCQ Option Shuffling : Yes Display Question Number : Yes
Single Line Question Option : No Option Orientation : Vertical

Correct Marks : 1 Wrong Marks : 0.25

Which of the following is NOT a type of question?

Options :

1. ✖ Consequences Questions
2. ✖ Provocative Questions
3. ✔ Sensitive Questions
4. ✖ Divergent Questions

Question Number : 103 Question Id : 99836741347 Question Type : MCQ Option Shuffling : Yes Display Question Number : Yes
Single Line Question Option : No Option Orientation : Vertical

Correct Marks : 1 Wrong Marks : 0.25

निम्नलिखित में से कौन सा प्रश्न का एक प्रकार नहीं है?

Options :

1. ✖ परिणाम प्रश्न
2. ✖ उत्तेजक प्रश्न
3. ✔ संवेदनशील प्रश्न
4. ✖ अलग प्रकार के प्रश्न

Question Number : 104 Question Id : 99836741348 Question Type : MCQ Option Shuffling : Yes Display Question Number : Yes
Single Line Question Option : No Option Orientation : Vertical

Correct Marks : 1 Wrong Marks : 0.25

Which of the following type of discipline is developed as a revolt against the authoritarian discipline which many adults had been subjected to during their childhood?

Options :

1. ✖ Authoritarian discipline
2. ✖ Democratic discipline
3. ✔ Permissive discipline
4. ✖ Motivational discipline

Question Number : 104 Question Id : 99836741348 Question Type : MCQ Option Shuffling : Yes Display Question Number : Yes
Single Line Question Option : No Option Orientation : Vertical

Correct Marks : 1 Wrong Marks : 0.25

निम्नलिखित में से किस प्रकार के अनुशासन को आधिकारिक अनुशासन जिसे कई वयस्कों को उनके बचपन के दौरान किया गया था के खिलाफ घृणा उत्पन्न करने के लिए विकसित किया गया है?

Options :

1. ✖ आधिकारिक अनुशासन
2. ✖ लोकतांत्रिक अनुशासन
3. ✔ अनुमति अनुशासन
4. ✖ प्रेरक शासन

Question Number : 105 Question Id : 99836741349 Question Type : MCQ Option Shuffling : Yes Display Question Number : Yes
Single Line Question Option : No Option Orientation : Vertical

Correct Marks : 1 Wrong Marks : 0.25

Which of the following is/are activities that can be used to foster creativity among children?

- I. Invention
- II. Multiple uses
- III. Alliteration
- IV. Rote learning

Options :

1. ✔ I, II and III
2. ✖ II, III and IV

3. ✖ I, III and IV
4. ✖ I, II, III and IV

Question Number : 105 Question Id : 99836741349 Question Type : MCQ Option Shuffling : Yes Display Question Number : Yes
Single Line Question Option : No Option Orientation : Vertical

Correct Marks : 1 Wrong Marks : 0.25

निम्नलिखित में से कौन सी ऐसी गतिविधियाँ हैं जिनका उपयोग बच्चों में रचनात्मकता को बढ़ावा देने के लिए किया जा सकता है?

- I. आविष्कार
II. एकाधिक का उपयोग
III. अनुप्रास
IV. रटने

Options :

1. ✔ I, II तथा III
2. ✖ II, III तथा IV
3. ✖ I, III तथा IV
4. ✖ I, II, III तथा IV

Question Number : 106 Question Id : 99836741350 Question Type : MCQ Option Shuffling : Yes Display Question Number : Yes
Single Line Question Option : No Option Orientation : Vertical

Correct Marks : 1 Wrong Marks : 0.25

Which of the following Acts require the state to provide free and compulsory education to all children in the age group of 6 - 14 years?

Options :

1. ✔ Right of Children to Free and Compulsory Education Act, (RTE)
2. ✖ Education Act
3. ✖ Compulsory Education Act
4. ✖ Right of Children to Free Education Act

Question Number : 106 Question Id : 99836741350 Question Type : MCQ Option Shuffling : Yes Display Question Number : Yes
Single Line Question Option : No Option Orientation : Vertical

Correct Marks : 1 Wrong Marks : 0.25

निम्नलिखित में से कौन सा अधिनियम, राज्य को 6 - 14 वर्ष की आयु के सभी बच्चों को मुफ्त और अनिवार्य शिक्षा प्रदान करने के लिए आवश्यकता है?

Options :

1. ✔ बच्चों को मुफ्त और अनिवार्य शिक्षा का अधिकार अधिनियम (RTE)
2. ✖ शिक्षा अधिनियम
3. ✖ अनिवार्य शिक्षा अधिनियम
4. ✖ बच्चों को मुफ्त शिक्षा का अधिकार अधिनियम

Question Number : 107 Question Id : 99836741351 Question Type : MCQ Option Shuffling : Yes Display Question Number : Yes
Single Line Question Option : No Option Orientation : Vertical

Correct Marks : 1 Wrong Marks : 0.25

Which of the following has the goal of letting the children know what is right and what is disapproved and to motivate them to behave in accordance with the students?

Options :

1. ✔ Discipline
2. ✖ Attitude
3. ✖ Motivation
4. ✖ Creativity

Question Number : 107 Question Id : 99836741351 Question Type : MCQ Option Shuffling : Yes Display Question Number : Yes
Single Line Question Option : No Option Orientation : Vertical

Correct Marks : 1 Wrong Marks : 0.25

निम्नलिखित में से किसका लक्ष्य बच्चों को यह बताना है कि क्या सही है और क्या अस्वीकृत और उन्हें उनकी कक्षा के अनुसार व्यवहार करने के लिए प्रेरित करना है?

Options :

1. ✓ अनुशासन
2. ✗ संस्थिति
3. ✗ अभिप्रेरण
4. ✗ रचनात्मक

Question Number : 108 Question Id : 99836741352 Question Type : MCQ Option Shuffling : Yes Display Question Number : Yes
Single Line Question Option : No Option Orientation : Vertical

Correct Marks : 1 Wrong Marks : 0.25

Which of the following words is/are used by application skills?

- I. Apply
- II. Demonstrate
- III. Illustrate
- IV. Examine

Options :

1. ✗ I, II and III
2. ✗ II, III and IV
3. ✗ I, III and IV
4. ✓ I, II, III and IV

Question Number : 108 Question Id : 99836741352 Question Type : MCQ Option Shuffling : Yes Display Question Number : Yes
Single Line Question Option : No Option Orientation : Vertical

Correct Marks : 1 Wrong Marks : 0.25

निम्नलिखित में से कौन सा/से शब्द अनुप्रयोग कौशल द्वारा उपयोग किया जाता है/हैं?

- I. लागू करना
- II. निरूपण करना
- III. उदाहरण देना
- IV. निरीक्षण करना

Options :

1. ✗ I, II तथा III
2. ✗ II, III तथा IV
3. ✗ I, III तथा IV
4. ✓ I, II, III तथा IV

Question Number : 109 Question Id : 99836741353 Question Type : MCQ Option Shuffling : Yes Display Question Number : Yes
Single Line Question Option : No Option Orientation : Vertical

Correct Marks : 1 Wrong Marks : 0.25

The role of _____ is to teach children to behave in accordance to the expectations to their age.

Options :

1. ✓ discipline
2. ✗ values
3. ✗ motivation
4. ✗ critical thinking

Question Number : 109 Question Id : 99836741353 Question Type : MCQ Option Shuffling : Yes Display Question Number : Yes
Single Line Question Option : No Option Orientation : Vertical

Correct Marks : 1 Wrong Marks : 0.25

बच्चों को उनकी उम्र की अपेक्षाओं के अनुसार व्यवहार करने के लिए सिखाना _____ की भूमिका है

Options :

1. ☒ अनुशासन
2. ☐ मूल्यों
3. ☐ अभिप्रेरण
4. ☐ गहन सोच

Question Number : 110 Question Id : 99836741354 Question Type : MCQ Option Shuffling : Yes Display Question Number : Yes
Single Line Question Option : No Option Orientation : Vertical

Correct Marks : 1 Wrong Marks : 0.25

Which of the following is NOT a characteristic of personality?

Options :

1. ☒ Personality is product of heredity only
2. ☐ Personality is self-consciousness
3. ☐ Personality is continually adjusting itself to environment
4. ☐ Personality is always striving for certain ends

Question Number : 110 Question Id : 99836741354 Question Type : MCQ Option Shuffling : Yes Display Question Number : Yes
Single Line Question Option : No Option Orientation : Vertical

Correct Marks : 1 Wrong Marks : 0.25

निम्नलिखित में से कौन सा व्यक्तित्व की एक विशेषता नहीं है?

Options :

1. ☒ व्यक्तित्व केवल आनुवंशिकता का उत्पाद है
2. ☐ व्यक्तित्व आत्मचेतन होती है
3. ☐ व्यक्तित्व लगातार स्वयं को पर्यावरण में समायोजित करना होता है
4. ☐ व्यक्तित्व हमेशा कुछ निश्चित छोरों के लिए प्रयास करता है

Question Number : 111 Question Id : 99836741355 Question Type : MCQ Option Shuffling : Yes Display Question Number : Yes
Single Line Question Option : No Option Orientation : Vertical

Correct Marks : 1 Wrong Marks : 0.25

_____ is the first school where children start their initial learning.

Options :

1. ☒ Family
2. ☐ Society
3. ☐ Primary school
4. ☐ Play school

Question Number : 111 Question Id : 99836741355 Question Type : MCQ Option Shuffling : Yes Display Question Number : Yes
Single Line Question Option : No Option Orientation : Vertical

Correct Marks : 1 Wrong Marks : 0.25

_____ पहला विद्यालय है जहाँ बच्चे अपना प्रारंभिक अधिगम शुरू करते हैं।

Options :

1. ☒ परिवार
2. ☐ समाज
3. ☐ प्राथमिक विद्यालय
4. ☐ प्ले स्कूल

Question Number : 112 Question Id : 99836741356 Question Type : MCQ Option Shuffling : Yes Display Question Number : Yes
Single Line Question Option : No Option Orientation : Vertical

Correct Marks : 1 Wrong Marks : 0.25

According to John Dewey, the ultimate objective of school and schooling process is to _____.

- I. faster the growth of social progress
- II. expansion of democracy

Options :

- 1. ✖ Only I
- 2. ✖ Only II
- 3. ✔ Both I and II
- 4. ✖ Neither I nor II

Question Number : 112 Question Id : 99836741356 Question Type : MCQ Option Shuffling : Yes Display Question Number : Yes
Single Line Question Option : No Option Orientation : Vertical

Correct Marks : 1 Wrong Marks : 0.25

जॉन ड्यूई के अनुसार, विद्यालय तथा विद्यालयी प्रक्रिया का अंतिम उद्देश्य _____ है।

- I. सामाजिक प्रगति का तेजी से विकास
- II. लोकतंत्र का विस्तार

Options :

- 1. ✖ केवल I
- 2. ✖ केवल II
- 3. ✔ I तथा II दोनों
- 4. ✖ ना ही I ना ही II

Question Number : 113 Question Id : 99836741357 Question Type : MCQ Option Shuffling : Yes Display Question Number : Yes
Single Line Question Option : No Option Orientation : Vertical

Correct Marks : 1 Wrong Marks : 0.25

Which of the following factors indirectly influence the education process and overall development of society?

- I. Historicity of society
- II. Geographical context
- III. Nature of state

Options :

- 1. ✖ I and II
- 2. ✖ II and III
- 3. ✖ I and III
- 4. ✔ I, II and III

Question Number : 113 Question Id : 99836741357 Question Type : MCQ Option Shuffling : Yes Display Question Number : Yes
Single Line Question Option : No Option Orientation : Vertical

Correct Marks : 1 Wrong Marks : 0.25

निम्नलिखित में से कौन से कारक अप्रत्यक्ष रूप से शिक्षा प्रक्रिया तथा समाज के समग्र विकास को प्रभावित करते हैं?

- I. समाज की ऐतिहासिकता
- II. भौगोलिक संदर्भ
- III. राज्य की प्रकृति

Options :

- 1. ✖ I तथा II
- 2. ✖ II तथा III

3. ✖ I तथा III
4. ✔ I, II तथा III

Question Number : 114 Question Id : 99836741358 Question Type : MCQ Option Shuffling : Yes Display Question Number : Yes
Single Line Question Option : No Option Orientation : Vertical

Correct Marks : 1 Wrong Marks : 0.25

Which of the following is NOT a correct pair of skill category - skill?

Options :

1. ✖ Social - Self awareness
2. ✔ Thinking - Empathy
3. ✖ Thinking - Problem solving
4. ✖ Emotional - Coping with stress

Question Number : 114 Question Id : 99836741358 Question Type : MCQ Option Shuffling : Yes Display Question Number : Yes
Single Line Question Option : No Option Orientation : Vertical

Correct Marks : 1 Wrong Marks : 0.25

निम्नलिखित में से कौन सा कौशल श्रेणी - कौशल का सही युग्म नहीं है?

Options :

1. ✖ सामाजिक - आत्म जागरूकता
2. ✔ सोच - सहानुभूति
3. ✖ सोच - समस्या समाधान
4. ✖ भावनात्मक - तनाव को झेलना

Question Number : 115 Question Id : 99836741359 Question Type : MCQ Option Shuffling : Yes Display Question Number : Yes
Single Line Question Option : No Option Orientation : Vertical

Correct Marks : 1 Wrong Marks : 0.25

For classes first to fifth, if there are between 61 to 90 students admitted in a class, then how many teachers are required according to Right to Education Act, 2009?

Options :

1. ✖ 2
2. ✔ 3
3. ✖ 4
4. ✖ 5

Question Number : 115 Question Id : 99836741359 Question Type : MCQ Option Shuffling : Yes Display Question Number : Yes
Single Line Question Option : No Option Orientation : Vertical

Correct Marks : 1 Wrong Marks : 0.25

पहली से पाँचवीं कक्षा के लिए, यदि एक कक्षा में 61 से 90 छात्रों के बीच दाखिला होता है, तो शिक्षा का अधिकार अधिनियम, 2009 के अनुसार कितने शिक्षकों की आवश्यकता है?

Options :

1. ✖ 2
2. ✔ 3
3. ✖ 4
4. ✖ 5

Question Number : 116 Question Id : 99836741360 Question Type : MCQ Option Shuffling : Yes Display Question Number : Yes
Single Line Question Option : No Option Orientation : Vertical

Correct Marks : 1 Wrong Marks : 0.25

Which articles of Indian Constitution constitute right to equality?

Options :

1. ✖ Article 12 to 16
2. ✔ Article 14 to 18
3. ✖ Article 10 to 14
4. ✖ Article 18 to 22

Question Number : 116 Question Id : 99836741360 Question Type : MCQ Option Shuffling : Yes Display Question Number : Yes
Single Line Question Option : No Option Orientation : Vertical

Correct Marks : 1 Wrong Marks : 0.25

भारतीय संविधान के कौन से अनुच्छेद समता के अधिकार का गठन करते हैं?

Options :

1. ✖ अनुच्छेद 12 से 16
2. ✔ अनुच्छेद 14 से 18
3. ✖ अनुच्छेद 10 से 14
4. ✖ अनुच्छेद 18 से 22

Question Number : 117 Question Id : 99836741361 Question Type : MCQ Option Shuffling : Yes Display Question Number : Yes
Single Line Question Option : No Option Orientation : Vertical

Correct Marks : 1 Wrong Marks : 0.25

Which of the following pair is correctly matched?

- I. Learning - Organism actually does
- II. Performance - Organisms is capable of doing

Options :

1. ✖ Only I
2. ✖ Only II
3. ✖ Both I and II
4. ✔ Neither I nor II

Question Number : 117 Question Id : 99836741361 Question Type : MCQ Option Shuffling : Yes Display Question Number : Yes
Single Line Question Option : No Option Orientation : Vertical

Correct Marks : 1 Wrong Marks : 0.25

निम्नलिखित में से कौन सी जोड़ी सही ढंग से मेल खाती है?

- I. सीखना - जीव वास्तव में करता है
- II. प्रदर्शन - जीव करने में सक्षम है

Options :

1. ✖ केवल I
2. ✖ केवल II
3. ✖ I तथा II दोनों
4. ✔ ना ही I ना ही II

Question Number : 118 Question Id : 99836741362 Question Type : MCQ Option Shuffling : Yes Display Question Number : Yes
Single Line Question Option : No Option Orientation : Vertical

Correct Marks : 1 Wrong Marks : 0.25

Which of the following has been used as a means of evolving bureaucratic, centralized governance of education by Britishers?

- I. Text books
- II. Written examinations

Options :

1. ✖ Only I
2. ✖ Only II
3. ✔ Both I and II
4. ✖ Neither I nor II

Question Number : 118 Question Id : 99836741362 Question Type : MCQ Option Shuffling : Yes Display Question Number : Yes
Single Line Question Option : No Option Orientation : Vertical

Correct Marks : 1 Wrong Marks : 0.25

निम्नलिखित में से किसको अंग्रेजों द्वारा शिक्षा के नौकरशाही, केंद्रीकृत शासन को विकसित करने के साधन के रूप में इस्तेमाल किया गया है?

- I. पाठ्य पुस्तकें
- II. लिखित परीक्षा

Options :

1. ✖ केवल I
2. ✖ केवल II
3. ✔ I तथा II दोनों
4. ✖ ना ही I ना ही II

Question Number : 119 Question Id : 99836741363 Question Type : MCQ Option Shuffling : Yes Display Question Number : Yes
Single Line Question Option : No Option Orientation : Vertical

Correct Marks : 1 Wrong Marks : 0.25

_____ refers the rules, procedures and norms of production, distribution, consumption as well as working system and patterns.

Options :

1. ✔ Economic institutions
2. ✖ Political institutions
3. ✖ Social institutions
4. ✖ Religious institutions

Question Number : 119 Question Id : 99836741363 Question Type : MCQ Option Shuffling : Yes Display Question Number : Yes
Single Line Question Option : No Option Orientation : Vertical

Correct Marks : 1 Wrong Marks : 0.25

_____ उत्पादन, वितरण, उपभोग के साथ-साथ कार्य प्रणाली तथा पैटर्न के नियमों, प्रक्रियाओं तथा मानदंडों को संदर्भित करता है।

Options :

1. ✔ आर्थिक संस्था
2. ✖ राजनीतिक संस्था
3. ✖ सामाजिक संस्था
4. ✖ धार्मिक संस्था

Question Number : 120 Question Id : 99836741364 Question Type : MCQ Option Shuffling : Yes Display Question Number : Yes
Single Line Question Option : No Option Orientation : Vertical

Correct Marks : 1 Wrong Marks : 0.25

Which of the following is the highest function of education?

Options :

1. ✔ To create integrated individual who is capable of dealing with life as a whole.
2. ✖ To create a specialist individual who is concerned with only his field.
3. ✖ To create an individual who conforms to a system
4. ✖ To create an individual who is a efficient technician.

Question Number : 120 Question Id : 99836741364 Question Type : MCQ Option Shuffling : Yes Display Question Number : Yes
Single Line Question Option : No Option Orientation : Vertical

Correct Marks : 1 Wrong Marks : 0.25

निम्नलिखित में से कौन-सा शिक्षा का सर्वोच्च कार्य है?

Options :

1. ☒ एक ऐसा एकीकृत व्यक्ति बनाने के लिए जो जीवन से पूर्णता व्यवहार करने में सक्षम हो
2. ☐ एक विशेषाकृत व्यक्ति बनाने के लिए जो केवल अपने क्षेत्र के बारे में चिंताशील हो
3. ☐ एक ऐसा व्यक्ति बनाने के लिए जो प्रणाली के अनुरूप रहे
4. ☐ एक ऐसा व्यक्ति बनाने के लिए जो एक कुशल तकनीशियन है

Discipline2

Group Number :	7
Group Id :	9983671317
Group Maximum Duration :	0
Group Minimum Duration :	0
Revisit allowed for view? :	No
Revisit allowed for edit? :	No
Break time:	0
Group Marks:	20
Revisit allowed for group Instructions? :	Yes
Maximum Instruction Time:	0
Minimum Instruction Time:	0

Discipline2

Section Id :	9983671716
Section Number :	1
Section type :	Online
Mandatory or Optional:	Mandatory
Number of Questions:	20
Number of Questions to be attempted:	20
Section Marks:	20
Display Number Panel:	Yes
Group All Questions:	No

Sub-Section Number:	1
Sub-Section Id:	9983672132
Question Shuffling Allowed :	Yes

Question Number : 121 Question Id : 99836741365 Question Type : MCQ Option Shuffling : Yes Display Question Number : Yes
Single Line Question Option : No Option Orientation : Vertical

Correct Marks : 1 Wrong Marks : 0.25

Which of the following is not true about right kind of educator?

Options :

1. ☐ Must free himself from books and laboratories
2. ☐ Must not let student make him their ideal
3. ☐ Must not let students be engulfed in their own self enclosing pursuit
4. ☒ Must look the success of his students as own success

Question Number : 121 Question Id : 99836741365 Question Type : MCQ Option Shuffling : Yes Display Question Number : Yes
Single Line Question Option : No Option Orientation : Vertical

Correct Marks : 1 Wrong Marks : 0.25

निम्नलिखित में से क्या उचित शिक्षक के संदर्भ में सही नहीं है?

Options :

1. ✖ स्वयं को किताबों तथा प्रयोगशालाओं से मुक्त करना चाहिए
2. ✖ विद्यार्थी को उसे अपनी अवधारणा नहीं बनाने देनी चाहिए
3. ✖ छात्रों को उनके स्वयं की स्व अंतर्धरि खोज में संलग्न नहीं रहने देना चाहिए
4. ✔ छात्रों की सफलता को स्वयं की सफलता के रूप में देखना चाहिए

Question Number : 122 Question Id : 99836741366 Question Type : MCQ Option Shuffling : Yes Display Question Number : Yes
Single Line Question Option : No Option Orientation : Vertical

Correct Marks : 1 Wrong Marks : 0.25

Which of the following type of school environment will not make education more effective and will not be conducive to learning?

Options :

1. ✔ The light and ventilation in the classroom is not adequate
2. ✖ The teaching-learning materials are properly stored and are available in plenty to children
3. ✖ The teacher is friendly and understanding
4. ✖ The classroom are spacious with adequate space for free movement

Question Number : 122 Question Id : 99836741366 Question Type : MCQ Option Shuffling : Yes Display Question Number : Yes
Single Line Question Option : No Option Orientation : Vertical

Correct Marks : 1 Wrong Marks : 0.25

निम्नलिखित में से कौन सा विद्यालय का वातावरण शिक्षा को अधिक प्रभावी नहीं बना पाएगा तथा अधिगम के लिए उपयुक्त नहीं होगा?

Options :

1. ✔ कमरे में प्रकाश तथा हवा का आवागमन उपयुक्त रूप से नहीं है
2. ✖ शिक्षण-अधिगम सामग्री उपयुक्त स्थान पर रखी हुई है तथा प्रचुर मात्रा में बच्चों के लिए उपलब्ध है
3. ✖ अध्यापक बच्चों को समझने वाला तथा उनके साथ मित्रवत व्यवहार करने वाला है
4. ✖ कमरा बड़ा है तथा स्वतंत्र गतिविधि के लिए उपयुक्त जगह है

Question Number : 123 Question Id : 99836741367 Question Type : MCQ Option Shuffling : Yes Display Question Number : Yes
Single Line Question Option : No Option Orientation : Vertical

Correct Marks : 1 Wrong Marks : 0.25

According to Bandura, which of the following processes are involved in Observational learning?

- I. Attention process
- II. Retention process
- III. Motivational process
- IV. Motor reproduction process

Options :

1. ✖ I, II and III
2. ✖ II, III and IV
3. ✖ I, III and IV
4. ✔ I, II, III and IV

Question Number : 123 Question Id : 99836741367 Question Type : MCQ Option Shuffling : Yes Display Question Number : Yes
Single Line Question Option : No Option Orientation : Vertical

Correct Marks : 1 Wrong Marks : 0.25

बंडूरा के अनुसार, निम्नलिखित में से कौन सी प्रक्रिया अवलोकनात्मक अधिगम में शामिल है?

- I. ध्यान प्रक्रिया
- II. स्मृति की प्रक्रिया
- III. प्रेरक प्रक्रिया
- IV. पुनः निर्माण की गतिक प्रक्रिया

Options :

- 1. ✗ I, II तथा III
- 2. ✗ II, III तथा IV
- 3. ✗ I, III तथा IV
- 4. ✓ I, II, III तथा IV

Question Number : 124 Question Id : 99836741368 Question Type : MCQ Option Shuffling : Yes Display Question Number : Yes
Single Line Question Option : No Option Orientation : Vertical

Correct Marks : 1 Wrong Marks : 0.25

For group discussions, a teacher needs to provide pupils with training and support. Which technique she should adopt to achieve this?

- I. She needs to provide the kind of collaborative activities that promote active involvement of all pupils.
- II. She needs to model the way she wants pupils to interact with each other.

Options :

- 1. ✗ Only I
- 2. ✗ Only II
- 3. ✓ Both I and II
- 4. ✗ Neither I nor II

Question Number : 124 Question Id : 99836741368 Question Type : MCQ Option Shuffling : Yes Display Question Number : Yes
Single Line Question Option : No Option Orientation : Vertical

Correct Marks : 1 Wrong Marks : 0.25

सामूहिक चर्चा के लिए, एक अध्यापक को छात्रों को प्रशिक्षण तथा सहायता देने की आवश्यकता होती है। इसे हासिल करने के लिए उसे कौन सी तकनीक अपनानी चाहिए?

- I. उसे मिल जुलकर कार्य करने वाली क्रियाएं प्रदान करनी चाहिए जिससे सभी बच्चे सक्रिय रूप से भाग ले सकें।
- II. वह जिस प्रकार छात्रों को एक-दूसरे से बातचीत कराना चाहती है, उसके लिए उन्हें एक आदर्श रास्ता दिखाए।

Options :

- 1. ✗ केवल I
- 2. ✗ केवल II
- 3. ✓ I तथा II दोनों
- 4. ✗ ना ही I ना ही II

Question Number : 125 Question Id : 99836741369 Question Type : MCQ Option Shuffling : Yes Display Question Number : Yes
Single Line Question Option : No Option Orientation : Vertical

Correct Marks : 1 Wrong Marks : 0.25

What a child perceives is largely a function of his _____.

- I. previous experiences
- II. Assumptions
- III. purposes

Options :

- 1. ✗ Only I
- 2. ✗ II and III
- 3. ✓ I, II and III

4. ✖ Only III

Question Number : 125 Question Id : 99836741369 Question Type : MCQ Option Shuffling : Yes Display Question Number : Yes
Single Line Question Option : No Option Orientation : Vertical

Correct Marks : 1 Wrong Marks : 0.25

एक बच्चा जो अवबोधन करता है वह काफी हद तक उसके _____ पर निर्भर करता है।

- I. पूर्व अनुभव
- II. मान्यताओं
- III. उद्देश्यों

Options :

- 1. ✖ केवल I
- 2. ✖ II तथा III
- 3. ✔ I, II तथा III
- 4. ✖ केवल III

Question Number : 126 Question Id : 99836741370 Question Type : MCQ Option Shuffling : Yes Display Question Number : Yes
Single Line Question Option : No Option Orientation : Vertical

Correct Marks : 1 Wrong Marks : 0.25

What is the relevance of Behaviour modification approach in classroom teaching?

- I. Repetition without reinforcement does not enhance learning
- II. Punishment is not very effective for eliminating undesirable behaviour

Options :

- 1. ✖ Only I
- 2. ✖ Only II
- 3. ✔ Both I and II
- 4. ✖ Neither I nor II

Question Number : 126 Question Id : 99836741370 Question Type : MCQ Option Shuffling : Yes Display Question Number : Yes
Single Line Question Option : No Option Orientation : Vertical

Correct Marks : 1 Wrong Marks : 0.25

कक्षा शिक्षण में व्यवहार रूपांतरण उपागम की उपयोगिता क्या है?

- I. पुनर्बलन के बिना किया गया अभ्यास अधिगम को नहीं बढ़ाता है
- II. अवांछनीय व्यवहार को समाप्त करने के लिए सजा अधिक प्रभावशाली नहीं है

Options :

- 1. ✖ केवल I
- 2. ✖ केवल II
- 3. ✔ I तथा II दोनों
- 4. ✖ ना ही I ना ही II

Question Number : 127 Question Id : 99836741371 Question Type : MCQ Option Shuffling : Yes Display Question Number : Yes
Single Line Question Option : No Option Orientation : Vertical

Correct Marks : 1 Wrong Marks : 0.25

Which of the following is/are characteristics of a teacher-centered approach of teaching?

- I. Teacher concentrates on right answer
- II. Teacher is mostly concerned with the completion of the course content
- III. The focus is on learning than teaching

Options :

- 1. ✔ I and II

2. ✖ II and III
3. ✖ I and III
4. ✖ I, II and III

Question Number : 127 Question Id : 99836741371 Question Type : MCQ Option Shuffling : Yes Display Question Number : Yes
Single Line Question Option : No Option Orientation : Vertical

Correct Marks : 1 Wrong Marks : 0.25

निम्नलिखित में से कौन सी शिक्षण की अध्यापक-केंद्रित उपागम की विशेषताएं हैं?

- I. अध्यापक सही उत्तर पर ध्यान देते हैं
- II. अध्यापक अधिकांशतः पाठ्यक्रम को पूरा करने से ही संबंध रखते हैं
- III. ध्यान शिक्षण की अपेक्षा अधिगम पर केंद्रित होता है

Options :

1. ✔ I तथा II
2. ✖ II तथा III
3. ✖ I तथा III
4. ✖ I, II तथा III

Question Number : 128 Question Id : 99836741372 Question Type : MCQ Option Shuffling : Yes Display Question Number : Yes
Single Line Question Option : No Option Orientation : Vertical

Correct Marks : 1 Wrong Marks : 0.25

Which activities are encouraged by a teacher in constructivist classroom?

- I. Experimentation
- II. Project work
- III. Field trips
- IV. Visuals
- V. Class discussion

Options :

1. ✖ I, II, III and V
2. ✖ II, III, IV and V
3. ✖ I, III, IV and V
4. ✔ I, II, III, IV and V

Question Number : 128 Question Id : 99836741372 Question Type : MCQ Option Shuffling : Yes Display Question Number : Yes
Single Line Question Option : No Option Orientation : Vertical

Correct Marks : 1 Wrong Marks : 0.25

एक संरचनात्मक कक्षा में अध्यापक द्वारा कौन सी गतिविधियों को प्रोत्साहित किया जाता है?

- I. प्रयोग
- II. परियोजना कार्य
- III. क्षेत्र भ्रमण
- IV. दृश्य
- V. कक्षा चर्चा

Options :

1. ✖ I, II, III तथा V
2. ✖ II, III, IV तथा V
3. ✖ I, III, IV तथा V
4. ✔ I, II, III, IV तथा V

Question Number : 129 Question Id : 99836741373 Question Type : MCQ Option Shuffling : Yes Display Question Number : Yes
Single Line Question Option : No Option Orientation : Vertical

Correct Marks : 1 Wrong Marks : 0.25

In Demonstration method of teaching, during demonstration, a student gets opportunities for _____.

- I. Observation
- II. Note making
- III. Questioning
- IV. Drawing

Options :

- 1. ✗ I, II and III
- 2. ✗ II, III and IV
- 3. ✗ I, III and IV
- 4. ✓ I, II, III and IV

Question Number : 129 Question Id : 99836741373 Question Type : MCQ Option Shuffling : Yes Display Question Number : Yes
Single Line Question Option : No Option Orientation : Vertical

Correct Marks : 1 Wrong Marks : 0.25

शिक्षण की प्रदर्शन विधि में, प्रदर्शन के दौरान, एक विद्यार्थी को _____ के अवसर प्राप्त होते हैं।

- I. अवलोकन
- II. नोट बनाने
- III. प्रश्न करने
- IV. आरेख बनाने

Options :

- 1. ✗ I, II तथा III
- 2. ✗ II, III तथा IV
- 3. ✗ I, III तथा IV
- 4. ✓ I, II, III तथा IV

Question Number : 130 Question Id : 99836741374 Question Type : MCQ Option Shuffling : Yes Display Question Number : Yes
Single Line Question Option : No Option Orientation : Vertical

Correct Marks : 1 Wrong Marks : 0.25

_____ method of teaching is also known as 'Inquiry method'.

Options :

- 1. ✓ Discovery method
- 2. ✗ Lecture method
- 3. ✗ Inductive and Deductive method
- 4. ✗ Problem solving method

Question Number : 130 Question Id : 99836741374 Question Type : MCQ Option Shuffling : Yes Display Question Number : Yes
Single Line Question Option : No Option Orientation : Vertical

Correct Marks : 1 Wrong Marks : 0.25

_____ शिक्षण विधि को 'पूछताछ विधि' के नाम से भी जाना जाता है।

Options :

- 1. ✓ अन्वेषण विधि
- 2. ✗ व्याख्यान विधि
- 3. ✗ आगमनात्मक तथा निगमनात्मक विधि
- 4. ✗ समस्या समाधान विधि

Question Number : 131 Question Id : 99836741375 Question Type : MCQ Option Shuffling : Yes Display Question Number : Yes
Single Line Question Option : No Option Orientation : Vertical

Correct Marks : 1 Wrong Marks : 0.25

According to Kolb's model, in which learning style, students choose to work in groups, to listen with an open mind and to receive personal feedback?

Options :

1. ☒ Diverging
2. ☐ Assimilating
3. ☐ Converging
4. ☐ Accomodating

Question Number : 131 Question Id : 99836741375 Question Type : MCQ Option Shuffling : Yes Display Question Number : Yes
Single Line Question Option : No Option Orientation : Vertical

Correct Marks : 1 Wrong Marks : 0.25

कोल्ब के मॉडल के अनुसार, किस अधिगम शैली में, विद्यार्थी समूहों में कार्य करने, खुले दिमाग से सुनने तथा व्यक्तिगत प्रतिपुष्टि प्राप्त करने को चुनते हैं?

Options :

1. ☒ अपसारी
2. ☐ आत्मसात्करण
3. ☐ अभिसारी
4. ☐ सामंजस्यीकरण

Question Number : 132 Question Id : 99836741376 Question Type : MCQ Option Shuffling : Yes Display Question Number : Yes
Single Line Question Option : No Option Orientation : Vertical

Correct Marks : 1 Wrong Marks : 0.25

In learning centred approach to learning, according to Weimer the content facilitates students to _____.

- I. build an appreciation for value of content
- II. practice using inquiry or ways of thinking in the discipline
- III. develop a way to learn through content and make meaning out of content

Options :

1. ☐ I and II
2. ☐ II and III
3. ☐ I and III
4. ☒ I, II and III

Question Number : 132 Question Id : 99836741376 Question Type : MCQ Option Shuffling : Yes Display Question Number : Yes
Single Line Question Option : No Option Orientation : Vertical

Correct Marks : 1 Wrong Marks : 0.25

वेइमर के अनुसार, अधिगम के लिए अधिगम-केंद्रित उपागम में, विषय-वस्तु विद्यार्थियों को _____ सहयोग देती है।

- I. विषय-वस्तु के विशिष्ट मूल्य को समझने में
- II. विषय-विशेष में सोचने के तरीकों या पढ़ने का उपयोग करके अभ्यास करने में
- III. विषय-वस्तु से अधिगम का एक तरीका विकसित करने तथा उसमें अर्थ तलाशने में

Options :

1. ☐ I तथा II
2. ☐ II तथा III
3. ☐ I तथा III
4. ☒ I, II तथा III

Question Number : 133 Question Id : 99836741377 Question Type : MCQ Option Shuffling : Yes Display Question Number : Yes
Single Line Question Option : No Option Orientation : Vertical

Correct Marks : 1 Wrong Marks : 0.25

In Cooperative learning method, for student achievement to improve considerably, which characteristics should be present in every group?

- I. Success is not reliant on each individual's learning
- II. Students are looking towards a group goal or recognition

Options :

- 1. ✖ Only I
- 2. ✔ Only II
- 3. ✖ Both I and II
- 4. ✖ Neither I nor II

Question Number : 133 Question Id : 99836741377 Question Type : MCQ Option Shuffling : Yes Display Question Number : Yes
Single Line Question Option : No Option Orientation : Vertical

Correct Marks : 1 Wrong Marks : 0.25

सहकारी अधिगम विधि में, विद्यार्थी उपलब्धि में सुधार करने के लिए, प्रत्येक समूह में कौन सी विशेषताएं मौजूद होनी चाहिए?

- I. सफलता प्रत्येक विद्यार्थी के अधिगम पर निर्भर नहीं है
- II. विद्यार्थी समूह के लक्ष्य या पहचान के लिए कार्य करें

Options :

- 1. ✖ केवल I
- 2. ✔ केवल II
- 3. ✖ I तथा II दोनों
- 4. ✖ ना ही I ना ही II

Question Number : 134 Question Id : 99836741378 Question Type : MCQ Option Shuffling : Yes Display Question Number : Yes
Single Line Question Option : No Option Orientation : Vertical

Correct Marks : 1 Wrong Marks : 0.25

What is/are the benefits of Collaborative learning?

- I. Students learn to work with diverse types of people
- II. Students learn to relate to their peers and other learners as they work together in group enterprises
- III. Students take more ownership of their material and think critically about related issues when they work as a team

Options :

- 1. ✖ I and II
- 2. ✖ II and III
- 3. ✖ I and III
- 4. ✔ I, II and III

Question Number : 134 Question Id : 99836741378 Question Type : MCQ Option Shuffling : Yes Display Question Number : Yes
Single Line Question Option : No Option Orientation : Vertical

Correct Marks : 1 Wrong Marks : 0.25

सहयोगात्मक अधिगम के/का क्या लाभ है?

- I. विद्यार्थी विभिन्न प्रकार के लोगों के साथ काम करना सीखते हैं
- II. विद्यार्थी अपने सहपाठियों तथा अन्य शिक्षार्थियों के साथ समूह में कार्य करते हुए अपने आपको उनसे जोड़ना सीखते हैं
- III. विद्यार्थी अपनी सामग्री को अधिक अपना मानते हैं तथा एक टीम के रूप में कार्य करते हुए संबंधित मुद्दों पर गहन विचार-विमर्श करते हैं

Options :

- 1. ✖ I तथा II
- 2. ✖ II तथा III
- 3. ✖ I तथा III

4. ✓ I, II तथा III

Question Number : 135 Question Id : 99836741379 Question Type : MCQ Option Shuffling : Yes Display Question Number : Yes
Single Line Question Option : No Option Orientation : Vertical

Correct Marks : 1 Wrong Marks : 0.25

_____ is considered as appropriate for creating social atmosphere in the classroom where the children are facilitated to have enough scope to interact with each other.

Options :

1. ✓ Small Group Learning Strategy
2. ✗ Medium Group Learning Strategy
3. ✗ Large Group Learning Strategy
4. ✗ Very Large Group Learning Strategy

Question Number : 135 Question Id : 99836741379 Question Type : MCQ Option Shuffling : Yes Display Question Number : Yes
Single Line Question Option : No Option Orientation : Vertical

Correct Marks : 1 Wrong Marks : 0.25

_____ को कक्षा में एक सामाजिक वातावरण बनाने के लिए उपयुक्त माना जाता है जहाँ बच्चों को एक दूसरे से बातचीत करने के लिए पर्याप्त अवसर प्रदान किए जाएँ

Options :

1. ✓ छोटा समूह अधिगम की रणनीति
2. ✗ मध्यम समूह अधिगम की रणनीति
3. ✗ बड़े समूह अधिगम की रणनीति
4. ✗ बहुत बड़े समूह अधिगम की रणनीति

Question Number : 136 Question Id : 99836741380 Question Type : MCQ Option Shuffling : Yes Display Question Number : Yes
Single Line Question Option : No Option Orientation : Vertical

Correct Marks : 1 Wrong Marks : 0.25

Which of the following is NOT an Audio aid used by a teacher in classroom?

Options :

1. ✗ Radio broadcasts
2. ✓ Models
3. ✗ CD player
4. ✗ Cassette

Question Number : 136 Question Id : 99836741380 Question Type : MCQ Option Shuffling : Yes Display Question Number : Yes
Single Line Question Option : No Option Orientation : Vertical

Correct Marks : 1 Wrong Marks : 0.25

निम्नलिखित में से कौन सी कक्षा में अध्यापक द्वारा प्रयुक्त होने वाली श्रव्य सहायक सामग्री नहीं है?

Options :

1. ✗ रेडियो प्रसारण
2. ✓ मॉडल
3. ✗ सीडी प्लेयर
4. ✗ कैसेट

Question Number : 137 Question Id : 99836741381 Question Type : MCQ Option Shuffling : Yes Display Question Number : Yes
Single Line Question Option : No Option Orientation : Vertical

Correct Marks : 1 Wrong Marks : 0.25

What are the roles of speakers of a language?

- I. They help the linguists in preparing grammar and dictionaries
- II. They tend to form the basis of a language by practicing and propagating it
- III. They only focus on speaking and not on writing

Options :

- 1. ✖ I and III
- 2. ✖ II and III
- 3. ✔ I and II
- 4. ✖ I, II and III

Question Number : 137 Question Id : 99836741381 Question Type : MCQ Option Shuffling : Yes Display Question Number : Yes
Single Line Question Option : No Option Orientation : Vertical

Correct Marks : 1 Wrong Marks : 0.25

किसी भाषा के बोलने वालों की क्या भूमिकाएं होती हैं?

- I. वे व्याकरण तथा शब्दकोश तैयार करने में भाषाविदों की मदद करते हैं
- II. वे अभ्यास तथा प्रचार से किसी भाषा का आधार बनाते हैं
- III. वे केवल बोलने पर ध्यान देते हैं न कि लिखने पर

Options :

- 1. ✖ I तथा III
- 2. ✖ II तथा III
- 3. ✔ I तथा II
- 4. ✖ I, II तथा III

Question Number : 138 Question Id : 99836741382 Question Type : MCQ Option Shuffling : Yes Display Question Number : Yes
Single Line Question Option : No Option Orientation : Vertical

Correct Marks : 1 Wrong Marks : 0.25

The language found in literature is different from the ordinary usage of the language. How can we differentiate between the two?

- I. By studying the forms of language used in literature
- II. By analyzing the word formation and sentence structure in literature
- III. By studying the synonyms and simile used in literature and the language used ordinarily

Options :

- 1. ✖ I and II
- 2. ✖ I and III
- 3. ✔ I, II and III
- 4. ✖ II and III

Question Number : 138 Question Id : 99836741382 Question Type : MCQ Option Shuffling : Yes Display Question Number : Yes
Single Line Question Option : No Option Orientation : Vertical

Correct Marks : 1 Wrong Marks : 0.25

साहित्य में पाई जाने वाली भाषा, भाषा के सामान्य उपयोग से भिन्न होती है। हम दोनों के बीच अंतर कैसे कर सकते हैं?

- I. साहित्य में प्रयुक्त भाषा के रूपों का अध्ययन करके
- II. साहित्य में शब्द गठन तथा वाक्य संरचना का विश्लेषण करके
- III. साहित्य में प्रयुक्त पर्यायवाची तथा उपमा तथा आम बोलचाल की भाषा का अध्ययन करके

Options :

- 1. ✖ I तथा II
- 2. ✖ I तथा III

3. ✓ I, II तथा III

4. ✗ II तथा III

Question Number : 139 Question Id : 99836741383 Question Type : MCQ Option Shuffling : Yes Display Question Number : Yes
Single Line Question Option : No Option Orientation : Vertical

Correct Marks : 1 Wrong Marks : 0.25

Which of the following statements is true?

Options :

1. ✗ English is the national language of India

2. ✗ All the Indian states are bound to adopt "Hindi" as their state language

3. ✓ According to Official Language Act, English is the permanent "associate official language" of India

4. ✗ To protect multilingualism, Indian constitution adopted English as the official language of India

Question Number : 139 Question Id : 99836741383 Question Type : MCQ Option Shuffling : Yes Display Question Number : Yes
Single Line Question Option : No Option Orientation : Vertical

Correct Marks : 1 Wrong Marks : 0.25

निम्नलिखित में से कौन सा कथन सत्य है?

Options :

1. ✗ अंग्रेजी भारत की राष्ट्रीय भाषा है

2. ✗ सभी भारतीय राज्य "हिंदी" को अपनी राज्य भाषा के रूप में अपनाने के लिए बाध्य हैं

3. ✓ राजभाषा अधिनियम के अनुसार, अंग्रेजी भारत की स्थायी "सहयोगी - राजभाषा" है

4. ✗ बहुभाषावाद की रक्षा के लिए, भारतीय संविधान ने अंग्रेजी को भारत की राजभाषा के रूप में अपनाया है

Question Number : 140 Question Id : 99836741384 Question Type : MCQ Option Shuffling : Yes Display Question Number : Yes
Single Line Question Option : No Option Orientation : Vertical

Correct Marks : 1 Wrong Marks : 0.25

A number is written in the form of p/q where p and q have 1 as the only common factor with $q > 0$. This number is said to be the standard form of which of the following?

I. Irrational number

II. Rational number

Options :

1. ✗ Only I

2. ✓ Only II

3. ✗ Both I and II

4. ✗ Neither I nor II

Question Number : 140 Question Id : 99836741384 Question Type : MCQ Option Shuffling : Yes Display Question Number : Yes
Single Line Question Option : No Option Orientation : Vertical

Correct Marks : 1 Wrong Marks : 0.25

एक संख्या p/q के रूप में लिखी जाती है जहाँ p तथा q का उभयनिष्ठ गुणनखंड केवल 1 है तथा $q > 0$ है। इस संख्या को निम्नलिखित में से किसका मानक रूप कहा जाता है?

I. अपरिमेय संख्या

II. परिमेय संख्या

Options :

1. ✗ केवल I

2. ✓ केवल II

3. ✗ I तथा II दोनों

4. ✗ ना ही I ना ही II

Discipline3

Group Number :	8
Group Id :	9983671318
Group Maximum Duration :	0
Group Minimum Duration :	0
Revisit allowed for view? :	No
Revisit allowed for edit? :	No
Break time:	0
Group Marks:	20
Revisit allowed for group Instructions? :	Yes
Maximum Instruction Time:	0
Minimum Instruction Time:	0

Discipline3

Section Id :	9983671717
Section Number :	1
Section type :	Online
Mandatory or Optional:	Mandatory
Number of Questions:	20
Number of Questions to be attempted:	20
Section Marks:	20
Display Number Panel:	Yes
Group All Questions:	No

Sub-Section Number:	1
Sub-Section Id:	9983672133
Question Shuffling Allowed :	Yes





Question Number : 141 Question Id : 99836741385 Question Type : MCQ Option Shuffling : Yes Display Question Number : Yes
Single Line Question Option : No Option Orientation : Vertical

Correct Marks : 1 Wrong Marks : 0.25

_____ is the product of lowest powers of each of the prime factors that commonly occurs in both the number.

- I. Highest common factor
- II. Least common multiple

Options :

- 1.  Only I
- 2.  Only II
- 3.  Both I and II
- 4.  Neither I nor II

Question Number : 141 Question Id : 99836741385 Question Type : MCQ Option Shuffling : Yes Display Question Number : Yes
Single Line Question Option : No Option Orientation : Vertical

Correct Marks : 1 Wrong Marks : 0.25

_____ न्यूनतम घातों वाली दोनों संख्याओं के सार्व अभाज्य गुणन खण्डों का गुणनफल होता है, जो सामान्यतः दोनों संख्याओं में पाया जाता है।

- I. महत्तम समापवर्तक
- II. लघुत्तम समापवर्त्य

Options :

1. ☒ केवल I
2. ☐ केवल II
3. ☐ I तथा II दोनों
4. ☐ ना ही I ना ही II

Question Number : 142 Question Id : 99836741386 Question Type : MCQ Option Shuffling : Yes Display Question Number : Yes
Single Line Question Option : No Option Orientation : Vertical

Correct Marks : 1 Wrong Marks : 0.25

$(a + b) + c = a + (b + c) = a + b + c$ The given expression represents which property of addition in natural and whole number?

Options :

1. ☐ Commutative property
2. ☐ Closure property
3. ☒ Associative property
4. ☐ Additive identity in whole numbers

Question Number : 142 Question Id : 99836741386 Question Type : MCQ Option Shuffling : Yes Display Question Number : Yes
Single Line Question Option : No Option Orientation : Vertical

Correct Marks : 1 Wrong Marks : 0.25

$(a + b) + c = a + (b + c) = a + b + c$ दिया गया व्यंजक प्राकृतिक तथा पूर्ण संख्याओं में योग के किस गुण को दर्शाता है?

Options :

1. ☐ क्रम विनिमेय गुण
2. ☐ संवृतता का गुण
3. ☒ सहचारी गुण
4. ☐ पूर्ण संख्याओं में योज्य तत्समक

Question Number : 143 Question Id : 99836741387 Question Type : MCQ Option Shuffling : Yes Display Question Number : Yes
Single Line Question Option : No Option Orientation : Vertical

Correct Marks : 1 Wrong Marks : 0.25

Which of the following digit will have the same place value at any place of a number?

Options :

1. ☐ 1
2. ☐ 2
3. ☒ 0
4. ☐ 3

Question Number : 143 Question Id : 99836741387 Question Type : MCQ Option Shuffling : Yes Display Question Number : Yes
Single Line Question Option : No Option Orientation : Vertical

Correct Marks : 1 Wrong Marks : 0.25

निम्नलिखित अंकों में से किसका स्थानिक मान संख्या के किसी भी स्थान पर समान रहेगा?

Options :

1. ☐ 1
2. ☐ 2
3. ☒ 0
4. ☐ 3

Question Number : 144 Question Id : 99836741388 Question Type : MCQ Option Shuffling : Yes Display Question Number : Yes
Single Line Question Option : No Option Orientation : Vertical

Correct Marks : 1 Wrong Marks : 0.25

Which of the following is the initial step/stage of experiential learning cycle?

Options :

1. ✖ Publishing
2. ✖ Processing
3. ✖ Generalizing
4. ✔ Experiencing

Question Number : 144 Question Id : 99836741388 Question Type : MCQ Option Shuffling : Yes Display Question Number : Yes
Single Line Question Option : No Option Orientation : Vertical

Correct Marks : 1 Wrong Marks : 0.25

निम्नलिखित में से कौन सी अनुभवात्मक अधिगम चक्र की प्रारंभिक अवस्था/चरण है?

Options :

1. ✖ प्रकाशन
2. ✖ प्रक्रमण
3. ✖ सामान्यीकरण
4. ✔ अनुभव करना

Question Number : 145 Question Id : 99836741389 Question Type : MCQ Option Shuffling : Yes Display Question Number : Yes
Single Line Question Option : No Option Orientation : Vertical

Correct Marks : 1 Wrong Marks : 0.25

+ r and - r are _____ inverse of each other.

Options :

1. ✖ Subtractive
2. ✖ Multiplicative
3. ✔ Additive
4. ✖ Divisible

Question Number : 145 Question Id : 99836741389 Question Type : MCQ Option Shuffling : Yes Display Question Number : Yes
Single Line Question Option : No Option Orientation : Vertical

Correct Marks : 1 Wrong Marks : 0.25

+ r तथा - r एक दूसरे के _____ प्रतिलोम हैं।

Options :

1. ✖ ऋणात्मक
2. ✖ गुणक
3. ✔ योज्य
4. ✖ विभाज्य

Question Number : 146 Question Id : 99836741390 Question Type : MCQ Option Shuffling : Yes Display Question Number : Yes
Single Line Question Option : No Option Orientation : Vertical

Correct Marks : 1 Wrong Marks : 0.25

Which of the following is/are the geometric figures with the line of symmetry?

- I. Rectangle
- II. Isosceles triangle

Options :

1. ✖ Only I
2. ✖ Only II
3. ✔ Both I and II

4. ✖ Neither I nor II

Question Number : 146 Question Id : 99836741390 Question Type : MCQ Option Shuffling : Yes Display Question Number : Yes
Single Line Question Option : No Option Orientation : Vertical

Correct Marks : 1 Wrong Marks : 0.25

निम्नलिखित में से कौन सी सममित रेखा वाली ज्यामितीय आकृतियाँ हैं?

- I. आयत
- II. समद्विबाहु त्रिकोण

Options :

- 1. ✖ केवल I
- 2. ✖ केवल II
- 3. ✔ I तथा II दोनों
- 4. ✖ ना ही I ना ही II

Question Number : 147 Question Id : 99836741391 Question Type : MCQ Option Shuffling : Yes Display Question Number : Yes
Single Line Question Option : No Option Orientation : Vertical

Correct Marks : 1 Wrong Marks : 0.25

According to the discussion, division in the natural numbers is the reverse process of _____.

- I. Addition
- II. multiplication

Options :

- 1. ✖ Only I
- 2. ✔ Only II
- 3. ✖ Both I and II
- 4. ✖ Neither I nor II

Question Number : 147 Question Id : 99836741391 Question Type : MCQ Option Shuffling : Yes Display Question Number : Yes
Single Line Question Option : No Option Orientation : Vertical

Correct Marks : 1 Wrong Marks : 0.25

चर्चा के अनुसार, प्राकृतिक संख्याओं में भाग _____ की विपरीत प्रक्रिया है।

- I. योग
- II. गुणन

Options :

- 1. ✖ केवल I
- 2. ✔ केवल II
- 3. ✖ I तथा II दोनों
- 4. ✖ ना ही I ना ही II

Question Number : 148 Question Id : 99836741392 Question Type : MCQ Option Shuffling : Yes Display Question Number : Yes
Single Line Question Option : No Option Orientation : Vertical

Correct Marks : 1 Wrong Marks : 0.25

The numbers that are found to have been constructed to measure different parts of a complete object are known as _____.

Options :

- 1. ✖ Imaginary number
- 2. ✖ Irrational numbers
- 3. ✖ Natural numbers

4. ✓ Fractional numbers

Question Number : 148 Question Id : 99836741392 Question Type : MCQ Option Shuffling : Yes Display Question Number : Yes
Single Line Question Option : No Option Orientation : Vertical

Correct Marks : 1 Wrong Marks : 0.25

किसी पूर्ण वस्तु के विभिन्न भागों को मापने के लिए रचित संख्याओं को _____ के नाम से जाना जाता है

Options :

1. ✗ काल्पनिक संख्या
2. ✗ अपरिमेय संख्या
3. ✗ प्राकृतिक संख्या
4. ✓ भिन्नात्मक संख्या

Question Number : 149 Question Id : 99836741393 Question Type : MCQ Option Shuffling : Yes Display Question Number : Yes
Single Line Question Option : No Option Orientation : Vertical

Correct Marks : 1 Wrong Marks : 0.25

In which of the following numeral system, one is indicated by a dot and five is indicated by a bar.

- I. Roman system
- II. Babylonian system
- III. Mayan system

Options :

1. ✗ Only I
2. ✗ Only II
3. ✓ Only III
4. ✗ I, II and III

Question Number : 149 Question Id : 99836741393 Question Type : MCQ Option Shuffling : Yes Display Question Number : Yes
Single Line Question Option : No Option Orientation : Vertical

Correct Marks : 1 Wrong Marks : 0.25

निम्नलिखित में से किस संख्या प्रणाली में, एक को बिंदु द्वारा इंगित किया जाता है तथा पाँच को एक बार द्वारा इंगित किया जाता है

- I. रोमन प्रणाली
- II. बेबीलोनियन प्रणाली
- III. मायन प्रणाली

Options :

1. ✗ केवल I
2. ✗ केवल II
3. ✓ केवल III
4. ✗ I, II तथा III

Question Number : 150 Question Id : 99836741394 Question Type : MCQ Option Shuffling : Yes Display Question Number : Yes
Single Line Question Option : No Option Orientation : Vertical

Correct Marks : 1 Wrong Marks : 0.25

Find the part of the given sentence that has an error in it. If there is no error, choose 'No error'.

Time have destroyed (1)/ all his works (2)/ as well as his statue (3)/ No error (4)

Options :

1. ✓ Time have destroyed
2. ✗ all his works
3. ✗ as well as his statue

4. ✖ No error

Question Number : 150 Question Id : 99836741394 Question Type : MCQ Option Shuffling : Yes Display Question Number : Yes
Single Line Question Option : No Option Orientation : Vertical

Correct Marks : 1 Wrong Marks : 0.25

Find the part of the given sentence that has an error in it. If there is no error, choose 'No error'.

Time have destroyed (1)/ all his works (2)/ as well as his statue (3)/ No error (4)

Options :

1. ✔ Time have destroyed
2. ✖ all his works
3. ✖ as well as his statue
4. ✖ No error

Question Number : 151 Question Id : 99836741395 Question Type : MCQ Option Shuffling : Yes Display Question Number : Yes
Single Line Question Option : No Option Orientation : Vertical

Correct Marks : 1 Wrong Marks : 0.25

Choose the word that is opposite in meaning to the given word.

Authentic

Options :

1. ✔ false
2. ✖ power
3. ✖ expand
4. ✖ revive

Question Number : 151 Question Id : 99836741395 Question Type : MCQ Option Shuffling : Yes Display Question Number : Yes
Single Line Question Option : No Option Orientation : Vertical

Correct Marks : 1 Wrong Marks : 0.25

Choose the word that is opposite in meaning to the given word.

Authentic

Options :

1. ✔ false
2. ✖ power
3. ✖ expand
4. ✖ revive

Question Number : 152 Question Id : 99836741396 Question Type : MCQ Option Shuffling : Yes Display Question Number : Yes
Single Line Question Option : No Option Orientation : Vertical

Correct Marks : 1 Wrong Marks : 0.25

Choose the word that is opposite in meaning to the given word.

Bright

Options :

1. ✖ vivid
2. ✔ dull
3. ✖ collect
4. ✖ easy

Question Number : 152 Question Id : 99836741396 Question Type : MCQ Option Shuffling : Yes Display Question Number : Yes
Single Line Question Option : No Option Orientation : Vertical

Correct Marks : 1 Wrong Marks : 0.25

Choose the word that is opposite in meaning to the given word.

Bright

Options :

1. ✖ vivid
2. ✔ dull
3. ✖ collect
4. ✖ easy

Question Number : 153 Question Id : 99836741397 Question Type : MCQ Option Shuffling : Yes Display Question Number : Yes
Single Line Question Option : No Option Orientation : Vertical

Correct Marks : 1 Wrong Marks : 0.25

Choose the word that means the same as the given word.

Anxious

Options :

1. ✖ dauntless
2. ✔ scared
3. ✖ confined
4. ✖ tender

Question Number : 153 Question Id : 99836741397 Question Type : MCQ Option Shuffling : Yes Display Question Number : Yes
Single Line Question Option : No Option Orientation : Vertical

Correct Marks : 1 Wrong Marks : 0.25

Choose the word that means the same as the given word.

Anxious

Options :

1. ✖ dauntless
2. ✔ scared
3. ✖ confined
4. ✖ tender

Question Number : 154 Question Id : 99836741398 Question Type : MCQ Option Shuffling : Yes Display Question Number : Yes
Single Line Question Option : No Option Orientation : Vertical

Correct Marks : 1 Wrong Marks : 0.25

Choose the word that can substitute the given sentence.

An examination of a dead body

Options :

1. ✔ autopsy
2. ✖ oligarchy
3. ✖ despotism
4. ✖ fiancée

Question Number : 154 Question Id : 99836741398 Question Type : MCQ Option Shuffling : Yes Display Question Number : Yes
Single Line Question Option : No Option Orientation : Vertical

Correct Marks : 1 Wrong Marks : 0.25

Choose the word that can substitute the given sentence.

An examination of a dead body

Options :

1. ✓ autopsy
2. ✗ oligarchy
3. ✗ despotism
4. ✗ fiancée

Question Number : 155 Question Id : 99836741399 Question Type : MCQ Option Shuffling : Yes Display Question Number : Yes
Single Line Question Option : No Option Orientation : Vertical

Correct Marks : 1 Wrong Marks : 0.25

In the following question, out of the given four alternatives, select the alternative which best expresses the meaning of the Idiom/Phrase.

Show up

Options :

1. ✗ represent
2. ✓ appear
3. ✗ begin to lose
4. ✗ gather in

Question Number : 155 Question Id : 99836741399 Question Type : MCQ Option Shuffling : Yes Display Question Number : Yes
Single Line Question Option : No Option Orientation : Vertical

Correct Marks : 1 Wrong Marks : 0.25

In the following question, out of the given four alternatives, select the alternative which best expresses the meaning of the Idiom/Phrase.

Show up

Options :

1. ✗ represent
2. ✓ appear
3. ✗ begin to lose
4. ✗ gather in

Question Number : 156 Question Id : 99836741400 Question Type : MCQ Option Shuffling : Yes Display Question Number : Yes
Single Line Question Option : No Option Orientation : Vertical

Correct Marks : 1 Wrong Marks : 0.25

In the following question, out of the given four alternatives, select the alternative which best expresses the meaning of the Idiom/Phrase.

Apple-pie order

Options :

1. ✗ to suddenly understand a problem
2. ✗ to protest strongly
3. ✓ perfectly neat and tidy
4. ✗ as it seems to be from the facts

Question Number : 156 Question Id : 99836741400 Question Type : MCQ Option Shuffling : Yes Display Question Number : Yes
Single Line Question Option : No Option Orientation : Vertical

Correct Marks : 1 Wrong Marks : 0.25

In the following question, out of the given four alternatives, select the alternative which best expresses the meaning of the Idiom/Phrase.

Apple-pie order

Options :

1. ✖ to suddenly understand a problem
2. ✖ to protest strongly
3. ✔ perfectly neat and tidy
4. ✖ as it seems to be from the facts

Question Number : 157 Question Id : 99836741401 Question Type : MCQ Option Shuffling : Yes Display Question Number : Yes
Single Line Question Option : No Option Orientation : Vertical

Correct Marks : 1 Wrong Marks : 0.25

A sentence has been given with a blank to be filled with an appropriate word. Choose the correct alternative.

You _____ not show disrespect to your elders.

Options :

1. ✖ might
2. ✖ may
3. ✖ shall
4. ✔ must

Question Number : 157 Question Id : 99836741401 Question Type : MCQ Option Shuffling : Yes Display Question Number : Yes
Single Line Question Option : No Option Orientation : Vertical

Correct Marks : 1 Wrong Marks : 0.25

A sentence has been given with a blank to be filled with an appropriate word. Choose the correct alternative.

You _____ not show disrespect to your elders.

Options :

1. ✖ might
2. ✖ may
3. ✖ shall
4. ✔ must

Question Number : 158 Question Id : 99836741402 Question Type : MCQ Option Shuffling : Yes Display Question Number : Yes
Single Line Question Option : No Option Orientation : Vertical

Correct Marks : 1 Wrong Marks : 0.25

The concept of _____ was very important for Kohlberg because it enabled him to explain the direction of his stage sequence.

Options :

1. ✖ structured wholes
2. ✔ hierarchic integration
3. ✖ cross-cultural university
4. ✖ invariant sequence

Question Number : 158 Question Id : 99836741402 Question Type : MCQ Option Shuffling : Yes Display Question Number : Yes
Single Line Question Option : No Option Orientation : Vertical

Correct Marks : 1 Wrong Marks : 0.25

कोलबर्ग के लिए _____ की अवधारणा बहुत महत्वपूर्ण थी क्योंकि इसने उन्हें अपने स्टेज अनुक्रम की दिशा की व्याख्या करने में सक्षम बनाया था।

Options :

1. ✖ संरचित पूर्ण
2. ✔ पदानुक्रमी एकीकरण
3. ✖ क्रॉस-सांस्कृतिक विश्वविद्यालय
4. ✖ अपरिवर्तनीय अनुक्रम

Question Number : 159 Question Id : 99836741403 Question Type : MCQ Option Shuffling : Yes Display Question Number : Yes
Single Line Question Option : No Option Orientation : Vertical

Correct Marks : 1 Wrong Marks : 0.25

In programmed instruction of _____, materials are largely physical. She thought young children find such physical activities more natural.

Options :

1. ✔ Maria Montessori
2. ✖ B.F Skinner
3. ✖ Carol Gilligan
4. ✖ George Polya

Question Number : 159 Question Id : 99836741403 Question Type : MCQ Option Shuffling : Yes Display Question Number : Yes
Single Line Question Option : No Option Orientation : Vertical

Correct Marks : 1 Wrong Marks : 0.25

_____ के कार्यक्रमबद्ध निर्देश में, सामग्री व्यापक रूप से भौतिक होती है। उन्होंने सोचा कि युवा बच्चों को ऐसी भौतिक गतिविधियाँ अधिक स्वाभाविक लगती हैं।

Options :

1. ✔ मारिया मोंटेसरी
2. ✖ बी.एफ स्किनर
3. ✖ कैरोल गिलिगन
4. ✖ जॉर्ज पोल्या

Question Number : 160 Question Id : 99836741404 Question Type : MCQ Option Shuffling : Yes Display Question Number : Yes
Single Line Question Option : No Option Orientation : Vertical

Correct Marks : 1 Wrong Marks : 0.25

Sooraj gave two statement about him i.e "I am good at algebra" and "I am a poor swimmer" Bandura consider such judgements made by Sooraj as _____.

- I. self-efficacy appraisals
- II. self-evaluative standards

Options :

1. ✔ Only I
2. ✖ Only II
3. ✖ Both I and II
4. ✖ Neither I nor II

Question Number : 160 Question Id : 99836741404 Question Type : MCQ Option Shuffling : Yes Display Question Number : Yes
Single Line Question Option : No Option Orientation : Vertical

Correct Marks : 1 Wrong Marks : 0.25

सूरज ने अपने बारे में दो कथन दिए अर्थात् "मैं बीजगणित में अच्छा हूँ" तथा "मैं एक बुरा तैराक हूँ" बंडुरा सूरज द्वारा किए गए ऐसे निर्णयों को _____ मानते हैं।

- I. आत्म - गुणकारिता मूल्यांकन
- II. स्व-मूल्यांकन मानक

Options :

1. ✓ केवल I
2. ✗ केवल II
3. ✗ I तथा II दोनों
4. ✗ ना ही I ना ही II

Discipline4

Group Number :	9
Group Id :	9983671319
Group Maximum Duration :	0
Group Minimum Duration :	0
Revisit allowed for view? :	No
Revisit allowed for edit? :	No
Break time:	0
Group Marks:	20
Revisit allowed for group Instructions? :	Yes
Maximum Instruction Time:	0
Minimum Instruction Time:	0

Discipline4

Section Id :	9983671718
Section Number :	1
Section type :	Online
Mandatory or Optional:	Mandatory
Number of Questions:	20
Number of Questions to be attempted:	20
Section Marks:	20
Display Number Panel:	Yes
Group All Questions:	No

Sub-Section Number:	1
Sub-Section Id:	9983672134
Question Shuffling Allowed :	Yes

Question Number : 161 Question Id : 99836741405 Question Type : MCQ Option Shuffling : Yes Display Question Number : Yes
Single Line Question Option : No Option Orientation : Vertical

Correct Marks : 1 Wrong Marks : 0.25

According to whom, our ancestors became capable of tool use when they came down from the trees and began living on level ground?

Options :

1. ✗ George Polya
2. ✗ N.J. Fine
3. ✓ Friedrich Engels
4. ✗ John B Watson

Question Number : 161 Question Id : 99836741405 Question Type : MCQ Option Shuffling : Yes Display Question Number : Yes
Single Line Question Option : No Option Orientation : Vertical

Correct Marks : 1 Wrong Marks : 0.25

किसके अनुसार, हमारे पूर्वज पेड़ों से नीचे आने तथा जमीन पर रहने से उपकरण उपयोग में सक्षम हुए?

Options :

1. ✖ जॉर्ज पोल्या
2. ✖ एन.जे. फाइन
3. ✔ फ्रेडरिक एंगेल्स
4. ✖ जॉन बी वॉटसन

Question Number : 162 Question Id : 99836741406 Question Type : MCQ Option Shuffling : Yes Display Question Number : Yes
Single Line Question Option : No Option Orientation : Vertical

Correct Marks : 1 Wrong Marks : 0.25

Which of the following is NOT a theme included in the EVS syllabus for class III to V?

Options :

1. ✔ Wealth
2. ✖ Shelter
3. ✖ Travel
4. ✖ Water

Question Number : 162 Question Id : 99836741406 Question Type : MCQ Option Shuffling : Yes Display Question Number : Yes
Single Line Question Option : No Option Orientation : Vertical

Correct Marks : 1 Wrong Marks : 0.25

कक्षा III से V के लिए पर्यावरण अध्ययन के पाठ्यक्रम में निम्नलिखित में से कौन सा प्रकरण शामिल नहीं है?

Options :

1. ✔ धन
2. ✖ शेल्टर
3. ✖ यात्रा
4. ✖ जल

Question Number : 163 Question Id : 99836741407 Question Type : MCQ Option Shuffling : Yes Display Question Number : Yes
Single Line Question Option : No Option Orientation : Vertical

Correct Marks : 1 Wrong Marks : 0.25

Which of the following methods of teaching learning of EVS encourages children to explore their environments and encourages them to use, think and establish connections?

Options :

1. ✔ Observation Method
2. ✖ Project Method
3. ✖ Creative Expression Method
4. ✖ Group Discussion Method

Question Number : 163 Question Id : 99836741407 Question Type : MCQ Option Shuffling : Yes Display Question Number : Yes
Single Line Question Option : No Option Orientation : Vertical

Correct Marks : 1 Wrong Marks : 0.25

पर्यावरण अध्ययन के शिक्षण अधिगम की निम्नलिखित में से कौन सी विधि बच्चों को उनके वातावरण का अन्वेषण करने के लिए प्रोत्साहित करती है तथा उन्हें उपयोग करने, सोचने तथा संबंध स्थापित करने के लिए प्रोत्साहित करती है?

Options :

1. ✔ अवलोकन विधि
2. ✖ परियोजना विधि
3. ✖ रचनात्मक अभिव्यक्ति विधि
4. ✖ समूह चर्चा विधि

Question Number : 164 Question Id : 99836741408 Question Type : MCQ Option Shuffling : Yes Display Question Number : Yes
Single Line Question Option : No Option Orientation : Vertical

Correct Marks : 1 Wrong Marks : 0.25

Which of the following activities can enhance cooperative learning in an EVS class?

Options :

- ✖ Asking the students to read from their textbooks
- ✔ Asking the students to think of the recent travel that the students have undertaken and to discuss it with other students in the class
- ✖ Asking the students to collect different kinds of leaves and paste them in their notebooks
- ✖ Asking the students to individually visit a post office with their parents and observe the work that is happening there

Question Number : 164 Question Id : 99836741408 Question Type : MCQ Option Shuffling : Yes Display Question Number : Yes
Single Line Question Option : No Option Orientation : Vertical

Correct Marks : 1 Wrong Marks : 0.25

पर्यावरण अध्ययन की कक्षा में निम्नलिखित में से कौन सी गतिविधियां सहयोगी अधिगम को सुधार सकती हैं?

Options :

- ✖ छात्रों को अपनी पाठ्यपुस्तकों से पढ़ने के लिए कहना
- ✔ छात्रों को हाल की यात्रा के बारे में जो उन्होंने की है के बारे में सोचकर कक्षा में अन्य छात्रों के साथ इस विषय पर चर्चा करने के लिए कहना
- ✖ छात्रों को विभिन्न प्रकार के पत्तों को इकट्ठा करके तथा उन्हें नोटबुक में चिपकाने के लिए कहना
- ✖ छात्रों को व्यक्तिगत रूप से अपने माता-पिता के साथ एक पोस्ट ऑफिस जाने तथा वहां होने वाले काम का निरीक्षण करने के लिए कहना

Question Number : 165 Question Id : 99836741409 Question Type : MCQ Option Shuffling : Yes Display Question Number : Yes
Single Line Question Option : No Option Orientation : Vertical

Correct Marks : 1 Wrong Marks : 0.25

Which of the following principles is/are adopted by the special session on children of the United Nations General Assembly in May 2002?

- Educate every child
- Nourishment for all children
- Protect children from war
- Leave no child out

Options :

- ✖ I, II and III
- ✖ II, III and IV
- ✔ I, III and IV
- ✖ I, II, III and IV

Question Number : 165 Question Id : 99836741409 Question Type : MCQ Option Shuffling : Yes Display Question Number : Yes
Single Line Question Option : No Option Orientation : Vertical

Correct Marks : 1 Wrong Marks : 0.25

निम्नलिखित में से कौन सा/से सिद्धांत युनाइटेड नेशनल जनरल असेम्बली ने मई 2002 में धारण किये थे।

- प्रत्येक बच्चे को शिक्षित करना
- सभी बच्चों के लिए पोषण
- बच्चों का युद्ध से बचाव
- किसी बच्चे को बाहर न छोड़ें

Options :

- ✖ I, II तथा III
- ✖ II, III तथा IV

3. ✓ I, III तथा IV

4. ✗ I, II, III तथा IV

Question Number : 166 Question Id : 99836741410 Question Type : MCQ Option Shuffling : Yes Display Question Number : Yes
Single Line Question Option : No Option Orientation : Vertical

Correct Marks : 1 Wrong Marks : 0.25

Which of the following is NOT a technology resource in teaching - learning for EVS?

Options :

1. ✓ Television

2. ✗ Computers

3. ✗ Camera

4. ✗ Mobile phones

Question Number : 166 Question Id : 99836741410 Question Type : MCQ Option Shuffling : Yes Display Question Number : Yes
Single Line Question Option : No Option Orientation : Vertical

Correct Marks : 1 Wrong Marks : 0.25

निम्नलिखित में से कौन-सा पर्यावरण अध्ययन के लिए अधिगम - शिक्षण में प्रौद्योगिकी संसाधन नहीं है?

Options :

1. ✓ टेलीविजन

2. ✗ कंप्यूटर

3. ✗ कैमरा

4. ✗ मोबाइल फोन

Question Number : 167 Question Id : 99836741411 Question Type : MCQ Option Shuffling : Yes Display Question Number : Yes
Single Line Question Option : No Option Orientation : Vertical

Correct Marks : 1 Wrong Marks : 0.25

Speech bubbles can be useful for _____.

I. simple dialogues

II. setting the scene

Options :

1. ✗ Only I

2. ✗ Only II

3. ✓ Both I and II

4. ✗ Neither I nor II

Question Number : 167 Question Id : 99836741411 Question Type : MCQ Option Shuffling : Yes Display Question Number : Yes
Single Line Question Option : No Option Orientation : Vertical

Correct Marks : 1 Wrong Marks : 0.25

स्पीच बबल्स _____ के लिए उपयोगी हो सकते हैं।

I. सरल संवाद

II. दृश्य की स्थापना करने

Options :

1. ✗ केवल I

2. ✗ केवल II

3. ✓ I तथा II दोनों

4. ✗ ना ही I ना ही II

Question Number : 168 Question Id : 99836741412 Question Type : MCQ Option Shuffling : Yes Display Question Number : Yes
Single Line Question Option : No Option Orientation : Vertical

Correct Marks : 1 Wrong Marks : 0.25

Which of the following is not a means of our teaching?

Options :

1. ✓ Words are enough
2. ✗ Play with the language
3. ✗ Variety in the classroom
4. ✗ Routines

Question Number : 168 Question Id : 99836741412 Question Type : MCQ Option Shuffling : Yes Display Question Number : Yes
Single Line Question Option : No Option Orientation : Vertical

Correct Marks : 1 Wrong Marks : 0.25

निम्नलिखित में से कौन सा हमारे शिक्षण का एक साधन नहीं है?

Options :

1. ✓ शब्द काफी हैं
2. ✗ भाषा के साथ खेलना
3. ✗ कक्षा में विभिन्नता
4. ✗ दिनचर्या

Question Number : 169 Question Id : 99836741413 Question Type : MCQ Option Shuffling : Yes Display Question Number : Yes
Single Line Question Option : No Option Orientation : Vertical

Correct Marks : 1 Wrong Marks : 0.25

Which of the following is not correct about 'stories'?

Options :

1. ✗ Storybooks allow the teacher to use an acquisition-based methodology
2. ✗ Listening to stories help children become aware of rhythm, intonation etc
3. ✓ Storybooks makes learning least meaningful for each child
4. ✗ Storybooks add variety and provide a springboard for creating complete units of work

Question Number : 169 Question Id : 99836741413 Question Type : MCQ Option Shuffling : Yes Display Question Number : Yes
Single Line Question Option : No Option Orientation : Vertical

Correct Marks : 1 Wrong Marks : 0.25

निम्नलिखित में से कौन सा 'कहानियों' के संदर्भ में सही नहीं है?

Options :

1. ✗ स्टोरीबुक शिक्षक को अधिग्रहण-आधारित कार्यप्रणाली का उपयोग करने की अनुमति देता है
2. ✗ कहानियाँ सुनने से बच्चों को लय, स्वरशैली आदि के बारे में पता चलता है
3. ✓ स्टोरीबुक प्रत्येक बच्चे के लिए कम से कम सीखने को सार्थक बनाता है
4. ✗ स्टोरीबुक विविधता लाती है और काम की पूरी इकाइयों को बनाने के लिए एक स्प्रिंगबोर्ड प्रदान करती है

Question Number : 170 Question Id : 99836741414 Question Type : MCQ Option Shuffling : Yes Display Question Number : Yes
Single Line Question Option : No Option Orientation : Vertical

Correct Marks : 1 Wrong Marks : 0.25

Which is the third level in story-based methodology other than plan and do?

Options :

1. ✗ Read
2. ✓ Review
3. ✗ Rewrite
4. ✗ Reassure

Question Number : 170 Question Id : 99836741414 Question Type : MCQ Option Shuffling : Yes Display Question Number : Yes
Single Line Question Option : No Option Orientation : Vertical

Correct Marks : 1 Wrong Marks : 0.25

कहानी आधारित कार्यप्रणाली में योजना और कार्य के अलावा तीसरा स्तर कौन सा है?

Options :

1. ✖ पढ़ना
2. ✔ समीक्षा करना
3. ✖ पुनर्लेखन
4. ✖ पुनः आश्वासन देना

Question Number : 171 Question Id : 99836741415 Question Type : MCQ Option Shuffling : Yes Display Question Number : Yes
Single Line Question Option : No Option Orientation : Vertical

Correct Marks : 1 Wrong Marks : 0.25

What could be reason to ask questions from listeners in story-based lessons?

I. To focus pupil's attention.

II. To make them feel bad in case they have no knowledge about the topic.

Options :

1. ✔ Only I
2. ✖ Only II
3. ✖ Both I and II
4. ✖ Neither I nor II

Question Number : 171 Question Id : 99836741415 Question Type : MCQ Option Shuffling : Yes Display Question Number : Yes
Single Line Question Option : No Option Orientation : Vertical

Correct Marks : 1 Wrong Marks : 0.25

कहानी-आधारित पाठों में श्रोताओं से प्रश्न पूछने का क्या कारण हो सकता है?

I. विद्यार्थियों का ध्यान आकर्षित करने के लिए

II. यदि उन्हें विषय के बारे में कोई जानकारी नहीं है, तो उन्हें बुरा महसूस कराने के लिए

Options :

1. ✔ केवल I
2. ✖ केवल II
3. ✖ I तथा II दोनों
4. ✖ ना ही I ना ही II

Question Number : 172 Question Id : 99836741416 Question Type : MCQ Option Shuffling : Yes Display Question Number : Yes
Single Line Question Option : No Option Orientation : Vertical

Correct Marks : 1 Wrong Marks : 0.25

What does 'Encourage pupils to build up their own word sets as an alternative to a picture dictionary' called?

Options :

1. ✖ Picture dictionaries
2. ✔ Word families
3. ✖ Vocabulary
4. ✖ Collages

Question Number : 172 Question Id : 99836741416 Question Type : MCQ Option Shuffling : Yes Display Question Number : Yes
Single Line Question Option : No Option Orientation : Vertical

Correct Marks : 1 Wrong Marks : 0.25

एक पिक्चर शब्दकोश के विकल्प के रूप में अपने स्वयं के शब्द सेट बनाने के लिए विद्यार्थियों को प्रोत्साहित करना' क्या कहलाता है?

Options :

1. ✖ पिक्चर शब्दकोश
2. ✔ शब्द परिवार
3. ✖ शब्द-भंडार
4. ✖ कोलाज

Question Number : 173 Question Id : 99836741417 Question Type : MCQ Option Shuffling : Yes Display Question Number : Yes
Single Line Question Option : No Option Orientation : Vertical

Correct Marks : 1 Wrong Marks : 0.25

Which of the following speaking activities is used for free communication?

- I. Look, listen and repeat
- II. Dramatisation

Options :

1. ✖ Only I
2. ✖ Only II
3. ✔ Both I and II
4. ✖ Neither I nor II

Question Number : 173 Question Id : 99836741417 Question Type : MCQ Option Shuffling : Yes Display Question Number : Yes
Single Line Question Option : No Option Orientation : Vertical

Correct Marks : 1 Wrong Marks : 0.25

निम्नलिखित में से कौन सी बोलने वाली गतिविधियों का उपयोग मुक्त संप्रेषण के लिए किया जाता है?

- I. देखना, सुनना और दोहराना
- II. नाटकीय रूपांतरण

Options :

1. ✖ केवल I
2. ✖ केवल II
3. ✔ I तथा II दोनों
4. ✖ ना ही I ना ही II

Question Number : 174 Question Id : 99836741418 Question Type : MCQ Option Shuffling : Yes Display Question Number : Yes
Single Line Question Option : No Option Orientation : Vertical

Correct Marks : 1 Wrong Marks : 0.25

What comes under 'writing at sentence level' writing activity?

- I. Captions for pictures
- II. Menus/shopping lists

Options :

1. ✔ Only I
2. ✖ Only II
3. ✖ Both I and II
4. ✖ Neither I nor II

Question Number : 174 Question Id : 99836741418 Question Type : MCQ Option Shuffling : Yes Display Question Number : Yes
Single Line Question Option : No Option Orientation : Vertical

Correct Marks : 1 Wrong Marks : 0.25

लेखन गतिविधि में 'वाक्य स्तर पर लेखन' के अंतर्गत क्या आता है?

- I. तस्वीरों के लिए शीर्षक
- II. मेनू / खरीदारी की सूची

Options :

- 1. ✓ केवल I
- 2. ✗ केवल II
- 3. ✗ I तथा II दोनों
- 4. ✗ ना ही I ना ही II

Question Number : 175 Question Id : 99836741419 Question Type : MCQ Option Shuffling : Yes Display Question Number : Yes
Single Line Question Option : No Option Orientation : Vertical

Correct Marks : 1 Wrong Marks : 0.25

Pupils can be taught to ask themselves questions about their learning in order to reflect on the content and process is called -----

Options :

- 1. ✗ self assessment
- 2. ✗ comparing
- 3. ✓ self questioning
- 4. ✗ hypothesising

Question Number : 175 Question Id : 99836741419 Question Type : MCQ Option Shuffling : Yes Display Question Number : Yes
Single Line Question Option : No Option Orientation : Vertical

Correct Marks : 1 Wrong Marks : 0.25

विषय सूची और प्रक्रिया पर चिंतन करने के लिए विद्यार्थियों को स्वयं अधिगम के बारे में प्रश्न पूछने के लिए सिखाया जा सकता है, इसे ----- कहा जाता है

Options :

- 1. ✗ स्व - आकलन
- 2. ✗ तुलना करना
- 3. ✓ स्व-प्रश्न
- 4. ✗ परिकल्पना करना

Question Number : 176 Question Id : 99836741420 Question Type : MCQ Option Shuffling : Yes Display Question Number : Yes
Single Line Question Option : No Option Orientation : Vertical

Correct Marks : 1 Wrong Marks : 0.25

Which of the following is a part of Interactive Role?

Options :

- 1. ✓ To encourage active reflection to develop greater understanding and self-awareness
- 2. ✗ To value diversity
- 3. ✗ To provide opportunities for self direction and choice
- 4. ✗ To create an atmosphere of mutual trust and respect

Question Number : 176 Question Id : 99836741420 Question Type : MCQ Option Shuffling : Yes Display Question Number : Yes
Single Line Question Option : No Option Orientation : Vertical

Correct Marks : 1 Wrong Marks : 0.25

निम्नलिखित में से कौन सा संवादात्मक भूमि का (इंटरएक्टिव) का एक हिस्सा है?

Options :

- 1. ✓ अधिक से अधिक समझ और आत्म-जागरूकता विकसित करने के लिए सक्रिय चिंतन को प्रोत्साहित करना
- 2. ✗ विविधता को महत्व देना

3. ✖ आत्म दिशा तथा पसंद के लिए अवसर प्रदान करना
4. ✖ आपसी विश्वास और सम्मान का माहौल बनाना

Question Number : 177 Question Id : 99836741421 Question Type : MCQ Option Shuffling : Yes Display Question Number : Yes
Single Line Question Option : No Option Orientation : Vertical

Correct Marks : 1 Wrong Marks : 0.25

What is included in stage 1 of productive computer session?

- I. Contextualize work
- II. Explain the purpose of the task

Options :

1. ✖ Only I
2. ✖ Only II
3. ✔ Both I and II
4. ✖ Neither I nor II

Question Number : 177 Question Id : 99836741421 Question Type : MCQ Option Shuffling : Yes Display Question Number : Yes
Single Line Question Option : No Option Orientation : Vertical

Correct Marks : 1 Wrong Marks : 0.25

उपयोगी कंप्यूटर सत्र के चरण 1 में क्या शामिल है?

- I. कार्य को संदर्भित करना
- II. कार्य के उद्देश्य की व्याख्या करना

Options :

1. ✖ केवल I
2. ✖ केवल II
3. ✔ I तथा II दोनों
4. ✖ ना ही I ना ही II

Question Number : 178 Question Id : 99836741422 Question Type : MCQ Option Shuffling : Yes Display Question Number : Yes
Single Line Question Option : No Option Orientation : Vertical

Correct Marks : 1 Wrong Marks : 0.25

What is the aim of teaching English?

Options :

1. ✖ As it does not stand alone
2. ✔ Creation of multilingualism which can enrich all our languages
3. ✖ Since it must be seen in relation to other subjects
4. ✖ As it is spoken in America

Question Number : 178 Question Id : 99836741422 Question Type : MCQ Option Shuffling : Yes Display Question Number : Yes
Single Line Question Option : No Option Orientation : Vertical

Correct Marks : 1 Wrong Marks : 0.25

अंग्रेजी पढ़ाने का उद्देश्य क्या है?

Options :

1. ✖ केवल यही अकेली नहीं है
2. ✔ बहुभाषावाद का निर्माण करने के लिए जो हमारी सभी भाषाओं को समृद्ध कर सके
3. ✖ चूंकि इसे अन्य विषयों के संबंध में देखना चाहिए
4. ✖ क्योंकि ये अमेरिका में बोली जाती है

Question Number : 179 Question Id : 99836741423 Question Type : MCQ Option Shuffling : Yes Display Question Number : Yes
Single Line Question Option : No Option Orientation : Vertical

Correct Marks : 1 Wrong Marks : 0.25

What do you mean by 'establish ground rules'?

Note: For this question, discrepancy is found in question/answer. So, this question is ignored for all candidates.

Options :

1. To ensure that children respect the hardware and software
2. To ensure that children work together on a computer and tell them that they take turns
3. To make sure that you are familiar with the website
4. Asking children to complete a gap-fill

Question Number : 179 Question Id : 99836741423 Question Type : MCQ Option Shuffling : Yes Display Question Number : Yes
Single Line Question Option : No Option Orientation : Vertical

Correct Marks : 1 Wrong Marks : 0.25

मूल नियमों को स्थापित करने से आपका क्या तात्पर्य है?

Note: For this question, discrepancy is found in question/answer. So, this question is ignored for all candidates.

Options :

1. यह सुनिश्चित करने के लिए, कि बच्चे हार्डवेयर और सॉफ्टवेयर का सम्मान करें
2. यह सुनिश्चित करने के लिए कि बच्चे कंप्यूटर पर एक साथ काम करें और उन्हें बतायें कि वे बारी-बारी से कार्य करें
3. यह सुनिश्चित करने के लिए कि आप वेबसाइट से परिचित हैं
4. बच्चों को गैप-फिल पूरा करने के लिए कहना

Question Number : 180 Question Id : 99836741424 Question Type : MCQ Option Shuffling : Yes Display Question Number : Yes
Single Line Question Option : No Option Orientation : Vertical

Correct Marks : 1 Wrong Marks : 0.25

What does development of metacognitive awareness includes?

- I. Nature of the learning task.
- II. Knowing about oneself as a learner

Options :

1. ✖ Only I
2. ✔ Only II
3. ✖ Both I and II
4. ✖ Neither I nor II

Question Number : 180 Question Id : 99836741424 Question Type : MCQ Option Shuffling : Yes Display Question Number : Yes
Single Line Question Option : No Option Orientation : Vertical

Correct Marks : 1 Wrong Marks : 0.25

मेटाकोग्निटिव जागरूकता के विकास में क्या शामिल है?

- I. अधिगम कार्य की प्रकृति
- II. शिक्षार्थी के रूप में अपने बारे में जानना

Options :

1. ✖ केवल I
2. ✔ केवल II
3. ✖ I तथा II दोनों
4. ✖ ना ही I ना ही II

Discipline5

Group Number :	10
Group Id :	9983671320
Group Maximum Duration :	0
Group Minimum Duration :	120
Revisit allowed for view? :	No
Revisit allowed for edit? :	No
Break time:	0
Group Marks:	20
Revisit allowed for group Instructions? :	Yes
Maximum Instruction Time:	0
Minimum Instruction Time:	0

Discipline5

Section Id :	9983671719
Section Number :	1
Section type :	Online
Mandatory or Optional:	Mandatory
Number of Questions:	20
Number of Questions to be attempted:	20
Section Marks:	20
Display Number Panel:	Yes
Group All Questions:	No

Sub-Section Number:	1
Sub-Section Id:	9983672135
Question Shuffling Allowed :	Yes

Question Number : 181 Question Id : 99836741425 Question Type : MCQ Option Shuffling : Yes Display Question Number : Yes
Single Line Question Option : No Option Orientation : Vertical

Correct Marks : 1 Wrong Marks : 0.25

Which of the following techniques can be used to introduce new vocabulary?

- I. Translating
- II. Eliciting

Options :

1. ✖ Only I
2. ✖ Only II
3. ✔ Both I and II
4. ✖ Neither I nor II

Question Number : 181 Question Id : 99836741425 Question Type : MCQ Option Shuffling : Yes Display Question Number : Yes
Single Line Question Option : No Option Orientation : Vertical

Correct Marks : 1 Wrong Marks : 0.25

नई शब्दावली को पेश करने के लिए निम्नलिखित में से किस तकनीक का उपयोग किया जा सकता है?

- I. अनुवाद करना
- II. सार निकालना

Options :

1. ✖ केवल I

2. ✖ केवल II
3. ✔ I तथा II दोनों
4. ✖ ना ही I ना ही II

Question Number : 182 Question Id : 99836741426 Question Type : MCQ Option Shuffling : Yes Display Question Number : Yes
Single Line Question Option : No Option Orientation : Vertical

Correct Marks : 1 Wrong Marks : 0.25

Which of the following is the MOST appropriate critical question a teacher can ask while teaching the topic of 'People and Environment'?

Options :

1. ✖ Define environment.
2. ✔ How will the earth be if there are no forests at all?
3. ✖ What are the features of environment?
4. ✖ Are people affected by their environment?

Question Number : 182 Question Id : 99836741426 Question Type : MCQ Option Shuffling : Yes Display Question Number : Yes
Single Line Question Option : No Option Orientation : Vertical

Correct Marks : 1 Wrong Marks : 0.25

निम्नलिखित में से कौन सा सबसे उपयुक्त आलोचनात्मक प्रश्न है जो एक शिक्षक "लोग तथा पर्यावरण" विषय पढ़ाते समय पूछ सकता है?

Options :

1. ✖ पर्यावरण को परिभाषित करें
2. ✔ यदि जंगल ही नहीं होंगे तो धरती कैसी होगी?
3. ✖ पर्यावरण की विशेषताएं क्या हैं?
4. ✖ क्या लोग अपने पर्यावरण से प्रभावित होते हैं?

Question Number : 183 Question Id : 99836741427 Question Type : MCQ Option Shuffling : Yes Display Question Number : Yes
Single Line Question Option : No Option Orientation : Vertical

Correct Marks : 1 Wrong Marks : 0.25

Which of the following source/sources is/are included in Archaeological sources of history?

- I. Pottery
- II. Inscriptions on rocks
- III. Terracotta figures
- IV. Religious Literature

Options :

1. ✖ I, II and IV
2. ✔ I, II and III
3. ✖ II, III and IV
4. ✖ I, III and IV

Question Number : 183 Question Id : 99836741427 Question Type : MCQ Option Shuffling : Yes Display Question Number : Yes
Single Line Question Option : No Option Orientation : Vertical

Correct Marks : 1 Wrong Marks : 0.25

इतिहास के पुरातत्व स्रोतों में से निम्नलिखित में से कौन सा स्रोत शामिल है/हैं?

- I. बर्तन
- II. चट्टानों पर शिलालेख
- III. टेराकोटा की मूर्तियाँ
- IV. धार्मिक साहित्य

Options :

1. ✖ I, II तथा IV

2. ✓ I, II तथा III
3. ✗ II, III तथा IV
4. ✗ I, III तथा IV

Question Number : 184 Question Id : 99836741428 Question Type : MCQ Option Shuffling : Yes Display Question Number : Yes
Single Line Question Option : No Option Orientation : Vertical

Correct Marks : 1 Wrong Marks : 0.25

Which of the following statement(s) is/are correct regarding nature of social science?

- I. Social science are advance level studies of human society.
- II. Social Science contribute to the social utility and advancement of knowledge.
- III. Social Sciences are those aspects of knowledge which have direct bearing on man's activities in different socio-cultural fields.

Options :

1. ✗ Both I and II
2. ✗ Only III
3. ✗ Both I and III
4. ✓ I, II and III

Question Number : 184 Question Id : 99836741428 Question Type : MCQ Option Shuffling : Yes Display Question Number : Yes
Single Line Question Option : No Option Orientation : Vertical

Correct Marks : 1 Wrong Marks : 0.25

निम्नलिखित में से कौन सा कथन सामाजिक विज्ञान की प्रकृति के बारे में सही है/हैं?

- I. सामाजिक विज्ञान, मानव समाज के अग्रिम स्तर के पाठ्यक्रम हैं।
- II. सामाजिक विज्ञान, सामाजिक उपयोगिता और ज्ञान की उन्नति में योगदान देता है।
- III. सामाजिक विज्ञान ज्ञान के वे पहलू हैं जिनका सीधा प्रभाव विभिन्न सामाजिक-सांस्कृतिक क्षेत्रों में मनुष्य की गतिविधियों पर पड़ता है।

Options :

1. ✗ I तथा II दोनों
2. ✗ केवल III
3. ✗ I तथा III दोनों
4. ✓ I, II तथा III

Question Number : 185 Question Id : 99836741429 Question Type : MCQ Option Shuffling : Yes Display Question Number : Yes
Single Line Question Option : No Option Orientation : Vertical

Correct Marks : 1 Wrong Marks : 0.25

Which of the following approaches adopted by social scientist in understanding political science focuses on formal apparatus of politics - government, institutions, constitutions and states?

Options :

1. ✗ Behavioural Approach
2. ✓ Legal - institutional Approach
3. ✗ Philosophical Approach
4. ✗ Psychological Approach

Question Number : 185 Question Id : 99836741429 Question Type : MCQ Option Shuffling : Yes Display Question Number : Yes
Single Line Question Option : No Option Orientation : Vertical

Correct Marks : 1 Wrong Marks : 0.25

राजनीतिक विज्ञान को समझने में सामाजिक वैज्ञानिक द्वारा अपनाए गए निम्नलिखित उपागमों में से कौन सा राजनीति के औपचारिक उपकरण- सरकार, संस्थानों, गठन तथा राज्यों पर ध्यान केंद्रित करता है?

Options :

1. ✗ व्यवहारात्मक उपागम

2. ✓ संवैधानिक- संस्थागत उपागम
3. ✗ दार्शनिक उपागम
4. ✗ मनोवैज्ञानिक उपागम

Question Number : 186 Question Id : 99836741430 Question Type : MCQ Option Shuffling : Yes Display Question Number : Yes
Single Line Question Option : No Option Orientation : Vertical

Correct Marks : 1 Wrong Marks : 0.25

Which of the following is/are feature(s) of a learner centered social science class?

- I. Creating space for exploration into social issues.
- II. Respect for multiple views.
- III. Use of multilingualism.

Options :

1. ✗ Only II
2. ✗ Only I
3. ✗ Both I and II
4. ✓ I, II and III

Question Number : 186 Question Id : 99836741430 Question Type : MCQ Option Shuffling : Yes Display Question Number : Yes
Single Line Question Option : No Option Orientation : Vertical

Correct Marks : 1 Wrong Marks : 0.25

निम्नलिखित में से कौन-से/सा एक शिक्षार्थी केन्द्रित सामाजिक विज्ञान कक्षा की विशेषता है?

- I. सामाजिक मुद्दों में अन्वेषण के लिए स्थान सृजित करना
- II. बहुदृष्टिकोण के लिए सम्मान
- III. बहुभाषावाद का उपयोग

Options :

1. ✗ केवल II
2. ✗ केवल I
3. ✗ I तथा II दोनों
4. ✓ I, II तथा III

Question Number : 187 Question Id : 99836741431 Question Type : MCQ Option Shuffling : Yes Display Question Number : Yes
Single Line Question Option : No Option Orientation : Vertical

Correct Marks : 1 Wrong Marks : 0.25

Cost price of a pen is Rs 4. If pen is sold at a profit of 150%, then what will be the selling price of pen?

Options :

1. ✗ Rs 12
2. ✗ Rs 8
3. ✓ Rs 10
4. ✗ Rs 6

Question Number : 187 Question Id : 99836741431 Question Type : MCQ Option Shuffling : Yes Display Question Number : Yes
Single Line Question Option : No Option Orientation : Vertical

Correct Marks : 1 Wrong Marks : 0.25

एक पेन का क्रय मूल्य 4 रुपये है। यदि पेन को 150% के लाभ पर बेचा गया है, तो पेन का विक्रय मूल्य क्या होगा?

Options :

1. ✗ 12 रुपये
2. ✗ 8 रुपये
3. ✓ 10 रुपये

4. ✖ 6 रुपये

Question Number : 188 Question Id : 99836741432 Question Type : MCQ Option Shuffling : Yes Display Question Number : Yes
Single Line Question Option : No Option Orientation : Vertical

Correct Marks : 1 Wrong Marks : 0.25

$\triangle EFG$ and $\triangle STU$ are similar to each other. If $(EF/ST) = (7/6)$ and area of $\triangle STU$ is 144 cm^2 , then what will be the area of $\triangle EFG$?

Options :

1. ✔ 196 cm^2

2. ✖ 154 cm^2

3. ✖ 212 cm^2

4. ✖ 188 cm^2

Question Number : 188 Question Id : 99836741432 Question Type : MCQ Option Shuffling : Yes Display Question Number : Yes
Single Line Question Option : No Option Orientation : Vertical

Correct Marks : 1 Wrong Marks : 0.25

$\triangle EFG$ तथा $\triangle STU$ एक दूसरे के समरूप हैं। यदि $(EF/ST) = (7/6)$ तथा $\triangle STU$ का क्षेत्रफल 144 से.मी.^2 है, तो $\triangle EFG$ का क्षेत्रफल क्या होगा?

Options :

1. ✔ 196 से.मी.^2

2. ✖ 154 से.मी.^2

3. ✖ 212 से.मी.^2

4. ✖ 188 से.मी.^2

Question Number : 189 Question Id : 99836741433 Question Type : MCQ Option Shuffling : Yes Display Question Number : Yes
Single Line Question Option : No Option Orientation : Vertical

Correct Marks : 1 Wrong Marks : 0.25

Which of the following statement(s) is/are correct?

- I. Product of two positive numbers = Sum of their highest common factor and least common multiple
- II. Product of two positive numbers = Product of their highest common factor and least common multiple

Options :

- ✗ Only I
- ✓ Only II
- ✗ Both I and II
- ✗ Neither I nor II

Question Number : 189 Question Id : 99836741433 Question Type : MCQ Option Shuffling : Yes Display Question Number : Yes
Single Line Question Option : No Option Orientation : Vertical

Correct Marks : 1 Wrong Marks : 0.25

निम्नलिखित में से कौन सा/से कथन सही है/हैं?

- दो धनात्मक संख्याओं का गुणनफल = उनके महत्तम समापवर्तक तथा लघुत्तम समापवर्त्य का योग
- दो धनात्मक संख्याओं का गुणनफल = उनके महत्तम समापवर्तक तथा लघुत्तम समापवर्त्य का गुणनफल

Options :

- ✗ केवल I
- ✓ केवल II
- ✗ I तथा II दोनों
- ✗ ना ही I ना ही II

Question Number : 190 Question Id : 99836741434 Question Type : MCQ Option Shuffling : Yes Display Question Number : Yes
Single Line Question Option : No Option Orientation : Vertical

Correct Marks : 1 Wrong Marks : 0.25

Which of the following statement is correct about RHS congruence of triangles?

Options :

- ✗ If three sides of one triangle are congruent to the corresponding sides of the other triangle, then two triangles are congruent
- ✗ If two angles of one triangle are congruent to the corresponding angles of the other triangle and the sides included between them are congruent, then two triangles are congruent
- ✗ If two sides of one triangle are congruent to the corresponding sides of other triangle and the angles include between them are congruent, then two triangle are congruent
- ✓ If the hypotenuse and one side of one triangle are respectively congruent to the hypotenuse and the corresponding side of the other triangle, then two right angled triangles are congruent

Question Number : 190 Question Id : 99836741434 Question Type : MCQ Option Shuffling : Yes Display Question Number : Yes
Single Line Question Option : No Option Orientation : Vertical

Correct Marks : 1 Wrong Marks : 0.25

त्रिभुजों की RHS समनुरूपता के सन्दर्भ में निम्नलिखित में से कौन सा कथन सही है?

Options :

- ✗ यदि एक त्रिभुज की तीन भुजाएँ दूसरे त्रिभुज की संगत भुजाओं के समनुरूप हैं, तो दोनों त्रिभुज समनुरूप होंगे
- ✗ यदि एक त्रिभुज के दो कोण दूसरे त्रिभुज के संगत कोणों के समनुरूप हैं तथा उनके बीच सम्मिलित भुजाएं समनुरूप हैं, तो दोनों त्रिभुज समनुरूप होंगे
- ✗ यदि एक त्रिभुज की दो भुजाएँ दूसरे त्रिभुज की संगत भुजाओं के समनुरूप हैं तथा उनके बीच सम्मिलित कोण समनुरूप हैं, तो दोनों त्रिभुज समनुरूप होंगे
- ✓ यदि एक त्रिभुज का विकर्ण तथा एक भुजा दूसरे त्रिभुज के क्रमशः विकर्ण तथा संगत भुजा के समनुरूप हैं, तो दोनों समकोण त्रिभुज समनुरूप होंगे

Question Number : 191 Question Id : 99836741435 Question Type : MCQ Option Shuffling : Yes Display Question Number : Yes
Single Line Question Option : No Option Orientation : Vertical

Correct Marks : 1 Wrong Marks : 0.25

Which of the following statement(s) is/are not correct?

I. Mean = Sum of observations/Number of observations

II. Median = Value of $\frac{1}{2}(n + 1)^{\text{th}}$ observation where n is even

III. Mode is that observation which occurs most frequently in the distribution.

Options :

1. ✖ II and III
2. ✖ Only I
3. ✔ Only II
4. ✖ I, II and III

Question Number : 191 Question Id : 99836741435 Question Type : MCQ Option Shuffling : Yes Display Question Number : Yes
Single Line Question Option : No Option Orientation : Vertical

Correct Marks : 1 Wrong Marks : 0.25

निम्नलिखित में से कौन सा/से कथन सही नहीं है?

I. माध्य = अवलोकनाओ का योग/अवलोकनाओ की संख्या

II. मध्यिका = $\frac{1}{2}(n + 1)^{\text{th}}$ का मान जहा n सम है

III. बहुलक वह अवलोकन है जो वितरण में बार बार घटित होता है

Options :

1. ✖ II तथा III
2. ✖ केवल I
3. ✔ केवल II
4. ✖ I, II तथा III

Question Number : 192 Question Id : 99836741436 Question Type : MCQ Option Shuffling : Yes Display Question Number : Yes
Single Line Question Option : No Option Orientation : Vertical

Correct Marks : 1 Wrong Marks : 0.25

Guba and Lincoln (1981) suggest that the evaluation generates five kinds of information. Which of the following is that kind of information?

I. Information about values

II. Information about standard to merits

III. Information about relevant issues

Options :

1. ✖ II and III
2. ✖ I and II
3. ✖ I and III
4. ✔ I, II and III

Question Number : 192 Question Id : 99836741436 Question Type : MCQ Option Shuffling : Yes Display Question Number : Yes
Single Line Question Option : No Option Orientation : Vertical

Correct Marks : 1 Wrong Marks : 0.25

गुबा तथा लिंकन (1981) ने यह सुझाव दिया है कि मूल्यांकन पांच प्रकार की सूचना सृजित करता है निम्नलिखित में से कौन सी उस प्रकार की सूचना है?

- I. मूल्यों के बारे में सूचना
- II. गुणों के मानकों के बारे में सूचना
- III. प्रासंगिक मुद्दों के बारे में सूचना

Options :

- 1. ✗ II तथा III
- 2. ✗ I तथा II
- 3. ✗ I तथा III
- 4. ✓ I, II तथा III

Question Number : 193 Question Id : 99836741437 Question Type : MCQ Option Shuffling : Yes Display Question Number : Yes
Single Line Question Option : No Option Orientation : Vertical

Correct Marks : 1 Wrong Marks : 0.25

Which of the following science teaching method is most suitable for small children who cannot discover truths for themselves?

- I. Deductive reference
- II. Inductive reference

Options :

- 1. ✓ Only I
- 2. ✗ Only II
- 3. ✗ Both I and II
- 4. ✗ Neither I nor II

Question Number : 193 Question Id : 99836741437 Question Type : MCQ Option Shuffling : Yes Display Question Number : Yes
Single Line Question Option : No Option Orientation : Vertical

Correct Marks : 1 Wrong Marks : 0.25

निम्नलिखित में से कौन सी विज्ञान शिक्षण विधि उन छोटे बच्चों के लिए सबसे उपयुक्त है जो स्वयं के लिए सत्य की खोज नहीं कर सकते हैं?

- I. निगमनात्मक संदर्भ
- II. आगमनात्मक संदर्भ

Options :

- 1. ✓ केवल I
- 2. ✗ केवल II
- 3. ✗ I तथा II दोनों
- 4. ✗ ना ही I ना ही II

Question Number : 194 Question Id : 99836741438 Question Type : MCQ Option Shuffling : Yes Display Question Number : Yes
Single Line Question Option : No Option Orientation : Vertical

Correct Marks : 1 Wrong Marks : 0.25

Which of the following statement regarding discovery approach to teaching science is/are correct?

- I. Some cues in the form of learning material are presented by the teacher to the students.
- II. The students using inductive thinking are expected to discover the concept or rule.

Options :

- 1. ✗ Only I
- 2. ✗ Only II
- 3. ✓ Both I and II

4. ✖ Neither I nor II

Question Number : 194 Question Id : 99836741438 Question Type : MCQ Option Shuffling : Yes Display Question Number : Yes
Single Line Question Option : No Option Orientation : Vertical

Correct Marks : 1 Wrong Marks : 0.25

विज्ञान शिक्षण के खोज उपागम के बारे में निम्नलिखित में से कौन सा/से कथन सही है?

- I. शिक्षण सामग्री के रूप में कुछ संकेत अध्यापक द्वारा छात्रों को दिए जाते हैं
- II. आगमनात्मक सोच का उपयोग करने वाले छात्रों से अवधारणा या नियम की खोज करने की उम्मीद की जाती है

Options :

- 1. ✖ केवल I
- 2. ✖ केवल II
- 3. ✔ I तथा II दोनों
- 4. ✖ ना ही I ना ही II

Question Number : 195 Question Id : 99836741439 Question Type : MCQ Option Shuffling : Yes Display Question Number : Yes
Single Line Question Option : No Option Orientation : Vertical

Correct Marks : 1 Wrong Marks : 0.25

Which of the following is/are the advantages of using discovery approach to teaching science in the classroom?

- I. Students enjoy learning because they themselves discover knowledge.
- II. There is constant interaction between content, teacher and the students resulting into development of information processing abilities of the students.

Options :

- 1. ✖ Only I
- 2. ✖ Only II
- 3. ✔ Both I and II
- 4. ✖ Neither I nor II

Question Number : 195 Question Id : 99836741439 Question Type : MCQ Option Shuffling : Yes Display Question Number : Yes
Single Line Question Option : No Option Orientation : Vertical

Correct Marks : 1 Wrong Marks : 0.25

निम्नलिखित में से कौन सा/से कक्षा में विज्ञान शिक्षण के लिए अन्वेषण उपागम का उपयोग करने के लाभ है?

- I. छात्र सीखने का आनंद लेते हैं क्योंकि वे स्वयं ज्ञान की खोज करते हैं
- II. सामग्री, शिक्षक और छात्रों के बीच निरंतर संपर्क होता है जिसके परिणामस्वरूप छात्रों की सूचना प्रसंस्करण क्षमताओं का विकास होता है

Options :

- 1. ✖ केवल I
- 2. ✖ केवल II
- 3. ✔ I तथा II दोनों
- 4. ✖ ना ही I ना ही II

Question Number : 196 Question Id : 99836741440 Question Type : MCQ Option Shuffling : Yes Display Question Number : Yes
Single Line Question Option : No Option Orientation : Vertical

Correct Marks : 1 Wrong Marks : 0.25

Which of the following statements regarding unit plan in teaching learning process is correct?

- I. It is an outline of the program of action after determining the subunits
- II. It is a detailed plan which consists of intended learning outcomes, teaching - learning strategies and activities and assessment tools for learning outcome

Options :

- 1. ✖ Only I

2. ✖ Only II
3. ✔ Both I and II
4. ✖ Neither I nor II

Question Number : 196 Question Id : 99836741440 Question Type : MCQ Option Shuffling : Yes Display Question Number : Yes
Single Line Question Option : No Option Orientation : Vertical

Correct Marks : 1 Wrong Marks : 0.25

शिक्षण अधिगम प्रक्रिया में इकाई योजना के बारे में निम्नलिखित में से कौन सा कथन सही है?

- I. यह उप - इकाई के निर्धारण के बाद कार्य के कार्यक्रम की रूपरेखा है
- II. यह एक विस्तृत योजना है जिसमें सीखने के अपेक्षित परिणाम, शिक्षण - अधिगम की रणनीतियों और गतिविधियों और सीखने के परिणामों के मूल्यांकन के उपकरण शामिल हैं

Options :

1. ✖ केवल I
2. ✖ केवल II
3. ✔ I तथा II दोनों
4. ✖ ना ही I ना ही II

Question Number : 197 Question Id : 99836741441 Question Type : MCQ Option Shuffling : Yes Display Question Number : Yes
Single Line Question Option : No Option Orientation : Vertical

Correct Marks : 1 Wrong Marks : 0.25

On which of the following points should a teacher rigorously focus on while planning a lesson?

- I. Framing the learning objective
- II. Selecting the teaching - learning strategy
- III. Selecting teaching learning activities and learning experiences

Options :

1. ✖ I and II
2. ✖ II and III
3. ✖ I and III
4. ✔ I, II and III

Question Number : 197 Question Id : 99836741441 Question Type : MCQ Option Shuffling : Yes Display Question Number : Yes
Single Line Question Option : No Option Orientation : Vertical

Correct Marks : 1 Wrong Marks : 0.25

पाठ की योजना बनाते समय शिक्षक को निम्नलिखित में से किन चीजों पर सख्ती से ध्यान केंद्रित करना चाहिए?

- I. अधिगम उद्देश्य का निर्धारण करना
- II. शिक्षण - अधिगम की रणनीति का चयन
- III. शिक्षण - अधिगम गतिविधियों और अधिगम के अनुभवों का चयन करना

Options :

1. ✖ I तथा II
2. ✖ II तथा III
3. ✖ I तथा III
4. ✔ I, II तथा III

Question Number : 198 Question Id : 99836741442 Question Type : MCQ Option Shuffling : Yes Display Question Number : Yes
Single Line Question Option : No Option Orientation : Vertical

Correct Marks : 1 Wrong Marks : 0.25

_____ is knowledge of classification, principles, models or structures pertinent to a particular disciplinary area.

Options :

1. ✖ Factual knowledge
2. ✔ Conceptual knowledge
3. ✖ Procedural knowledge
4. ✖ Metacognitive knowledge

Question Number : 198 Question Id : 99836741442 Question Type : MCQ Option Shuffling : Yes Display Question Number : Yes
Single Line Question Option : No Option Orientation : Vertical

Correct Marks : 1 Wrong Marks : 0.25

----- किसी विशेष शिक्षण क्षेत्र के लिए वर्गीकरण, सिद्धांतों, मॉडल या संरचनाओं का ज्ञान है।

Options :

1. ✖ तथ्यात्मक ज्ञान
2. ✔ वैचारिक ज्ञान
3. ✖ प्रक्रियात्मक ज्ञान
4. ✖ मेटाकोग्निटिव ज्ञान

Question Number : 199 Question Id : 99836741443 Question Type : MCQ Option Shuffling : Yes Display Question Number : Yes
Single Line Question Option : No Option Orientation : Vertical

Correct Marks : 1 Wrong Marks : 0.25

Which of the following is true about inclusive education?

- I. Changing the existing environment
- II. Differentiated teaching methods being used

Options :

1. ✖ Only I
2. ✖ Only II
3. ✔ Both I and II
4. ✖ Neither I nor II

Question Number : 199 Question Id : 99836741443 Question Type : MCQ Option Shuffling : Yes Display Question Number : Yes
Single Line Question Option : No Option Orientation : Vertical

Correct Marks : 1 Wrong Marks : 0.25

समावेशी शिक्षा के बारे में निम्नलिखित में से कौन सा सत्य है?

- I. वर्तमान वातावरण को बदलना
- II. विभेदित शिक्षण विधियों का इस्तेमाल होना

Options :

1. ✖ केवल I
2. ✖ केवल II
3. ✔ I तथा II दोनों
4. ✖ ना ही I ना ही II

Question Number : 200 Question Id : 99836741444 Question Type : MCQ Option Shuffling : Yes Display Question Number : Yes
Single Line Question Option : No Option Orientation : Vertical

Correct Marks : 1 Wrong Marks : 0.25

Which of the following is true about collaborative assessment?

- I. Focuses on abilities, strengths and needs
- II. Focus only on assessment approach

Options :

1. ✔ Only I

2. ✖ Only II
3. ✖ Both I and II
4. ✖ Neither I nor II

Question Number : 200 Question Id : 99836741444 Question Type : MCQ Option Shuffling : Yes Display Question Number : Yes
Single Line Question Option : No Option Orientation : Vertical

Correct Marks : 1 Wrong Marks : 0.25

सहयोगी मूल्यांकन के बारे में कौन सा सही है?

- I. क्षमताओं, शक्तियों और जरूरतों पर ध्यान केंद्रित करता है
- II. केवल मूल्यांकन दृष्टिकोण पर केंद्रित है

Options :

1. ✔ केवल I
2. ✖ केवल II
3. ✖ I तथा II दोनों
4. ✖ ना ही I ना ही II